

Prefeitura Municipal de Hortolândia
Secretaria de Educação, Ciência e Tecnologia

Unidade Escolar: EMEF Salvador Zacharias Pereira Júnior
Professores: Rejane, Lindsey, Adriana Paula, Elisângela, Sandra e Deyse.
Componente Curricular: Língua Portuguesa, Matemática, História, Geografia e Ciências.
Ano/Turmas: 2º anos A, B, C, D, E, F.
Data para realização das atividades: 08/03 a 12/03

Nome: _____ 2º ano _____

Professora: _____

QUERIDOS ALUNOS!
COMEÇAMOS MAIS UMA SEMANA CHEIA DE ATIVIDADES
DIVERTIDAS PARA VOCÊS!
SE TIVEREM DÚVIDAS NÃO SE ESQUEÇA DE ENVIAR UMA
MENSAGEM NO WHATSAPP DO SEU PROFESSOR OU
PROFESSORA.
UMA ÓTIMA SEMANA!



Dia da Semana	Rotina Diária: Descrição das Atividades
Segunda-Feira 08/03/2021	Leitura diária: UM AMOR DE FAMÍLIA - ZIRALDO LÍNGUA PORTUGUESA: Leitura e interpretação da música - QUANDO EU ERA NENÉM . Questionário sobre as fases da vida. Atividade de separação das palavras dentro de uma frase. Palavras que têm o mesmo som (RIMA).
Terça-feira 09/03/2021	Leitura diária: Comigo não, camaleão Autor: Evelyn Rocha MATEMÁTICA: Analisar a figura e exercícios sobre a sequência numérica, ordem dos números, valor posicional e dias da semana. EDUCAÇÃO FÍSICA: Dê uma olhadinha no Blog na atividade que o professor preparou para você.
Quarta-feira 10/03/2021	Leitura diária: "Euzinha" - Autora Katia Rocha (acesso em 23/02/2021) HISTÓRIA: Leitura de texto sobre o "tempo"/ Atividades. ARTE: Use sua criatividade! Dê uma olhadinha no Blog de Arte.
Quinta-feira 11/03/2021	Leitura diária: "Lobinho e a porta" - Autora: Silvana Rando (acesso em 23/02/2021) GEOGRAFIA: Leitura do texto "Durante o dia realizamos diversas atividades"/ Atividades. INGLÊS: St Patrick's Day
Sexta-feira 12/03/2021	Leitura diária: "Bom dia todas as cores" DE Ruth Rocha CIÊNCIAS: O corpo humano / Atividades

ATENÇÃO:

ANTES DE COMEÇAR A REALIZAR AS ATIVIDADES CLIQUE NO LINK ABAIXO E ASSISTA AS ORIENTAÇÕES

<https://youtu.be/j1aSqxWAXgs>

ATENÇÃO

TODOS OS DIAS, ANTES DE COMEÇAR AS ATIVIDADES, VOCÊ DEVERÁ FAZER O CABEÇALHO EM SEU CADERNO, SEGUINDO ESSE MODELO E PREENCHENDO AS INFORMAÇÕES.

EMEF SALVADOR ZACHARIAS PEREIRA JUNIOR

HORTOLÂNDIA, ____ DE MARÇO DE 2021

NOME COMPLETO: _____

PROFESSORA: _____

SEGUNDA-FEIRA – 08/03/2021 LÍNGUA PORTUGUESA

LEITURA DIÁRIA: UM AMOR DE FAMÍLIA - ZIRALDO

CLIQUE NO LINK E ACESSE A LEITURA:

https://drive.google.com/file/d/1vmDueopifDAhB905onoxy_tzFX1fpFug/view?usp=sharing

OLÁ FAMÍLIA E ALUNOS!

ESSA SEMANA IREMOS APRENDER SOBRE AS FASES DA VIDA DE UMA FORMA DIVERTIDA.

PARA COMEÇARMOS CLIQUE NO LINK ABAIXO E ASSISTA AO VÍDEO DA DUPLA PATATI PATATÁ - **QUANDO EU ERA NENÉM**,

<https://www.youtube.com/watch?v=2UE02eff9JY>.

AGORA É SÓ CANTAR JUNTO, SEGUINDO A LETRA DA MÚSICA A SEGUIR:

QUANDO EU ERA NENÉM

QUANDO EU ERA NENÉM,

NENÉM, NENÉM.

EU ERA ASSIM

EU ERA ASSIM

QUANDO EU ERA CRIANÇA,

CRIANÇA, CRIANÇA

EU ERA ASSIM

EU ERA ASSIM

QUANDO EU ERA MOCINHA

MOCINHA, MOCINHA

EU ERA ASSIM

EU ERA ASSIM

QUANDO EU ERA MULHER

MULHER, MULHER

EU ERA ASSIM

EU ERA ASSIM

QUANDO EU ERA VELHINHA

VELHINHA, VELHINHA

EU ERA ASSIM

EU ERA ASSIM.

AGORA QUE VOCÊ JÁ SABE A LETRA DA MÚSICA, RESPONDA AS QUESTÕES ABAIXO EM SEU CADERNO:

1 – QUAL O TÍTULO DA MÚSICA?

2 – QUAIS AS FASES DA VIDA QUE ESTÃO DESCRITAS NA MÚSICA?

3 – QUAL A FASE DA VIDA QUE VOCÊ SE ENCONTRA?

4 – LEIA AS FRASES A SEGUIR, SEPRE AS PALAVRAS COM UM TRAÇO E REESCREVA-AS EM SEU CADERNO:

A) QUANDO EU ERA NENÉM.

B) A CRIANÇA BRINCA DE BOLANOPARQUE.

VOCÊ SABE O QUE SÃO RIMAS?

SÃO PALAVRAS QUE COMBINAM, PODENDO TER SONS IDÊNTICOS NAS SÍLABAS FINAIS DAS PALAVRAS MESMO QUANDO AS LETRAS SÃO DIFERENTES:

ANEL RIMA COM PAPEL
DENTE RIMA COM PENTE

5 –LEIA AS PALAVRAS ABAIXO E ESCREVA, EM SEU CADERNO, OUTRAS QUE RIMAM:

A) CRIANÇA

B) MULHER

C) VELHINHA

TERÇA-FEIRA 09/03/2021 MATEMÁTICA

LEITURA DIÁRIA: Comigo não, camaleão Autor: Evelyn Rocha

CLIQUE NO LINK E ACESSE A LEITURA: www.divertudo.com.br/ebook/camaleao.pdf

OBSERVE AS FIGURAS ABAIXO E RESPONDA AS QUESTÕES EM SEU CADERNO:



1. QUANTAS PEÇAS DE ROUPAS HÁ NA FIGURA?

2. ESCREVA ESSA QUANTIDADE POR EXTENSO.


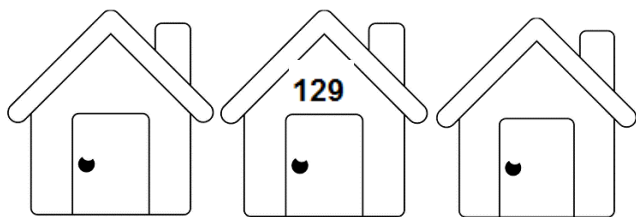


3. SE COMPRARMOS MAIS 3 PEÇAS DE ROUPA, COM QUANTAS PEÇAS FICAREMOS?

4) COMPLETE AS SEQUÊNCIAS COM OS NÚMEROS QUE FALTAM:

A) 11 – 12 – 13 - ____ - 15 - 16 – 17--

B) 95 – 96 - 97 –98 - ____ – 100 – 101---____ --102 –103 -- ____

5) E AGORA, EM SEU CADERNO, DESENHE AS CASINHAS E COLOQUE OS VIZINHOS DOS NÚMEROS ABAIXO:



6) OBSERVE OS NÚMEROS ABAIXO, ELES ESTÃO FORA DE ORDEM. EM SEU CADERNO COPIE-OS EM ORDEM CRESCENTE E DEPOIS ESCREVA POR EXTENSO COMO SE LÊ:



81 10 52 123 79 67 200 130 94 3

QUARTA-FEIRA – 10/03/2021 HISTÓRIA

LEITURA DIÁRIA: “EUZINHA” - KATIA ROCHA.

CLIQUE NO LINK E ACESSE A LEITURA: [http://www.educardpaschoal.org.br/web/files/files/Euzinha\(1\).pdf](http://www.educardpaschoal.org.br/web/files/files/Euzinha(1).pdf)

LEIA A CHARADA ABAIXO COM MUITA ATENÇÃO E TENDE DESVENDAR O ENIGMA E DESCOBRIR A RESPOSTA

- O QUE É O QUE É?

"HÁ QUEM O MATE POR QUERER,
SEM LHE TIRAR NUNCA A VIDA.
POBRE É TODO O QUE O PERDER,
E TEM MAIS QUE UMA MEDIDA".

SE VOCÊ RESPONDEU QUE É O **TEMPO**, ACERTOU!

A PASSAGEM DO TEMPO SE DÁ ENTRE O PASSADO (ALGO QUE JÁ ACONTECEU), O PRESENTE (ESTÁ ACONTECENDO AGORA) E O FUTURO (ALGO QUE AINDA IRÁ ACONTECER).

O TEMPO TAMBÉM PODE SER MEDIDO ATRAVÉS DAS HORAS, DIAS, MESES, ANOS, POR EXEMPLO.

O TEMPO É MUITO PRECIOSO, POR ISSO, DEVEMOS APROVEITÁ-LO COM QUALIDADE!

FAÇA AS ATIVIDADES ABAIXO COM MUITO CAPRICO EM SEU CADERNO:

1) OBSERVE AS IMAGENS ABAIXO, ELAS REPRESENTAM AS DIFERENTES FASES DA VIDA.

a) EM SEGUIDA, COPIE AS PALAVRAS EM SEU CADERNO E DEPOIS PREENCHA AS LACUNAS COM AS LETRAS FALTANTES:



ADUL _ _



_ _ BÊ



I _ _ SO



_ _ _ ANÇA



_ DO _ _ _ CENTE

b) AGORA, DE ACORDO COM AS FIGURAS ACIMA, ESCREVA EM SEU CADERNO CADA FASE DA VIDA PELA QUAL PASSAMOS, NA SEQUÊNCIA CORRETA:

1 - _____

2 - _____

3 - _____

4 - _____

5 - _____

2) OBSERVE O CALENDÁRIO, QUE É UMA MEDIDA DE TEMPO E RESPONDA EM SEU CADERNO:



a) QUANTOS E QUAIS SÃO OS DIAS DA SEMANA?

b) EM QUAIS DIAS DA SEMANA TEMOS ATIVIDADES ESCOLARES PARA FAZER?

c) DE QUE MÊS É ESSE CALENDÁRIO?

d) QUANTOS DIAS TEM NESSE MÊS?

3) OBSERVE A TABELA ABAIXO: OS DIAS DA SEMANA ESTÃO BAGUNÇADOS.

SEXTA-FEIRA	QUARTA-FEIRA	SÁBADO	DOMINGO	TERÇA-FEIRA	QUINTA-FEIRA	SEGUNDA-FEIRA
-------------	--------------	--------	---------	-------------	--------------	---------------

POR FAVOR, AJUDE A ORGANIZÁ-LOS. ESCREVA, EM SEU CADERNO, OS DIAS DA SEMANA NA ORDEM CORRETA:

QUINTA-FEIRA - 11/03/2021 GEOGRAFIA

LEITURA DIÁRIA: "LOBINHO E A PORTA" - Silvana Rando

CLIQUE NO LINK E ACESSE A LEITURA:

http://www.educardpaschoal.org.br/web/files/files/Livro_%20Lobinho%20e%20a%20Porta.pdf

DURANTE O DIA REALIZAMOS DIVERSAS ATIVIDADES

VOCÊ JÁ REPAROU QUANTAS COISAS PODEMOS FAZER EM UM DIA? DESDE QUANDO ACORDAMOS ATÉ O MOMENTO EM QUE VAMOS DORMIR, REALIZAMOS MUITAS ATIVIDADES. ALGUMAS FAZEMOS TODOS OS DIAS, COMO TOMAR BANHO, POR EXEMPLO; MAS OUTRAS NÃO.

PODEMOS DIVIDIR O DIA EM TRÊS PERÍODOS: MANHÃ, TARDE E NOITE. GERALMENTE, REALIZAMOS ATIVIDADES ESPECÍFICAS DE CADA PERÍODO, POR EXEMPLO: JANTAMOS, NO PERÍODO DA NOITE.

AS CRIANÇAS REALIZAM ATIVIDADES PRÓPRIAS PARA SUA FASE DE VIDA, COMO BRINCAR E ESTUDAR. JÁ OS ADULTOS, FAZEM OUTROS TIPOS DE ATIVIDADES COMO, POR EXEMPLO, TRABALHAR.

Texto adaptado. Fonte: EDITORA MODERNA (ORG.); JOMAA, L. Y. (Editora responsável). **Buriti Mais: Geografia: manual do professor**. 1. ed. São Paulo: Moderna, 2017.

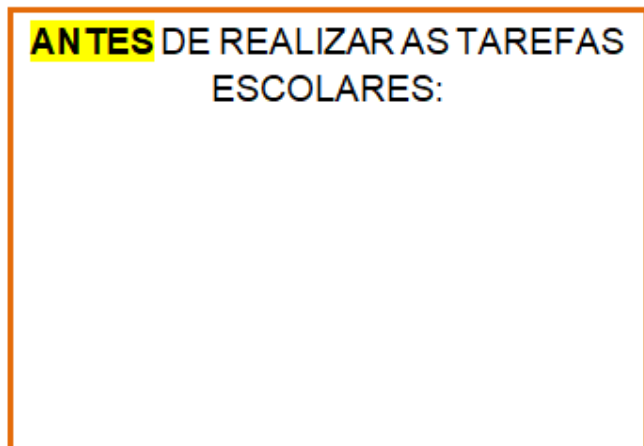
AGORA FAÇA AS ATIVIDADES ABAIXO EM SEU CADERNO:

- 1) **OBSERVE COMO ANINHA ORGANIZOU AS TAREFAS QUE ELA REALIZA NO DIA, EM SUA AGENDA ELA FEZ UMA TABELA PARA FACILITAR. EM SEU CADERNO, FAÇA COMO ANINHA E ESCREVA TRÊS ATIVIDADES QUE VOCÊ REALIZA EM CADA UM DOS PERÍODOS DO DIA (MANHÃ, TARDE E NOITE):**

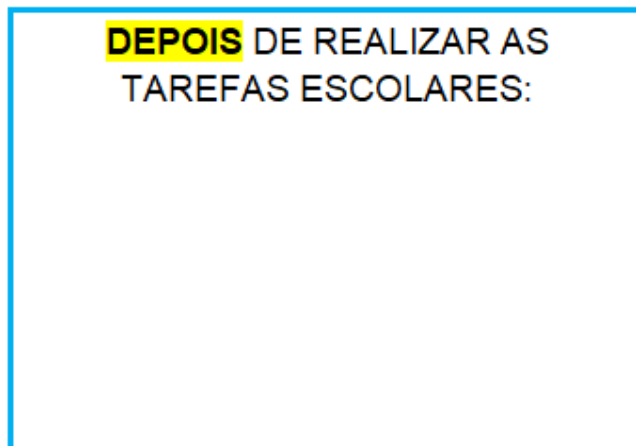
PERÍODO DA MANHÃ	1.
	2.
	3.
PERÍODO DA TARDE	1.
	2.
	3.
PERÍODO DA NOITE	1.
	2.
	3.

2) OBSERVE OS QUADROS ABAIXO E DESENHE 2 QUADROS IGUAIS EM SEU CADERNO. PARA CADA QUADRO, DESENHE UMA ATIVIDADE QUE VOCÊ COSTUMA FAZER:

ANTES DE REALIZAR AS TAREFAS ESCOLARES:



DEPOIS DE REALIZAR AS TAREFAS ESCOLARES:



RESPONDA EM SEU CADERNO:

a) EM QUE PERÍODO DO DIA SEUS FAMILIARES (QUE MORAM COM VOCÊ) TRABALHAM?

b) EM QUE ELES TRABALHAM?

3) DESENHE UMA ATIVIDADE QUE VOCÊ GOSTA DE REALIZAR JUNTO COM A SUA FAMÍLIA (EXEMPLOS: PASSEIOS, IGREJA, BRINCADEIRAS, ESTUDAR, ENTRE OUTRAS).

FAÇA

NOME DA ATIVIDADE: _____

PERÍODO DO DIA QUE VOCÊS REALIZAM A ATIVIDADE JUNTOS: _____

SEXTA-FEIRA – 12/03/21 CIÊNCIAS

LEITURA DIÁRIA: “BOM DIA TODAS AS CORES” DE RUTH ROCHA

CLIQUE NO LINK E ACESSE A LEITURA: <https://www.youtube.com/watch?v=lzD3jfsfOQ4>

O CORPO HUMANO

O CORPO HUMANO É DIVIDIDO EM TRÊS PARTES: CABEÇA; TRONCO E MEMBROS. A **CABEÇA** É O LUGAR ONDE TEMOS OS ÓRGÃOS QUE NOS AJUDAM A SENTIR DIVERSAS COISAS. O **TRONCO** É O LUGAR ONDE FICAM OS ÓRGÃOS QUE FAZEM NOSSO CORPO FUNCIONAR TÃO BEM E NOS DÁ SUSTENTAÇÃO COMO O PESCOÇO, BARRIGA E PEITO.

NÓS TEMOS OS **MEMBROS SUPERIORES**, QUE SÃO OS BRAÇOS E AS MÃOS. ELES FICAM MAIS PERTO DA PARTE DE CIMA DO NOSSO CORPO, PERTO DO PEITO E DA BARRIGA E TEMOS TAMBÉM TEMOS OS **MEMBROS INFERIORES**, QUE SÃO AS PERNAS E OS PÉS. ELES NOS AJUDAM NAS BRINCADEIRAS DE CORRER, DE PULAR E TAMBÉM QUANDO PRECISAMOS SUBIR EM ALGUM LUGAR.

- 1 EM SEU CADERNO COPIE A MÚSICA ABAIXO E DEPOIS COMPLETE O POEMA COM AS PALAVRAS DO QUADRO:

OLHOS - NARIZ - BOCA - OUVIDOS - PERNAS - CABEÇA - PÉS

EU SOU ASSIM...

REGINA VILLAÇA

EU SOU ASSIM:

TENHO DOIS OLHOS,

UM NARIZ, UMA BOCA

E DOIS OUVIDOS

COM OS _____

TUDO VEJO.

COM O _____

SINTO TODOS OS CHEIROS.

COM A _____

SINTO SABORES

E COM OS _____ OUÇOS

SONS E RUÍDOS.

O MEU CORPO É DIVIDIDO EM:

CABEÇA, TRONCO, BRAÇOS E

QUE ME LEVAM PARA ONDE QUERO.

DENTRO DA _____ TENHO O CÉREBRO,

QUE É UM ÓRGÃO PRECIOSO

PARA EU SER VIVO E PENSANTE

E TER UMA VIDA EMOCIONANTE!

CUIDO BEM DO MEU CORPO

PORQUE ELE É IMPORTANTE

DOS _____ À CABEÇA,

TUDO NELE É INTERESSANTE!



2) EM SEU CADERNO FAÇA UMA TABELA IGUAL A TABELA ABAIXO E DEPOIS ESCREVA ONDE FICA AS PARTES DO CORPO DESCRITAS NO QUADRO:

LÍNGUA - BARRIGA - MÃO - PÉ - OLHOS - UMBIGO -
COTOVELO - PERNA - NARIZ - COSTAS - BRAÇO - JOELHO -
BOCA - PEITO - UNHAS DA MÃO - COXA.

CABEÇA	TRONCO	MEMBROS SUPERIORES	MEMBROS INFERIORES

PARABÉNS! VOCÊ CONCLUIU AS ATIVIDADES DA SEMANA. NÃO ESQUEÇA DE ENVIAR AS FOTOS DE SUAS ATIVIDADES PARA SUA PROFESSORA.

Querido aluno, escreva para nós!

E-mail segundoano.emefsalvador@gmail.com

(no campo "assunto" escreva o nome da sua professora)

REFERÊNCIAS BIBLIOGRÁFICAS

MÚSICA SEM AUTOR - <https://www.letras.mus.br/sucessos-da-minha-escolinha/793215/> - acessado em 23/02/2021.

_____. Adivinhas – Solução: [Tempo]. Citador. Disponível em:

<<https://www.citador.pt/adivinhas.php?op=7&solution=Tempo&firstrec=0>> Acesso em 22/02/2021.

CHARLIER, A. M.; SIMIELLI, M. E. **Ápis História, 2º ano: ensino fundamental, anos iniciais (manual do professor)**. 2. ed. São Paulo: Ática, 2017.

EDITORA MODERNA (ORG.); VASCONCELOS, L. R. de S. (Editora responsável). **Buriti Mais: História: manual do professor**. 1. ed. São Paulo: Moderna, 2017.

IMAGEM AVÔ. Disponível em:< https://cdn.pixabay.com/photo/2019/08/07/00/13/grandfather-4389449_960_720.png> Acesso em 22/02/2021.

IMAGEM BEBÊ MENINA. Disponível em: <https://cdn.pixabay.com/photo/2014/11/12/22/44/baby-528887_960_720.png> Acesso em 22/02/2021.

IMAGEM MENINA. Disponível em: <https://cdn.pixabay.com/photo/2016/06/08/09/20/baby-girl-1443463_960_720.png> Acesso em 22/02/2021

IMAGEM MENINO ADOLESCENTE. Disponível em:

<https://cdn.pixabay.com/photo/2013/07/13/13/56/boy-161793_960_720.png> Acesso em 23/02/2021

IMAGEM MENINO ADULTO. Disponível em: <https://cdn.pixabay.com/photo/2013/07/12/14/07/boy-147796_960_720.png> Acesso em 22/02/2021.

EMAI & LER E. ESCREVER. Ensino Fundamental. VOLUME 1 – **2o ANO**. CADERNO DO ALUNO.

Disponível em: https://efape.educacao.sp.gov.br/curriculopaulista/wp-content/uploads/sites/7/2020/02/Material-apoio_Aluno_CP_2020_1vol_2EF.pdf Acesso em: 23/02/2021.

EDITORA MODERNA (ORG.); JOMAA, L. Y. (Editora responsável). **Buriti Mais: Geografia: manual do professor**. 1. ed. São Paulo: Moderna, 2017.

SIMIELLI, M. E. **Ápis Geografia, 2º ano: ensino fundamental, anos iniciais (manual do professor)**. 2. ed. São Paulo: Ática, 2017.

DIANA, Juliana. Partes do corpo humano. Disponível em <https://www.todamateria.com.br/partes-corpo-humano-kids/>. Acesso em 20 fev. 2021.