


Unidade Escolar: EMEF Salvador Zacharias Pereira Júnior
Professores: Érika, Elieti, Lidiane, Paula, Fabiana, Edgleyne, Lindsey, Marli.
Componente Curricular: Língua Portuguesa, Matemática, História, Geografia e Ciências.
Ano/Turmas: 1ºs. ANOS A, B, C, D, E, F, G, H
Data para realização das atividades: 26/07/2021 a 30/07/2021

OLÁ PESSOAL!!!

Nós somos o que repetidamente fazemos.
A excelência, então, não é um ato, mas um hábito.

**NÃO DEIXE DE FAZER!
NÃO DEIXE ACUMULAR!
FAÇA COM CAPRICO E ENVIE AS FOTOS NO PARTICULAR DA PRO. TENDO DÚVIDAS CHAME. E SE CUIDEM!!**

BEIJINHOS!!




<https://gshow.globo.com/Famosos/noticia/inspire-se-nas-frases-motivacionais-dos-famosos-para-o-ano-novo.ghtm>

Dia da Semana	Rotina Diária: Descrição das Atividades
SEGUNDA-FEIRA 26/07/2021	LEITURA DIÁRIA: “PRIMEIRO DIA DE AULA NA FLORESTA” - AUTORES: CAMILA MOUTINHO E DANIEL ORDANE – ACESSO EM 20/07/21. CABEÇALHO ATIVIDADES: SÍLABAS, ESCRITA, LETRAS E SONS, RIMAS, CONSCIÊNCIA FONOLÓGICA. INGLÊS: SNACKS (LANCHINHOS) PÁGINA 51
TERÇA-FEIRA 27/07/2021	LEITURA DIÁRIA: “LIVRO DOS NÚMEROS, BICHOS E FLORES” - AUTORA: CLÉO BUSATTO – ACESSO EM 20/07/21. CABEÇALHO ATIVIDADE: CONTAGEM, ESTIMATIVA, COMPARAÇÃO, ADIÇÃO E SUBTRAÇÃO, CÁLCULOS MENTAIS, RESOLUÇÃO DE PROBLEMAS.
QUARTA-FEIRA 28/07/2021	LEITURA DIÁRIA: “FAMÍLIA TODO MUNDO TEM” - AUTORA: DENISE MOURA DE OLIVEIRA – ACESSO EM 20/07/21 CABEÇALHO ATIVIDADE: FAMÍLIA: DIFERENTES SUJEITOS EM DIFERENTES LUGARES ARTE – USE SUA CRIATIVIDADE!!! DÊ UMA OLHADINHA NO PORTAL NA ATIVIDADE DE ARTE!
QUINTA-FEIRA 29/07/2021	LEITURA DIÁRIA: “O RELÓGIO QUE PERDEU A HORA” AUTORA: FLÁVIO COLOMBINI – ACESSO EM 20/07/21. CABEÇALHO ATIVIDADE: ESPAÇOS PÚBLICO E PRIVADO.
SEXTA-FEIRA 30/07/2021	LEITURA DIÁRIA: “A BRUXA E O CALDEIRÃO” - AUTORA: JOSÉ LEON MACHADO – ACESSO EM 20/07/21. CABEÇALHO ATIVIDADE: MATERIAIS E OBJETOS.... DE QUE SÃO FEITOS? ED. FÍSICA: DÊ UMA OLHADINHA NO PORTAL NA ATIVIDADE QUE O PROFESSOR PREPAROU.

ATENÇÃO

TODOS OS DIAS, ANTES DE COMEÇAR AS ATIVIDADES, VOCÊ DEVERÁ FAZER O CABEÇALHO EM SEU CADERNO, SEGUINDO ESSE MODELO E PREENCHENDO AS INFORMAÇÕES.

EMEF SALVADOR ZACHARIAS PEREIRA JUNIOR

HORTOLÂNDIA, ____ DE JULHO DE 2021

NOME COMPLETO: _____

PROFESSORA: _____

SEGUNDA-FEIRA – 26/07/2021

LEITURA DIÁRIA: “PRIMEIRO DIA DE AULA NA FLORESTA”

AUTORES: CAMILA MOUTINHO E DANIEL ORDANE

CLIQUE NO LINK E ACESSE A HISTÓRIA:

[HTTPS://YOUTU.BE/F7-UL2WTH3S](https://youtu.be/f7-ul2wth3s)

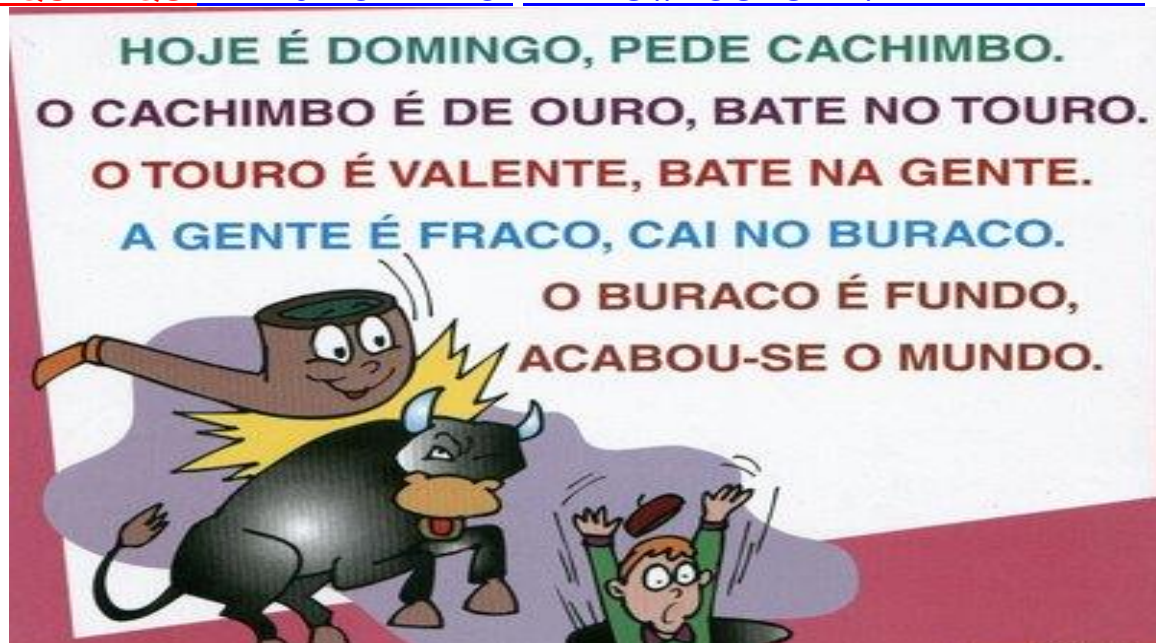
TUDO BEM CRIANÇADA!

VAMOS CONTINUAR TRABALHANDO COM AS RIMAS, ATRAVÉS DA PARLENDA.

MAS...O QUE É PARLENDA MESMO??

PARLENDA SÃO VERSOS INFANTIS ANTIGOS, PASSADA DE GERAÇÃO EM GERAÇÃO, RECITADOS ORALMENTE E QUE FAZ PARTE DAS MANIFESTAÇÕES ORAIS DA CULTURA POPULAR, SENDO UM ELEMENTO DO FOLCLORE BRASILEIRO. AS **PARLENDAS** ENCANTAM AS **CRIANÇAS** PELAS **RIMAS** E VERSOS CANTADOS EM BRINCADEIRAS E MÚSICAS. POSSUI UM DETERMINADO **RITMO**, FACILITANDO A COMPREENSÃO.

CLIQUE AQUI E VEJA O VÍDEO: [HTTPS://YOUTU.BE/YNFBZ1VFHTK](https://youtu.be/ynfbz1vfhtk)



http://primundoetrado.blogspot.com/p/alfabetizacao_01.html

1) COPIE A PARLENDAS NO CADERNO E RESPONDA AS QUESTÕES:

A) VAMOS DESCOBRIR QUAIS SÃO AS RIMAS ENCONTRADAS NA PARLENDAS? PINTE COM LÁPIS COLORIDO TODAS QUE ENCONTRAR, COM DIFERENTES CORES, COMO APARECE NO TEXTO ACIMA.
(SÃO 5 DUPLAS DE PALAVRAS)

B) EM SEU CADERNO, COPIE CONFORME A TABELA ABAIXO, NA PRIMEIRA COLUNA, OS NOMES/PALAVRAS RIMADAS QUE ENCONTROU E PINTOU NO EXERCÍCIO ANTERIOR. DEPOIS, ESCREVA A LETRA INICIAL E FINAL DE CADA UMA, E CONTE A QUANTIDADE DE LETRAS E NA ÚLTIMA COLUNA, ANOTE QUANTAS VEZES MEXEMOS A BOQUINHA PARA PRONUNCIAR CADA PALAVRA, PRESTANDO ATENÇÃO NO SOM DAS LETRAS E NO FORMATO DE SUA BOQUINHA.
(LEMBRANDO QUE SÃO 10 PALAVRAS AO TODO)

NOME PALAVRA	LETRA INICIAL	LETRA FINAL	QUANTIDADE DE LETRAS	QUANTIDADE DE SÍLABAS

<http://portaldoprofessor.mec.gov.br/fichaTecnicaAula.html?aula=50518>

2) LEIA EM VOZ ALTA ESTAS PALAVRAS:

BARRO – JARRO – FINO - SINO

VOCÊ PERCEBEU QUANTAS VEZES MOVIMENTOU A BOCA PARA PRONUNCIÁ-LAS?

REPRESENTANDO OS PEDACINHOS EM SEU CADERNO, PINTE OS QUADRADINHOS DE ACORDO COM A QUANTIDADE CORRETA, CONFORME MODELO ABAIXO:

BARRO

Quantas letras tem a palavra?

--	--	--	--	--	--	--	--

Quantas vezes abrimos a boca para falar?



--	--	--	--

JARRO

Quantas letras tem a palavra?

--	--	--	--	--	--	--	--

Quantas vezes abrimos a boca para falar?



--	--	--	--

FINO

Quantas letras tem a palavra?

--	--	--	--	--	--	--	--

Quantas vezes abrimos a boca para falar?



--	--	--	--

SINO

Quantas letras tem a palavra?

--	--	--	--	--	--	--	--

Quantas vezes abrimos a boca para falar?



--	--	--	--

<http://portaldoprofessor.mec.gov.br/fichaTecnicaAula.html?aula=50518>

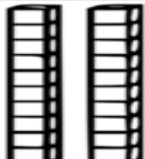



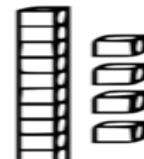

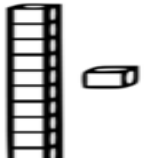



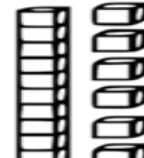

3) NOTOU QUE APESAR DE SEREM PALAVRAS DIFERENTES POSSUI SEMELHANÇAS? QUAIS SÃO ESSAS SEMELHANÇAS?

TERÇA-FEIRA 27/07/21

**LEITURA DIÁRIA: "LIVRO DOS NÚMEROS, BICHOS E FLORES"
AUTORA: CLÉO BUSATTO**

LIQUE NO LINK E ACESSE A HISTÓRIA:
<https://youtu.be/TNnXJEIZAnk>

1) CONTE O MATERIAL DOURADO E NO CADERNO ANOTE AS QUANTIDADES:

<https://alfakids.org/atividades-educativas-de-matematica-numeros-naturais/>

1) OBSERVE AS FIGURAS NA TABELA ABAIXO E RESPONDA EM SEU CADERNO:

DIEGO, EDUARDO E GABRIEL POSSUEM AS SEGUINTESS COLEÇÕES CADA UM:

DIEGO	EDUARDO	GABRIEL
		

- A) QUEM POSSUI A COLEÇÃO MAIOR?
- B) QUEM POSSUI A COLEÇÃO MENOR?
- C) QUAL DOS TRÊS TEM MAIS CARRINHOS VERMELHOS NA COLEÇÃO?
- D) E CARRINHOS AZUIS, QUAL DOS TRÊS TEM MAIS?
- E) COMPLETE A TABELA COM A QUANTIDADE TOTAL DE CARRINHOS:

<https://planosdeaula.novaescola.org.br/fundamental/1ano/matematica/comparando-e-justificando-quantidades-com-numeros/1186>

QUARTA-FEIRA 28/07/2021

**LEITURA DIÁRIA: “FAMÍLIA TODO MUNDO TEM”
AUTORA: DENISE MOURA DE OLIVEIRA**

CLIQUE NO LINK E ACESSE O VÍDEO:

<https://youtu.be/xCAKH0xFjgo>

[CLIQUE AQUI E ASSISTA O VÍDEO:
HTTPS://YOUTU.BE/OUeAFQ_XJRG](https://youtu.be/OUeAFQ_XJRG)



<https://pt.vecteezy.com/arte-vetorial/2684693-happy-black-family-holding-hands-and-walking-vector-illustration>



1) **VAMOS REFLETIR UM POUCO SOBRE AS FAMÍLIAS E O PAPEL DE CADA MEMBRO...**

*** RESPONDA NO CADERNO:**

A) TODAS AS FAMÍLIAS TÊM MÃE?

B) TODOS TÊM IRMÃOS?

C) TODAS AS FAMÍLIAS TÊM A MESMA QUANTIDADE DE INTEGRANTES?

D) É SEMPRE O PAI QUEM TRABALHA FORA E TRAZ DINHEIRO PARA A FAMÍLIA? ENTÃO QUEM MAIS FAZ ISSO?

<https://portalhistoria.net.br/content/cada-um-na-fam%C3%ADlia-tem-seu-papel>

QUINTA- FEIRA 29/07/2021

**LEITURA DIÁRIA: “O RELÓGIO QUE PERDEU A HORA”
AUTORA: FLÁVIO COLOMBINI**

**CLIQUE NO LINK E ACESSE O VÍDEO:
<https://youtu.be/6gVleACdAUE>**

VAMOS RELEMBRAR:

- **O ESPAÇO PÚBLICO** É AQUELE DE USO COMUM E POSSE DE TODOS. ... E QUE A MANUTENÇÃO É DE RESPONSABILIDADE DO MUNICÍPIO, ESTADO OU UNIÃO. OS ESPAÇOS **PRIVADOS** SÃO DE PROPRIEDADE **PRIVADA** (PESSOAS OU EMPRESAS), OU SEJA, CASAS, LOJAS COMERCIAIS...

VOCÊS CONHECEM ESSES ESPAÇOS?



<https://planosdeaula.novaescola.org.br/fundamental/1ano/geografia/espacos-publicos-e-privados/4871>

1) EM SEU CADERNO ESCREVA:

- A) QUAIS DESSES LUGARES ACIMA PODEM SER UTILIZADOS POR VÁRIAS PESSOAS AO MESMO TEMPO?
- B) QUAIS DESTES ESPAÇOS ACIMA PODEM SER UTILIZADOS APENAS POR PESSOAS CONHECIDAS OU QUE RECEBAM AUTORIZAÇÃO PARA ACESSÁ-LO?


SEXTA-FEIRA 30/07/2021

**LEITURA DIÁRIA: “A BRUXA E O CALDEIRÃO”
AUTORA: JOSÉ LEON MACHADO**

**CLIQUE NO LINK E ACESSE O VÍDEO:
<https://youtu.be/60AUf55GVjs>**

OBJETOS E MATERIAIS: O QUE É ISSO? DO QUE ISSO É FEITO?

VOCÊ JÁ NOTOU A VARIEDADE DE OBJETOS QUE EXISTEM AO NOSSO REDOR? VEJA, NAS IMAGENS A SEGUIR, COMO UM MESMO MATERIAL PODE SER UTILIZADO PARA A FABRICAÇÃO DE DIFERENTES OBJETOS E COMO OS OBJETOS SÃO FEITOS DE DIFERENTES MATERIAIS.



TAMBÉM PODEMOS DIZER QUE HÁ DIFERENTES MATERIAIS PARA UM MESMO OBJETO.

<https://planosdeaula.novaescola.org.br/fundamental/2ano/ciencias/objetos-e-materiais/1787>

LEIA AS PALAVRAS DO QUADRO ABAIXO:

MADEIRA

TECIDO

METAL

VIDRO

PAPEL

1) VAMOS DESCOBRIR DE QUE MATERIAL É FEITO CADA OBJETO?
ANOTE EM SEU CADERNO.



REFERÊNCIAS BIBLIOGRÁFICAS

http://primundolettrado.blogspot.com/p/alfabetizacao_01.html

<http://portaldoprofessor.mec.gov.br/fichaTecnicaAula.html?aula=50518>

<https://alfakids.org/atividades-educativas-de-matematica-numeros-naturais/>

<https://planosdeaula.novaescola.org.br/fundamental/1ano/matematica/comparando-e-justificando-quantidades-com-numeros/1186>

<https://pt.vecteezy.com/arte-vetorial/2684693-happy-black-family-holding-hands-and-walking-vector-illustration>

<https://portalhistoria.net.br/content/cada-um-na-fam%C3%ADlia-tem-seu-papel>

<https://planosdeaula.novaescola.org.br/fundamental/1ano/geografia/espacos-publicos-e-privados/4871>

<https://planosdeaula.novaescola.org.br/fundamental/2ano/ciencias/objetos-e-materiais/1787>