

EMEF Samuel da Silva Mendonça

2º ANO

DATA: Quinzenal de 03/11 a 12/11

QUADRO DE ESTUDOS DIÁRIOS

Escola: EMEF SAMUEL DA SILVA MENDONÇA

Professor (as): Daniela, Eliane, Rosi e Susi

Ano/turma: 2ºs Anos A, B, C e D

Querido (a) aluno (a), tudo bem?

Estamos com saudades de estarmos juntos presencialmente! Mas, ainda precisamos nos cuidar e manter um distanciamento social! Esse é um quadro em que vamos anotar a sua rotina. Estou enviando para você! Fique atento às atividades propostas a cada dia e não esqueça do cabeçalho!

Com carinho,

Dia da semana	Rotina diária: descrição das atividades
Segunda-feira Data:01/11/2021	Feriado
Terça-feira Data:02/11/2021	Feriado
Quarta-feira Data:03/11/2021	Leitura: "Ciranda cirandinha" – Link: https://www.youtube.com/watch?v=V8JU4Q7hKe8 Leitura: cantigas de roda, identificar rimas, completa as letras, organizar as frases, fazer lista de cantigas. Inglês: Veja atividade no Blog.
Quinta-feira Data:04/11/2021	Leitura: "Localização e deslocamento" – link: https://www.youtube.com/watch?v=uYK6k0wMAT8 Leitura; atividades, responder questões.
Sexta-feira Data:05/11/2021	Leitura: "O homem e o meio ambiente" – link: https://www.youtube.com/watch?v=miGIZN8tY-U Atividade interdisciplinar: Texto informativo, atividades com questões. Texto informativo: a cidade, responder questões. Educação Física: Veja atividade no Blog.
Dia da semana	Rotina diária: descrição das atividades

Segunda-feira Data:08/11/2021	Leitura: “Gênero textual: convite” – Link: https://www.youtube.com/watch?v=dNd8uaRa_BM Leitura: convite, atividades, escrita de convite.
Terça-feira Data:09/11/2021	Leitura: “H inicial” – Link: https://www.youtube.com/watch?v=Aby56z2TI4c Leitura; Livro Ápis: Língua Portuguesa -páginas: 123,124,125,126 (continuação atividade 3). Atividade com interação do professor: sílabas, formar palavras, rima, letra H números de letras.
Quarta-feira Data:10/11/2021	Leitura: “Medidas de comprimento” – Link: https://www.youtube.com/watch?v=U688pCFS2U8&t=118s Leitura; completar frases, atividades e responder questões. Inglês: Veja atividade no Blog.
Quinta-feira Data:11/11/2021	Leitura: “Medidas de comprimento” - link https://www.youtube.com/watch?v=Qjy8mHQy9uA Leitura; Livro Ápis: Matemática – páginas:178, 179, 180,181. Atividade com interação do professor: centímetros, estimativa, milímetro.
Sexta-feira Data:12/11/2021	Leitura: “Seres vivos e Elementos não vivos”- Link: https://www.youtube.com/watch?v=ZQ7aomVbqE0 Leitura; Livro Ápis: Matemática – páginas: 58,59. Atividade com interação do professor: responder questões. Educação Física: Veja atividade no Blog.

QUARTA-FEIRA (03/11)

QUERIDAS CRIANÇAS, VAMOS CONHECER ALGUMAS CURIOSIDADES SOBRE AS CANTIGAS DE RODA? AS CANTIGAS DE RODA SÃO CANÇÕES POPULARES, DE AUTORIA ANÔNIMA, PASSADAS ORALMENTE ENTRE AS GERAÇÕES. POSSUEM ALGUMAS CARACTERÍSTICAS PRINCIPAIS: AS LETRAS COSTUMAM SER SIMPLES, CURTAS E COM RIMAS.

FONTE: <https://www.estudokids.com.br/cantigas-de-roda/>

1) LEIA E CANTE A CANTIGA DE RODA!

⇒ LINK

DA



CIRANDA CIRANDINHA

CIRANDA, CIRANDINHA,
VAMOS TODOS CIRANDAR,
VAMOS DAR A MEIA VOLTA,
VOLTA E MEIA VAMOS DAR.

O ANEL QUE TU ME DESTE
ERA VIDRO E SE QUEBROU.
O AMOR QUE TU ME TINHAS
ERA POUCO E SE ACABOU.

POR ISSO, DONA ROSA,
ENTRE DENTRO DESTA RODA,
DIGA UM VERSO BEM BONITO,
DIGA ADEUS E VÁ SE EMBORA.

CANTIGA POPULAR (DOMÍNIO PÚBLICO)

CANTIGA: <https://www.youtube.com/watch?v=V8JU4Q7hKe8>

FONTE: Autor Desconhecido está licenciado em [CC BY-NC-ND](https://creativecommons.org/licenses/by-nc-nd/4.0/)

2) PINTE AS RIMAS QUE VOCÊ ENCONTRAR NA CANTIGA E DEPOIS ESCREVA-AS NO CADERNO.

3) FAÇA O QUADRO NO SEU CADERNO E COMPLETE (ESCREVA O NÚMERO):

PALAVRA	LETRAS	SÍLABAS	VOGAIS	CONSOANTES
CIRANDINHA	DEZ	QUATRO	QUATRO	SEIS
VOLTA				
ANEL				
VIDRO				
AMOR				
RODA				
VERSO				

4) ORGANIZE AS FRASES NO CADERNO DE ACORDO COM A CANTIGA:

	VOLTA E MEIA VAMOS DAR.
	VAMOS DAR A MEIA VOLTA,
	VAMOS TODOS CIRANDAR,
	CIRANDA, CIRANDINHA,


5) VOCÊ GOSTA DE BRINCAR COM AS CANTIGAS DE RODA? FAÇA UMA LISTA DAS CANTIGAS QUE VOCÊ CONHECE.

⇒ **VEJA AS CANTIGAS DE RODA NO LINK A SEGUIR E COMPLETE COM AS PALAVRAS QUE ESTÃO FALTANDO:**

<https://wordwall.net/pt/resource/3943166/cantigas-de-roda>

QUINTA-FEIRA (04/11)

1) OBSERVE OS DESENHOS E RESPONDA O QUE SE PEDE NO SEU CADERNO:



FONTE: <https://alfakids.org/atividades-de-matematica-lateralidade-e-conceitos-matematicos/>

A) O PINCEL ESTÁ:

DEBAIXO DA MESA

EM CIMA DA MESA

AO LADO DA MESA

LONGE DA MESA

B) A MENINA SEGURA O BALÃO COM A MÃO:

DIREITA

ESQUERDA

C) O QUE ESTÁ EM CIMA DA MESA É:

O GATO

A MOCHILA

O PINCEL

D) O GATINHO ESTÁ INDO EM DIREÇÃO:

À DIREITA

À ESQUERDA

E) EM QUE LADO A MENINA ESTÁ DA MESA?

DIREITO

ESQUERDO

2) OBSERVE A IMAGEM ABAIXO DA CARTEIRA DE MARCELO VISTA DE CIMA E RESPONDA O QUE SE PEDE NO SEU CADERNO:



FONTE: <https://br.pinterest.com/pin/44965696267391861/>

A) COLOCANDO-SE NA MESMA POSIÇÃO DE MARCELO, ANOTE DIREITA E ESQUERDA NOS RETÂNGULOS EM BRANCO.

B) QUAL MATERIAL ESCOLAR ESTÁ À FRENTE DE MARCELO?


C) CIRCULE DE VERDE OS OBJETOS QUE ESTÃO À ESQUERDA DE MARCELO.

D) CIRCULE DE VERMELHO OS OBJETOS QUE ESTÃO À DIREITA DE MARCELO.

E) DESENHE UM LÁPIS À ESQUERDA DE MARCELO E UMA RÉGUA À DIREITA.

QUINTA-FEIRA (04/11)

1) OBSERVE OS DESENHOS E REPONDA O QUE SE PEDE NO SEU CADERNO:



FONTE: <https://alfakids.org/atividades-de-matematica-lateralidade-e-conceitos-matematicos/>

A) O PINCEL ESTÁ:

DEBAIXO DA MESA

EM CIMA DA MESA

AO LADO DA MESA

LONGE DA MESA

B) A MENINA SEGURA O BALÃO COM A MÃO:

DIREITA

ESQUERDA

C) O QUE ESTÁ EM CIMA DA MESA É:

O GATO

A MOCHILA

O PINCEL

D) O GATINHO ESTÁ INDO EM DIREÇÃO:

À DIREITA

À ESQUERDA

E) EM QUE LADO A MENINA ESTÁ DA MESA?

DIREITO

ESQUERDO

2) OBSERVE A IMAGEM ABAIXO DA CARTEIRA DE MARCELO VISTA DE CIMA E RESPONDA O QUE SE PEDE NO SEU CADERNO:



FONTE: <https://br.pinterest.com/pin/44965696267391861/>

A) COLOCANDO-SE NA MESMA POSIÇÃO DE MARCELO, ANOTE DIREITA E ESQUERDA NOS RETÂNGULOS EM BRANCO.

B) QUAL MATERIAL ESCOLAR ESTÁ À FRENTE DE MARCELO?

C) CIRCULE DE VERDE OS OBJETOS QUE ESTÃO À ESQUERDA DE MARCELO.

D) CIRCULE DE VERMELHO OS OBJETOS QUE ESTÃO À DIREITA DE MARCELO.

E) DESENHE UM LÁPIS À ESQUERDA DE MARCELO E UMA RÉGUA À DIREITA.

(SEXTA FEIRA 05/11)

TRABALHO E MEIO AMBIENTE



<https://thumbs.dreamstime.com>

O TRABALHO É UMA ATIVIDADE FEITA PELAS PESSOAS COM O OBJETIVO DE PRODUIR OU REALIZAR ALGO. POR MEIO DELE, O TRABALHADOR PODE GARANTIR O SEU SUSTENTO.

O TRABALHO PODE SER EXERCIDO EM DIFERENTES ATIVIDADES:

AGRICULTURA: ATIVIDADE DE CULTIVAR A TERRA.

PECUÁRIA: ATIVIDADE DE CRIAÇÃO DE ANIMAIS.

EXTRATIVISMO: EXTRAÇÃO E COLETA DE RECURSOS NATURAIS, COMO POR EXEMPLO, A PESCA.

IMPACTOS AMBIENTAIS NO CAMPO.

SÃO ALTERAÇÕES NO MEIO AMBIENTE CAUSADAS POR ATIVIDADES HUMANAS.

A AGRICULTURA, PECUÁRIA E EXTRATIVISMO CAUSAM VÁRIOS PROBLEMAS AMBIENTAIS.

GRANDES ÁREAS DE MATAS OU FLORESTAS SÃO DERRUBADAS OU QUEIMADAS PARA DAR LUGAR AS PLANTAÇÕES. O DESMATAMENTO PODE

LEVAR A DESTRUIÇÃO DO SOLO E EXTINÇÃO DOS ANIMAIS QUE VIVEM NO LOCAL.

QUER SABER MAIS SOBRE IMPACTOS AMBIENTAIS ASSISTA AO VÍDEO CLICANDO NO LINK:

<https://www.youtube.com/watch?v=miGIZN8tY-U>

ATIVIDADE

OBSERVE A IMAGEM ABAIXO E RESPONDA:




<https://beduka.com/blog>

A) QUAIS SÃO ESSES PROBLEMAS AMBIENTAIS?

SEGUNDA-FEIRA (08/11)

1) LEIA COM ATENÇÃO O CONVITE!



ANA JÚLIA,
ESPERO VOCÊ PARA
CELEBRAR MEU ANIVERSÁRIO DE
8 ANOS!
VAMOS NOS DIVERTIR MUITO!

DATA: 24 DE OUTUBRO DE 2021
HORÁRIO: 14 HORAS
LOCAL: JARDIM NOVA EUROPA – RUA SÃO LUÍS, Nº 276

LUCAS

⇒ O CONVITE SERVE PARA CONVIDAR ALGUÉM PARA UM DETERMINADO EVENTO.


2) MARQUE COM **X** AS INFORMAÇÕES QUE SÃO NECESSÁRIAS EM UM CONVITE E DEPOIS ESCREVA-AS NO CADERNO. VOCÊ PODE OBSERVAR O CONVITE ACIMA!

	NOME DO CONVIDADO
	PREÇO DO PRESENTE
	NOME DO ANIVERSARIANTE
	NOME DOS PAIS
	DATA DA FESTA
	LOCAL DA FESTA (ENDEREÇO)
	HORÁRIO DA FESTA

3) ESCREVA O CONVITE EM SEU CADERNO E DEPOIS LOCALIZE AS INFORMAÇÕES E PINTE DE ACORDO COM AS ORIENTAÇÕES.

- A) PINTE DE AZUL O NOME DO CONVIDADO.
- B) PINTE DE VERDE O NOME DO ANIVERSARIANTE.
- C) PINTE DE LARANJA A DATA DA FESTA.
- D) PINTE DE AMARELO O LOCAL DA FESTA (ENDEREÇO).
- E) PINTE DE ROSA O HORÁRIO DA FESTA.

TERÇA-FEIRA (09/11)



LIVRO ÁPIS: LÍNGUA PORTUGUESA

IMAGEM: <https://www.edocente.com.br/pnld/2019/obra/apis-lingua-portuguesa-2-ano-atica/>

PÁGINAS: 123,124,125 E 126 (CONTINUAÇÃO ATIVIDADE 3)

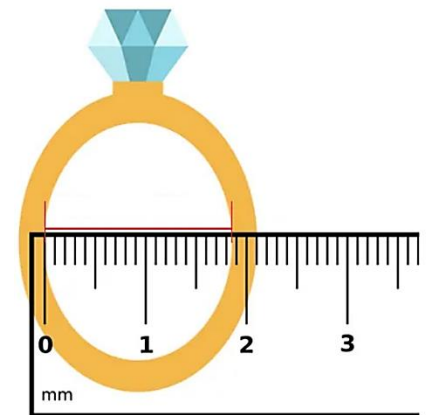

ATIVIDADES COM INTERAÇÃO DO PROFESSOR

- ✓ COLOCAR SÍLABAS NA ORDEM CORRETA E FORMAR PALAVRAS; SÍLABA COM SOM NASAL; RIMA.
- ✓ LETRA **H** NO INÍCIO DE PALAVRA: LEITURA DE PALAVRAS; SÍLABA INICIAL; NÚMERO DE LETRAS E SÍLABAS.

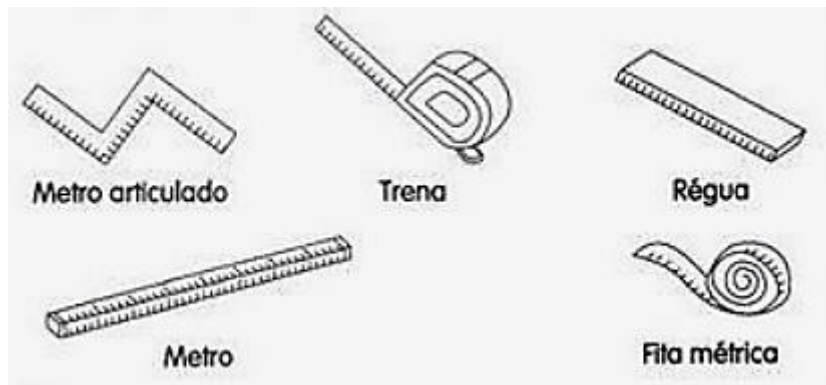
QUARTA-FEIRA (10/11)

AS MEDIDAS DE COMPRIMENTO SÃO USADAS PARA MEDIR OBJETOS E PESSOAS. ANTIGAMENTE, NÃO EXISTIAM INSTRUMENTOS DE MEDIDA PADRONIZADOS COMO HOJE, POR ISSO AS PESSOAS USAVAM AS PARTES DO CORPO PARA MEDIR, COM O PALMO, O PASSO, O PÉ, E A POLEGADA. OS INSTRUMENTOS PADRONIZADOS PARA MEDIR SÃO: A RÉGUA, O METRO ARTICULADO, A FITA MÉTRICA E A TRENA. COM ESSES INSTRUMENTOS PODEMOS MEDIR COMPRIMENTO, ALTURA E LARGURA. AS UNIDADES DE MEDIDA PADRÃO SÃO: METRO (M), CENTÍMETRO (CM) E MILÍMETRO (MM).

3) OBSERVE COM ATENÇÃO AS IMAGENS ABAIXO. ESCREVA O NOME DAS FIGURAS NO CADERNO E SUAS MEDIDAS. LEMBRE-SE: OBSERVE SE A MEDIDA ESTÁ EM MILÍMETRO (MM), CENTÍMETRO (CM) OU METRO (M).



4) COMPLETE AS FRASES USANDO OS NOMES DOS INSTRUMENTOS ABAIXO:



FONTE: <https://br.pinterest.com/pin/649714683716485378/>

A) A COSTUREIRA USA A PARA TIRAR AS MEDIDAS DA FREGUESA.

B) O ALUNO USA A NA ESCOLA.

C) O VENDEDOR USA O PARA MEDIR O TECIDO.

D) O PEDREIRO USA A E O PARA MEDIR O METRO.

QUINTA-FEIRA (11/11)



LIVRO ÁPIS: MATEMÁTICA

IMAGEM: <https://www.edocente.com.br/pnld/2019/obra/apis-matematica-2-ano-atica/>

PÁGINA: 178, 179, 180 E 181.

ATIVIDADES COM INTERAÇÃO DO PROFESSOR.

- ✓ CENTÍMETRO (CM);
- ✓ ESTIMATIVA;
- ✓ BRINCANDO TAMBÉM APRENDO;
- ✓ MILÍMETRO (MM).

SEXTA FEIRA (12/11)



LIVRO BURITI MAIS CIÊNCIAS

IMAGEM: <https://i.calameoassets.com>

PÁGINAS: 58 E 59

ATIVIDADES COM INTERAÇÃO DO PROFESSOR

- ★ TEXTO INFORMATIVO SOBRE SERES VIVOS
- ★ ATIVIDADES NÚMERO 1 E 2 PÁGINA 59

