



## ANEXO II

### QUADRO DE ROTINAS DIÁRIAS

(Ensino Fundamental I e II, Educação Integral, EJA I e II, CIER)

Escola: EMEF. Agenor Miranda da Silva

Professor (a): Larissa Stoppa de Carvalho

Ano/turma: 2ºA

Registro quinzenal da rotina de estudos dos alunos.

Dia da semana	Rotina diária: descrição das atividades
<b>Segunda – feira</b> Data: 18/10/2021 <b>PORTUGUÊS</b>	<ul style="list-style-type: none"><li>• HORA DA LEITURA: A GENTE CRESCE (MUNDO BITA) - <a href="#">CLIQUE AQUI</a></li><li>• ATIVIDADES: CONSTRUÇÃO DE PALAVRAS E FRASES.</li><li>• <b>EDUCAÇÃO FÍSICA – atividades no blog educacional/ grupo de whatsapp.</b></li></ul>
<b>Terça-feira</b> Data: 19/10/2021 <b>MATEMÁTICA</b>	<ul style="list-style-type: none"><li>• HORA DA LEITURA: AQUARELA (RADIO BITA) - <a href="#">CLIQUE AQUI</a></li><li>• ATIVIDADES – INTERPRETAÇÃO DE GRÁFICOS.</li></ul>
<b>Quarta-feira</b> Data: 20/10/2021 <b>PORTUGUÊS</b>	<ul style="list-style-type: none"><li>• HORA DA LEITURA: A VERDADEIRA FORÇA (MUNDO BITA) - <a href="#">CLIQUE AQUI</a></li><li>• ATIVIDADES: CONSTRUÇÃO DE PALAVRAS E FRASES.</li><li>• <b>EDUCAÇÃO FÍSICA – atividades no blog educacional/ grupo de whatsapp.</b></li><li>• <b>ARTES – atividades no blog educacional/ grupo de whatsapp.</b></li></ul>
<b>Quinta-feira</b> Data: 21/10/2021 <b>MATEMÁTICA</b>	<ul style="list-style-type: none"><li>• HORA DA LEITURA: BOM BANHO (MUNDO BITA) - <a href="#">CLIQUE AQUI</a></li><li>• ATIVIDADES: OPERAÇÕES</li></ul>
<b>Sexta-feira</b> Data: 22/10/2021 <b>PORTUGUÊS</b>	<ul style="list-style-type: none"><li>• HORA DA LEITURA: VIAJAR PELO SAFARI (MUNDO BITA) - <a href="#">CLIQUE AQUI</a></li><li>• ATIVIDADES: CONSTRUÇÃO DE PALAVRAS E FRASES.</li></ul>




ANEXO II

QUADRO DE ROTINAS DIÁRIAS

(Ensino Fundamental I e II, Educação Integral, EJA I e II, CIER)

**SEGUNDA-FEIRA – PORTUGUÊS**

1) ESCREVA A SÍLABAS DOS NÚMEROS CORRESPONDENTES E FORME PALAVRAS. APÓS ESCOLHA 3 PALAVRAS E FORME FRASES:

FORMANDO PALAVRAS 

1 BA	2 BO	3 FU	4 DO	5 LA
6 CU	7 MA	8 PI	9 NE	10 TA
11 CE	12 PO	13 ÇA	14 VE	15 PE
16 FI	17 LA	18 TE	19 BA	20 CA

1-5 \_\_\_\_\_

2-9-20 \_\_\_\_\_

6-2 \_\_\_\_\_

3-7-13 \_\_\_\_\_

4-11 \_\_\_\_\_

8-12-20 \_\_\_\_\_

10-15-18 \_\_\_\_\_

16-14-17 \_\_\_\_\_

www.artedeensinaraprender.com

FRASES:

1 \_\_\_\_\_

2 \_\_\_\_\_

3 \_\_\_\_\_




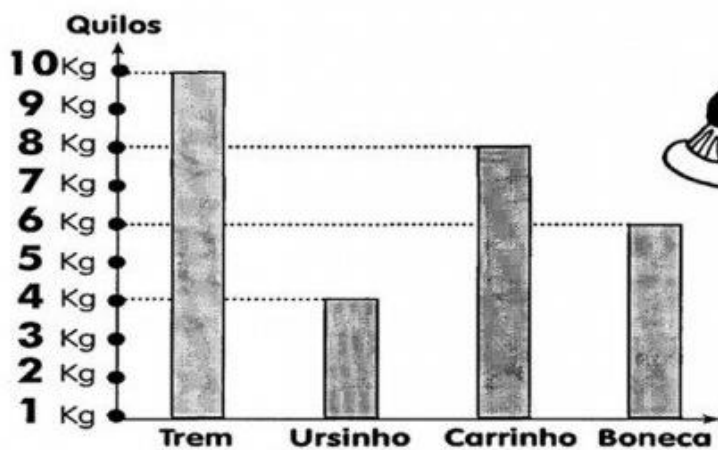
ANEXO II

QUADRO DE ROTINAS DIÁRIAS

(Ensino Fundamental I e II, Educação Integral, EJA I e II, CIER)

**TERÇA-FEIRA – MATEMÁTICA**

Veja, no gráfico abaixo, quanto pesa cada brinquedo e, depois, responda:



A) Qual o brinquedo **mais pesado**?

- Boneca.
- Trem.
- Carrinho.

B) Quantos quilos pesam o **carrinho** e a **boneca** juntos?

- 12 quilos.
- 13 quilos.
- 14 quilos.

C) Qual a **diferença** de peso entre a **boneca** e o **ursinho**?

- 2 quilos.
- 3 quilos.
- 4 quilos.



ANEXO II

QUADRO DE ROTINAS DIÁRIAS



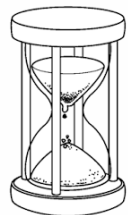


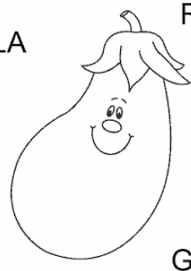



(Ensino Fundamental I e II, Educação Integral, EJA I e II, CIER)

**QUARTA - FEIRA – PORTUGUÊS**

☆☆☆ ——— ☆☆☆

**ATIVIDADE**

ORDENE AS SÍLABAS E ESCREVA O NOME CORRETO DAS FIGURAS

 FRE CO <input style="width: 100%; height: 20px;" type="text"/>	 RE ÁR VO <input style="width: 100%; height: 20px;" type="text"/>	 TA PU AM LHE <input style="width: 100%; height: 20px;" type="text"/>
 FA AL CE <input style="width: 100%; height: 20px;" type="text"/>	 BOR LE BO TA <input style="width: 100%; height: 20px;" type="text"/>	 LA RIN BE GE <input style="width: 100%; height: 20px;" type="text"/>
 DE BAL <input style="width: 100%; height: 20px;" type="text"/>	 BI TA CI CLE <input style="width: 100%; height: 20px;" type="text"/>	 CA RO CHOR <input style="width: 100%; height: 20px;" type="text"/>

☆☆☆ ——— ☆☆☆

www.LIPITIPi.org

ESCOLHA 3 PALAVRAS E FORME 3 FRASES:

- 1 \_\_\_\_\_
- 2 \_\_\_\_\_
- 3 \_\_\_\_\_



ANEXO II

QUADRO DE ROTINAS DIÁRIAS

(Ensino Fundamental I e II, Educação Integral, EJA I e II, CIER)

**QUINTA-FEIRA – MATEMÁTICA**

Amorzinho, vamos fazer tudo com muita atenção, ok!

1) Cálculos mentais:



2) Complete o quadro das adições:

+	3	4	5	2
5				
6				
2				



3) Ordene os números abaixo de forma decrescente:

45 – 29 – 12 – 6 – 67 – 8 – 77 -

[Dashed box for writing the ordered numbers]

4) Escreva os numerais que representam as barrinhas e cubinhos.

DEZENAS	UNIDADES

D	U

DEZENAS	UNIDADES

D	U

DEZENAS	UNIDADES

D	U



## ANEXO II

### QUADRO DE ROTINAS DIÁRIAS

(Ensino Fundamental I e II, Educação Integral, EJA I e II, CIER)

## SEXTA - FEIRA – PORTUGUÊS

### ATIVIDADES DE PORTUGUÊS

1) DESEMBRALHE AS PALAVRAS E ESCREVA-AS NA LINHA AO LADO. USE SUAS PALAVRAS MÓVEIS PARA RESOLVER ESSA QUESTÃO:



JA

RAN

LA

-----

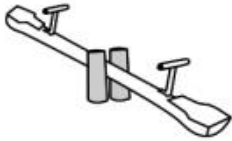


NOU

CE

RA

-----



LAN

ÇO

BA

-----



DEI

RA

BAN

-----

2) PARA FORMAR NOVAS PALAVRAS, É NECESSÁRIO TROCAR APENAS UMA LETRA. UTILIZE SUAS LETRAS MÓVEIS PARA REALIZAR ESSA ATIVIDADE.



B

O

L

A

□ □ □ □



U

R

S

O

□ □ □ □



M

A

L

A

□ □ □ □

