



Nome:

número:

Professor: Mirtes – Matemática

Série: Integral

Período: 17/05/2021 á 28/05/2021.

### Atividades:

**1** O senhor Carlos recebeu o extrato da sua conta bancária e verificou que o saldo era de R\$ 320,00. Logo em seguida fez um depósito de R\$ 130,00 e passou um cheque de R\$ 90,00. Qual passou a ser o saldo da conta dele no final destas operações?

**2** Qual é o número desconhecido da tabela abaixo?




Período	Atendimento
Manhã	
Tarde	125
Noite	75
Total	360

**3** A tabela representa o número de torcedores presentes ao jogo Ponte Preta X Guarani.

Número de torcedores	Ponte Preta	Guarani
Homens	4 200	3 000
Mulheres	800	750
Crianças	170	250

Qual o número de torcedores nesse jogo?

**4** Entrei em uma loja e comprei os três produtos da propaganda abaixo para pagar em três prestações.

 <b>LIQUIDIFICADOR</b> Preço: R\$ 75,00 ou 0 + 3 de R\$ 25,00 Total: R\$ 75,00	 <b>TV</b> Preço: R\$ 600,00 ou 0 + 3 de R\$ 200,00 Total: 600,00	 <b>BICICLETA</b> Preço: R\$ 540,00 ou 0 + 3 de R\$ 180,00 Total: R\$ 540,00
---	--	---

Qual o valor que terei de pagar em cada prestação?