



Nome:

Professor: Mirtes – Matemática

Série: 6º ano

Período: 28/06/2021 á 02/07/2021.

Atividades:


1- (Saresp – SP) Na figura abaixo tem-se representado um canteiro de flores que foi construído com a forma de quadrilátero de lados iguais e dois a dois paralelos. Sua forma é de um:

- a) trapézio;
- b) retângulo;
- c) losango;
- d) quadrado.

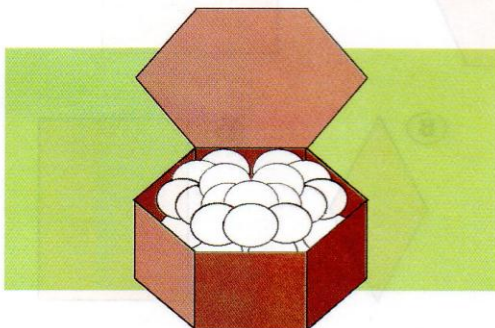


2- (Saresp – SP) Na fábrica de carros do meu tio, tem um robô muito engraçado. Ele é formado por figuras geométricas. As partes do robô que têm o formato de losango são:

- a) mãos e pés;
- b) olhos e pés;
- c) braços e chapéu;
- d) pescoço e pernas.




3- (Saresp – SP) Alguém construiu uma caixa, com fundo e tampa, a partir de pedaços de papelão que são, cada um deles, polígonos com lados de mesma medida. Veja como ficou essa caixa aberta e cheia de bolinhas de algodão:



Na construção dessa caixa foram utilizados:

- a) dois pentágonos e seis quadrados;
- b) dois hexágonos e seis quadrados;
- c) dois pentágonos e cinco quadrados;
- d) dois hexágonos e cinco retângulos.

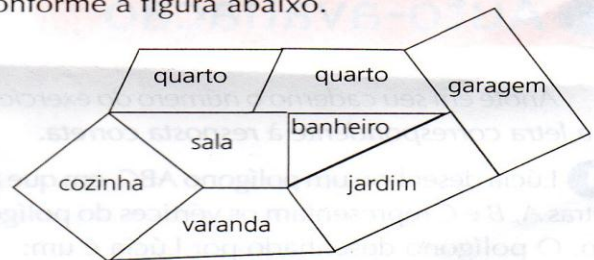
4- (SEE – RJ) As peças abaixo podem ser encaixadas de várias maneiras para formar quadrados ou retângulos inteiros.



Para formar um retângulo utilizando necessariamente a peça branca, você precisa de:

- a) 2 peças pretas;
- b) 2 peças azuis;
- c) 1 peça azul + 1 peça preta;
- d) 1 peça cinza + 2 peças pretas.

5- (Saresp – SP) João gosta de criar coisas diferentes. Um dia desenhou a planta de uma casa conforme a figura abaixo.



Quais partes da planta da casa de João lembram a figura de um retângulo?

- a) Jardim e garagem.      c) Cozinha e sala.
- b) Quarto e banheiro.    d) Varanda e cozinha.



PREFEITURA DE HORTOLÂNDIA

EMEF TAQUARA BRANCA AGENOR MIRANDA DA SILVA

