



ANEXO II

QUADRO DE ROTINAS DIÁRIAS

(Ensino Fundamental I e II, Educação Integral, EJA I e II, CIER)

Escola: EMEF TAQUARA BRANCA AGENOR MIRANDA DA SILVA

Professora: MARCELA

Ano/turma: 4º ANO A

Registro quinzenal da rotina de estudos dos alunos.(S.2)

Dia da semana	Rotina diária: descrição das atividades	Aulas Especiais
Segunda-feira Data: 19/07/2021 Geografia	✓ Os continentes e as Olimpíadas ✓ Leitura: “Os aros olímpicos” Acompanhe a vídeo aula da professora com a leitura e orientações para a realização das atividades. ✓ ATIVIDADES: Anexas.	Hoje tem: Ed. Física! Com o Prof. Paulo.
Terça-feira Data: 20/07/2021 Língua Portuguesa	Tema da aula: Brinquedos e seus materiais Atividade: No livro didático. (Mais informações serão enviadas pela professora no grupo de Whatsapp)	
Quarta-feira Data: 21/07/2021 Matemática Projeto CPFL	CONSUMO DE ENERGIA ELÉTRICA • ATIVIDADES: ✓ Almanaque CPFL, páginas 18 até 23. ✓ Pedir a um responsável, a conta de luz (ou força) de onde você mora, para fazer a atividade.	



ANEXO II

QUADRO DE ROTINAS DIÁRIAS

(Ensino Fundamental I e II, Educação Integral, EJA I e II, CIER)

Quinta-feira Data: 22/07/2021 História	A Expansão do comércio e das rotas <ul style="list-style-type: none">Acompanhe a vídeo aula da professora: o link será enviado do grupo de Whatsapp da classe.Atividade impressa anexa.	Inglês Prof. Rodrigo Tema: Healthy Food (Alimentação Saudável) Parte 1 Página 33.
Sexta-feira Data: 23/07/2021 Língua Portuguesa Projeto CPFL	Tema da aula: Compreendendo o significado das bandeiras e o selo PROCEL. <ul style="list-style-type: none">✓ Acompanhe a vídeo aula da professora com a leitura e orientações para a realização das atividades.Atividades: Páginas 26 até 31.	



ANEXO II


QUADRO DE ROTINAS DIÁRIAS

(Ensino Fundamental I e II, Educação Integral, EJA I e II, CIER)

Os aros olímpicos

Certamente você já ouviu falar dos Jogos Olímpicos.

Você também já deve ter visto um dos símbolos olímpicos. Ele é formado por cinco aros coloridos e entrelaçados sobre um fundo branco. Cada aro representa um dos continentes habitados: América, Ásia, Europa, África e Oceania. Esses aros estão entrelaçados para simbolizar a união entre a humanidade, ou seja, a união entre os diferentes povos do mundo. Esse símbolo é utilizado desde 1920, quando os Jogos Olímpicos foram realizados na cidade de Antuérpia, na Bélgica. Foi nesse ano que o Brasil participou pela primeira vez dos Jogos Olímpicos.



O francês Pierre de Frey idealizou os aros olímpicos.

- a) Pesquise informações sobre a origem dos Jogos Olímpicos e escreva um pequeno texto contando suas descobertas.
- Procure, em livros, revistas, jornais e na internet, onde, quando e com que finalidade os Jogos Olímpicos surgiram, quais modalidades esportivas eram praticadas, quem podia participar das competições, qual era o prêmio etc.

b) O quadro abaixo mostra datas e cidades onde foram realizados dez Jogos Olímpicos.

Jogos Olímpicos - 1980 a 2016	
1980 – Moscou	2000 – Sidney
1984 – Los Angeles	2004 – Atenas
1988 – Seul	2008 – Beijing
1992 – Barcelona	2012 – Londres
1996 – Atlanta	2016 – Rio de Janeiro

- Com a ajuda de um atlas geográfico, identifique os países e continentes onde essas cidades se localizam.
- Em qual dos cinco continentes habitados não foram realizados os Jogos Olímpicos entre 1980 e 2016?

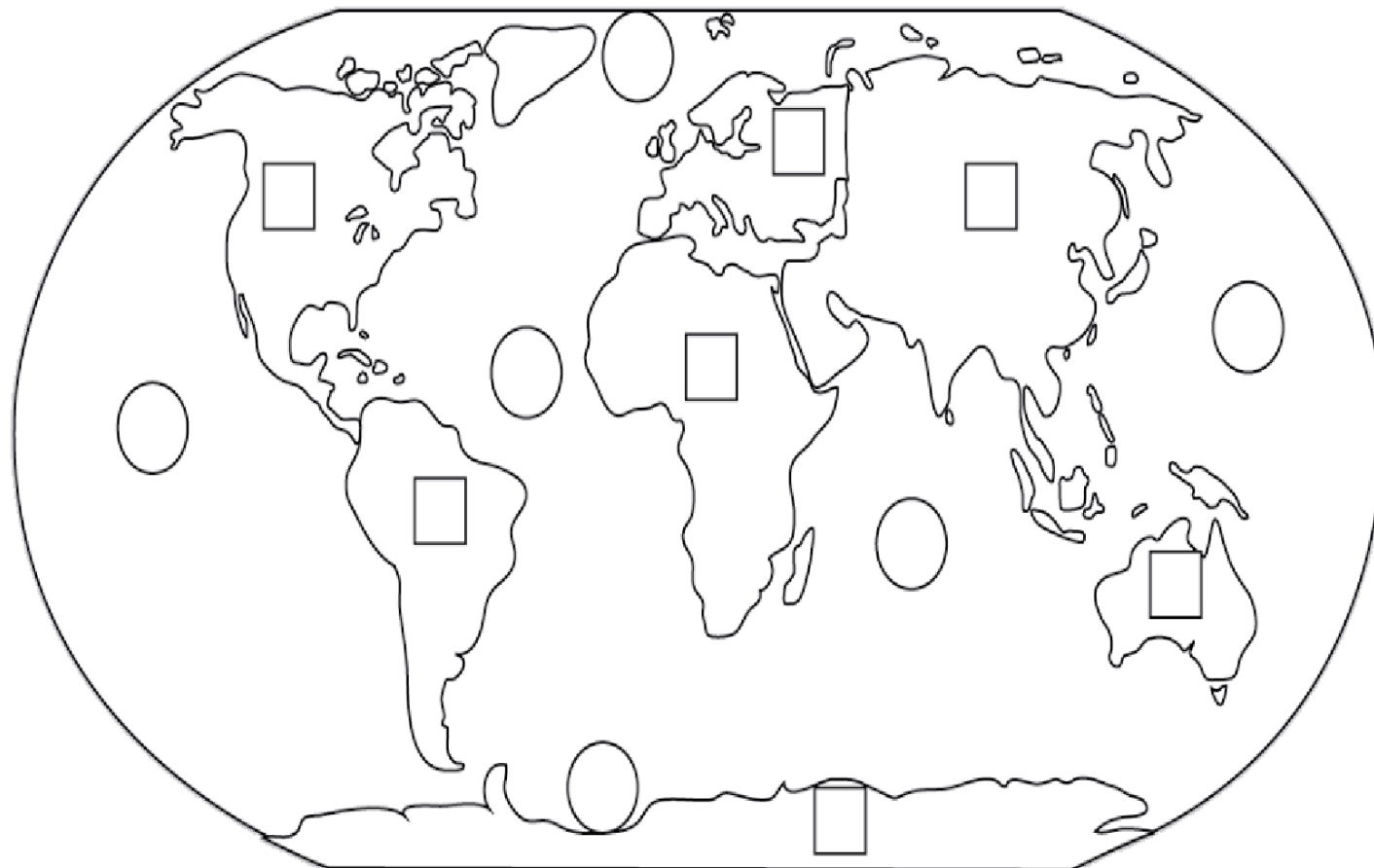


ANEXO II

QUADRO DE ROTINAS DIÁRIAS

(Ensino Fundamental I e II, Educação Integral, EJA I e II, CIER)

CONTINENTES - OCEANOS



LEGENDA

CONTINENTES	OCEANOS
1 ÁSIA	1 OCEANO ÁRTICO
2 EUROPA	2 OCEANO ATLÂNTICO
3 ÁFRICA	3 OCEANO PACÍFICO
4 OCEANIA	4 OCEANO ÍNDICO
5 AMÉRICA DO NORTE	5 OCEANO ÁRTICO
6 AMÉRICA DO SUL	
7 ANTÁRTICA	

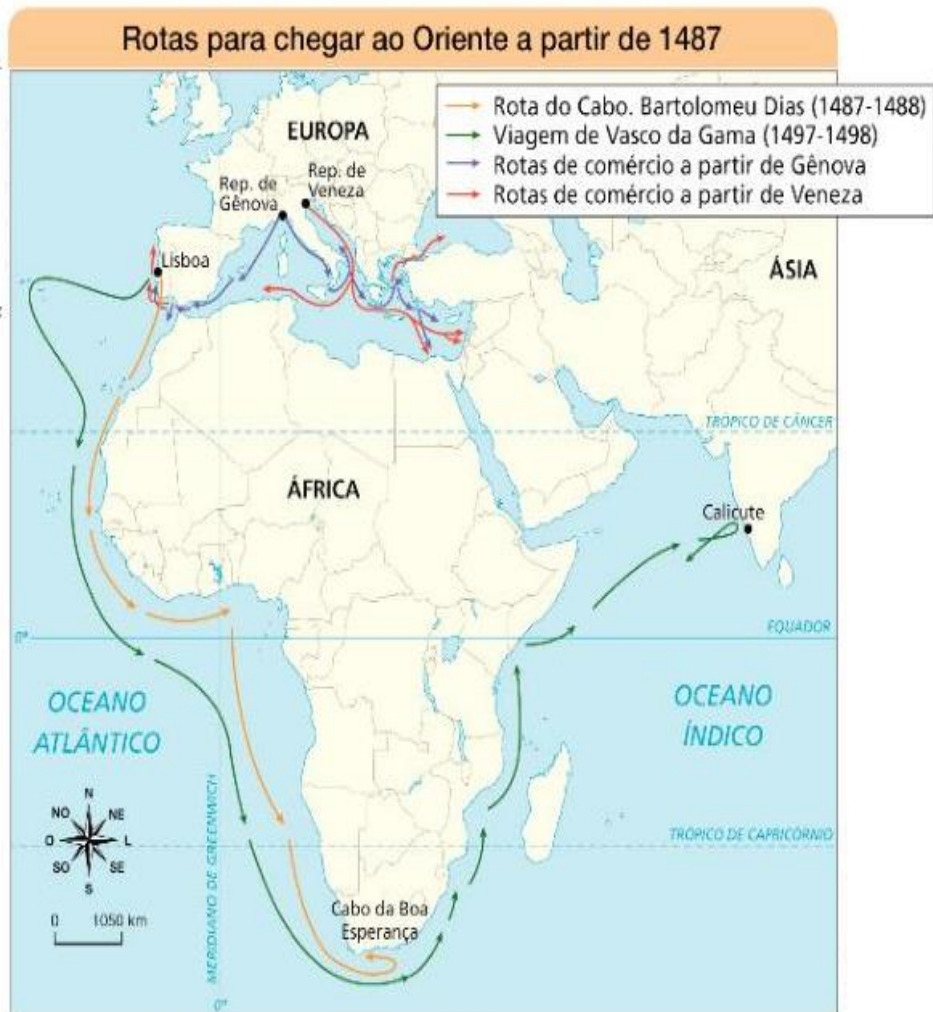


ANEXO II

QUADRO DE ROTINAS DIÁRIAS

(Ensino Fundamental I e II, Educação Integral, EJA I e II, CIER)

1 Observe o mapa e responda às questões a seguir.



2 O que são especiarias? Para que elas são utilizadas?

- Por que muitos países europeus precisavam encontrar uma nova rota marítima?
- Quais foram as principais mudanças de percurso entre as rotas marítimas representadas no mapa?