



PREFEITURA DE HORTOLÂNDIA

EMEF TAQUARA BRANCA AGENOR MIRANDA DA SILVA



Nome:

número:

Professor: Mirtes – Matemática

Série: 8º ano

Período: 20/09/2021 a 01/10/2021

-Acolhimento de aluno

-Avaliação Bimestral (PRESENCIAL)

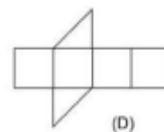
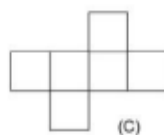
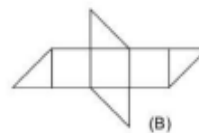
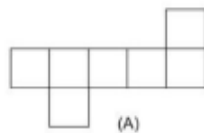
-Atividades

Atividades.

1- Um posto de combustível colocou um cartaz anunciando o preço da gasolina por 2,206 reais o litro. Isso significa que o posto vende a gasolina a 2 reais e:

- A) 0,206 centésimos de real
- B) 0,206 décimos de real
- C) 206 centésimos de real
- D) 206 milésimos de real

2- Observe as figuras abaixo:



Entre elas, a planificação de uma caixa em forma de cubo é a figura?

- A) A
- B) C
- C) B
- D) D

