



**ANEXO II**  
**QUADRO DE ROTINAS DIÁRIAS**

**ANO/TURMA: 2º ANOS (A, B, C, D, E)**  
**Professores: MARIA JOSÉ, PAULA, ROSELI, VILMA E VANDERLEI**  
**Período: 03/05/2021 A 14/05/2021**

**REGISTRO QUINZENAL DA ROTINA DE ESTUDOS DOS ALUNOS**

Querido (a) aluno (a), tudo bem?

Estamos com saudades! Mas, ainda precisamos nos cuidar e manter um distanciamento social!

Esse é um quadro em que vou anotar a sua rotina... Lembra que na escola fazíamos uma rotina na lousa? Agora estou enviando para você!

Fique atento às atividades propostas a cada dia e não se esqueça do cabeçalho!

Ah, a cada dia terá uma leitura para você!

Com carinho, Professores dos 2º anos.

<b>Dia da semana</b>	<b>Rotina diária: descrição das atividades</b>
<b>Segunda-Feira 03/05/2021</b>	<b>LEITURA DIÁRIA: MENINO POTI. PORTUGUÊS: MINHAS PREFERÊNCIAS. AULA DE EDUCAÇÃO FÍSICA: OLHA NO BLOG.</b>
<b>Terça-Feira 04/05/2021</b>	<b>LEITURA DIÁRIA: MENINO POTI. PORTUGUÊS: DITADO DAS PREFERÊNCIAS DOS PROFESSORES. HISTÓRIA: 19 DE ABRIL, DIA DO ÍNDIO - UMA REFLEXÃO E ATIVIDADES. AULA DE ARTE: DÊ UMA OLHADINHA EM NOSSO BLOG.</b>
<b>Quarta-Feira 05/05/2021</b>	<b>LEITURA DIÁRIA: MENINO POTI. GEOGRAFIA: LOCALIZAÇÃO - ENCONTRAR LUGARES E PESSOAS E ATIVIDADES. AULA DE INGLÊS: DÁ UMA OLHADINHA NO BLOG.</b>
<b>Quinta-Feira 06/05/2021</b>	<b>LEITURA DIÁRIA: MENINO POTI. CIÊNCIAS: OBJETOS E MATERIAIS - ATIVIDADES.</b>
<b>Sexta-Feira 07/05/2021</b>	<b>LEITURA DIÁRIA: MENINO POTI. MATEMÁTICA: SITUAÇÃO PROBLEMA.</b>
<b>Segunda-Feira 10/05/2021</b>	<b>LEITURA DIÁRIA: MENINO POTI: PORTUGUÊS: SILABÁRIO SIMPLES E SEPARAÇÃO SILÁBICA COM JOGOS ONLINE. AULA DE EDUCAÇÃO FÍSICA: QUE TAL SE EXERCITAR UM POUCO? OLHA NO BLOG!</b>
<b>Terça-Feira 11/05/2021</b>	<b>LEITURA DIÁRIA: MENINO POTI. MATEMÁTICA: SITUAÇÃO PROBLEMA. AULA DE ARTE: DÊ UMA OLHADINHA EM NOSSO BLOG!</b>
<b>Quarta-Feira 12/05/2021</b>	<b>LEITURA DIÁRIA: MENINO POTI. GEOGRAFIA: LOCALIZAÇÃO - ENCONTRAR LUGARES E PESSOAS - ATIVIDADES. AULA DE INGLÊS: DÁ UMA OLHADINHA NO BLOG.</b>
<b>Quinta-Feira 13/05/2021</b>	<b>LEITURA DIÁRIA: MENINO POTI. CIÊNCIAS: OBJETOS E MATERIAIS - ATIVIDADES.</b>
<b>Sexta-Feira 14/05/2021</b>	<b>LEITURA DIÁRIA: MENINO POTI. HISTÓRIA: 19 DE ABRIL, DIA DO ÍNDIO E ATIVIDADES.</b>

**CABEÇALHO**

**EMEF TARSILA DO AMARAL**

**HORTOLÂNDIA, \_\_\_ DE \_\_\_\_\_ DE 2021**

**PROFESSOR(A): \_\_\_\_\_**

**2ª ANO \_\_\_\_**

**NOME COMPLETO: \_\_\_\_\_**

**SEGUNDA- FEIRA: 03/05/2021**

**LEITURA DIÁRIA: MENINO POTI.**

<https://drive.google.com/file/d/1dTZX-6M0-ii9R8jJQQHhIRis7MstHG3M/view>



OU PODERÁ OUVIR A HISTÓRIA NESSE LINK : <https://youtu.be/qUObO5hk8c4>  
ACESSADO EM 22/04/2021

### LÍNGUA PORTUGUESA

**ESCRITA DAS PREFERÊNCIAS:** LEMBRE-SE DO QUE MAIS GOSTA DE COMER, QUAL SUA BRINCADEIRA FAVORITA, ALÉM DE OUTRAS PREFERÊNCIAS E, EM SEGUIDA, ANOTE NA TABELA ABAIXO.

MINHAS PREFERÊNCIAS	
SEU NOME	
COMIDA PREFERIDA	
BRINCADEIRA PREFERIDA	
HISTÓRIA PREFERIDA	
O QUE MAIS GOSTA DE FAZER	

**TERÇA- FEIRA: 04/05/2021**

**LEITURA DIÁRIA:** MENINO POTI.

<https://drive.google.com/file/d/1dTZX-6M0-ii9R8jJQQHhIRis7MstHG3M/view>

OU PODERÁ OUVIR A HISTÓRIA NESSE LINK: <https://youtu.be/qUObO5hk8c4>

ACESSADO EM 22/04/2021

### LÍNGUA PORTUGUESA

**DITADO:** OUÇA AS PREFERÊNCIAS DO(A) PROFESSOR(A) E, COM UM(A) IRMÃ(O), COLEGA OU PARENTE, ESCREVA OS NOMES USANDO LETRAS MÓVEIS. DEPOIS DE DISCUTIREM COLETIVAMENTE, FAÇA O REGISTRO NA TABELA ABAIXO.

DITAR AS PALAVRAS EM VERMELHO PREFERÊNCIAS DO/A PROFESSOR/A	
NOME DO PROFESSOR(A):	
COMIDA PREFERIDA MACARRÃO	
BRINCADEIRA PREFERIDA ANDAR BICICLETA	
HISTÓRIA PREFERIDA O LADO BOM DA VIDA	
O QUE MAIS GOSTA DE FAZER USAR COMPUTADOR	



## HISTÓRIA

O DIA DO ÍNDIO É COMEMORADO EM 19 DE ABRIL. VAMOS REFLETIR SOBRE A IMPORTÂNCIA DESSE DIA. VAMOS ASSISTIR UM VÍDEO PARA NOS AJUDAR NESSA REFLEXÃO:

<https://www.youtube.com/watch?v=wnqk899N6al>

NO FINAL, QUEREMOS QUE VOCÊ FAÇA UM DESENHO QUE REPRESENTA O QUE FOI FALADO NO VÍDEO.

**QUARTA- FEIRA: 05/05/2021**

**LEITURA DIÁRIA: MENINO POTI.**





<https://drive.google.com/file/d/1dTZX-6M0-ii9R8jJQQHhIRis7MstHG3M/view>

OU PODERÁ OUVIR A HISTÓRIA NESSE LINK: <https://youtu.be/qUObO5hk8c4>

ACESSADO EM 22/04/2021

### QUAL É A LOCALIZAÇÃO ?

### GEOGRAFIA

E				
D				
C				
B				
A	1	2	3	4

VAMOS EXERCITAR NOSSA CAPACIDADE INDICAR CAMINHOS PARA ENCONTAR PESSOAS E LUGARES. ATIVIDADE: QUAL A FIGURA QUE ESTÁ LOCALIZADA NA LINHA C, COLUNA 2. ESTÁ PRÓXIMA DO CASTELO E DISTANTE DO PRÉDIO. A FIGURA É

---

**QUINTA- FEIRA: 06/05/2021**

**LEITURA DIÁRIA: MENINO POTI.**

<https://drive.google.com/file/d/1dTZX-6M0-ii9R8jJQQHhIRis7MstHG3M/view>


OU PODERÁ OUVIR A HISTÓRIA NESSE LINK <https://youtu.be/qUObO5hk8c4>

ACESSADO EM 22/04/2021

## CIÊNCIAS

### OBJETOS E MATERIAIS

O QUE É ISSO? DO QUE ISSO É FEITO? VOCÊ JÁ NOTOU A VARIEDADE DE OBJETOS QUE EXISTEM AO NOSSO REDOR? VEJA, NAS IMAGENS A SEGUIR, COMO UM MESMO MATERIAL PODE SER UTILIZADO PARA A FABRICAÇÃO DE DIFERENTES OBJETOS E COMO OS OBJETOS SÃO FEITOS DE DIFERENTES MATERIAIS. ATIVIDADES: QUAIS SÃO ESSES OBJETOS E DO QUE SERIA FEITO ESSES MATERIAIS? EXEMPLO: A FACA, FEITA DE METAL E PLÁSTICO. FALE DOS OUTROS OBJETOS:




---

---

---

---

---

---

---

---



**SEXTA- FEIRA: 07/05/2021**

**LEITURA DIÁRIA: MENINO POTI.**

<https://drive.google.com/file/d/1dTZX-6M0-ii9R8jJQQHhIRis7MstHG3M/view>

OU PODERÁ OUVIR A HISTÓRIA NESSE LINK: <https://youtu.be/qUObO5hk8c4>

ACESSADO EM 22/04/2021

### MATEMÁTICA

NESTA AULA, VAMOS RESOLVER PROBLEMAS MATEMÁTICOS.

A PROFESSORA SIMONE PROPÔS QUE AS CRIANÇAS BRINCASSEM DE CABO DE GUERRA. VOCÊ CONHECE ESSA BRINCADEIRA?

JULIANA, GABRIEL E OUTROS 13 AMIGOS VÃO PARTICIPAR DA BRINCADEIRA.

RESPONDA ÀS QUESTÕES:

A. QUANTAS CRIANÇAS PARTICIPARÃO DA BRINCADEIRA?

B. AS CRIANÇAS VÃO FORMAR DUAS EQUIPES. UMA DELAS TERÁ 7 PARTICIPANTES. QUANTOS SERÃO OS PARTICIPANTES DA OUTRA EQUIPE?

**SEGUNDA- FEIRA: 10/05/2021**

**LEITURA DIÁRIA: MENINO POTI.**

<https://drive.google.com/file/d/1dTZX-6M0-ii9R8jJQQHhIRis7MstHG3M/view>

OU PODERÁ OUVIR A HISTÓRIA NESSE LINK <https://youtu.be/qUObO5hk8c4>

ACESSADO EM 22/04/2021

### LÍNGUA PORTUGUESA

	A	E	I	O	U	ÃO
B	BA	BE	BI	BO	BU	BÃO
C	CA	-	-	CO	CU	CÃO
D	DA	DE	DI	DO	DU	DÃO
F	FA	FE	FI	FO	FU	FÃO
G	GA	-	-	GO	GU	GÃO
J	JA	JE	JI	JO	JU	JÃO
L	LA	LE	LI	LO	LU	LÃO
M	MA	ME	MI	MO	MU	MÃO
N	NA	NE	NI	NO	NU	NÃO
P	PA	PE	PI	PO	PU	PÃO
R	RA	RE	RI	RO	RU	RÃO
S	SA	SE	SI	SO	SU	SÃO
T	TA	TE	TI	TO	TU	TÃO
V	VA	VE	VI	VO	VU	VÃO
X	XA	XE	XI	XO	XU	XÃO
Z	ZA	ZE	ZI	ZO	ZU	ZÃO

NESSA SEMANA, VAMOS REVISAR TODAS AS SÍLABAS E DEPOIS TEREMOS ATIVIDADES. FALE AS SÍLABAS EM VOZ ALTA PARA IR TREINANDO! ACESSE ESSE LINK:

<http://www.escolagames.com.br/jogos/laboratorioSilabas/?deviceType=computer> ACESSADO EM 22/04/2021

VOCÊ PODERÁ CONSULTAR O SILABÁRIO AO LADO SE ESQUECER ALGUMA PARA PODER FAZER A ATIVIDADE. NESSA ATIVIDADE VOCÊ TERÁ QUE SEPARAR AS SÍLABAS PARA PODER GANHAR O JOGO.

<http://www.escolagames.com.br/jogos/separeSilabas/> ACESSADO EM 22/04/2021

**TERÇA- FEIRA: 11/05/2021**

**LEITURA DIÁRIA: MENINO POTI.**

<https://drive.google.com/file/d/1dTZX-6M0-ii9R8jJQQHhIRis7MstHG3M/view>

OU PODERÁ OUVIR A HISTÓRIA NESSE LINK <https://youtu.be/qUObO5hk8c4>

ACESSADO EM 22/04/2021



## MATEMÁTICA

VAMOS CONTINUAR A RESOLVER PROBLEMAS MATEMÁTICOS. JULIANA GOSTA DE BRINCAR DE CINCO MARIAS E EXPLICOU A GABRIEL COMO É ESSA BRINCADEIRA. ELES DECIDIRAM BRINCAR JUNTOS E CADA UM DELES FEZ O SEU JOGO, QUE É COMPOSTO DE CINCO SAQUINHOS PREENCHIDOS COM AREIA.

A. JULIANA E SEU PAI WILLIAM FIZERAM JOGOS PARA DISTRIBUIR AOS AMIGOS. JULIANA FEZ 12 JOGOS E WILLIAM FEZ 15. QUANTOS JOGOS ELES FIZERAM NO TOTAL?

B. GABRIEL E SUA MÃE TELMA GOSTARAM DA PROPOSTA DE FAZER JOGOS DE CINCO MARIAS. ELES FIZERAM 22 JOGOS. TELMA SELECIONOU 10 DELES PARA DAR A SEUS SOBRINHOS E OS OUTROS FICARAM COM GABRIEL. QUANTOS JOGOS FICARAM COM GABRIEL?

**QUARTA- FEIRA: 12/05/2021**





**LEITURA DIÁRIA: MENINO POTI.**

<https://drive.google.com/file/d/1dTZX-6M0-ii9R8jJQQHhIRis7MstHG3M/view>

OU PODERÁ OUVIR A HISTÓRIA NESSE LINK <https://youtu.be/qUObO5hk8c4>

ACESSADO EM 22/04/2021

## QUAL É A LOCALIZAÇÃO ?

E				
D				
C				
B				
A	1	2	3	4

## GEOGRAFIA

LOCALIZAÇÃO TAMBÉM ACONTECE QUANDO QUEREMOS NOS LOCALIZAR EM NOSSA ESCOLA, BAIRRO, CIDADE, ETC., QUANTO MAIS ELEMENTOS TIVERMOS, OU SEJA MAIS PISTAS, MAIS FÁCIL DE NOS ENCONTRARMOS.

PARA ENCONTRAR ESTA FIGURA SAIA DO CAMPO DE FUTEBOL, ANDE DUAS CASAS PARA CIMA, PARE, VIRE À ESQUERDA E ANDE DUAS CASAS. A FIGURA É

**QUINTA- FEIRA: 13/05/2021**

**LEITURA DIÁRIA: MENINO POTI.**

<https://drive.google.com/file/d/1dTZX-6M0-ii9R8jJQQHhIRis7MstHG3M/view>

OU PODERÁ OUVIR A HISTÓRIA NESSE LINK <https://youtu.be/qUObO5hk8c4>

ACESSADO EM 22/04/2021

## CIÊNCIAS

CONTINUE A ESTUDAR OBJETOS E MATERIAIS:

1. QUE OBJETOS SÃO ESSES?
2. O QUE HÁ EM COMUM ENTRES ELES?
3. E O QUE OS DIFERENCIA?
4. QUE VANTAGENS E DESVANTAGENS ESSES OBJETOS OFERECEM EM RELAÇÃO AO OUTRO?





**SEXTA- FEIRA: 14/05/2021**

**LEITURA DIÁRIA: MENINO POTI.**

**<https://drive.google.com/file/d/1dTZX-6M0-ii9R8jJQQHhRis7MstHG3M/view>**

**OU PODERÁ OUVIR A HISTÓRIA NESSE LINK <https://youtu.be/qUObO5hk8c4>**  
**ACESSADO EM 22/04/2021**

## **HISTÓRIA**



VAMOS FAZER UMA ATIVIDADE PARA COMEMORAR O “DIA DO ÍNDIO” (19 DE ABRIL).  
PARA INICIAR VAMOS ASSISTIR UM VÍDEO SOBRE AS BRINCADEIRAS INDÍGENAS:  
**<https://youtu.be/BIZTZYsKfLM>**.

AGORA VAMOS CONSTRUIR UM BRINQUEDO DAS CRIANÇAS INDÍGENAS: “PETECA”. SEGUE  
O VÍDEO ENSINANDO PASSO A PASSO COM MATERIAL RECICLÁVEL  
**<https://www.youtube.com/watch?v=54goVKU7X9s>**.

**ESTAMOS COM SAUDADES!**  
**EM BREVE TUDO ISSO IRÁ PASSAR E NO ENCONTRAREMOS NOVAMENTE!**