



QUADRO DE ROTINAS DIÁRIAS

ANO/TURMA: 5º ANO A, B, C, D, E
PROFESSORES: SARA, CRISTINA (5º B / 5º D) LÍGIA, ANDRESSA
PERÍODO: 03/05/2021 A 14/05/2021

REGISTRO QUINZENAL DA ROTINA DE ESTUDOS DOS ALUNOS.

Querido(a) aluno(a), tudo bem?

Estamos com saudades! Mas ainda precisamos nos cuidar e manter um distanciamento social!!!
Pensando em facilitar a realização das atividades durante a semana, organizamos as atividades por dia, então você pode realizar um pouco das tarefas todos os dias.

Beijos...

Com carinho, professores dos 5º anos.

DIA DA SEMANA	ROTINA DIÁRIA: DESCRIÇÃO DAS ATIVIDADES
SEGUNDA-FEIRA 03/05/2021	Leitura Diária: O homem e a comunicação. O Livro de Lápis. Autor: Ruth Rocha; Otávio Roth. O livro será enviado pela professora em PDF. PORTUGUÊS: Atividade: Texto e Interpretação: Lenda Vitória Régia. CIÊNCIAS: Sistema cardiovascular. Assista o vídeo: https://youtu.be/j5L5oGsWaxA?t=38 MATEMÁTICA: Resolução de Problemas.
TERÇA-FEIRA 04/05/2021	Leitura Diária: O menino que aprendeu a ver. Autor: Ruth Rocha. O livro será enviado pela professora em PDF. PORTUGUÊS: Cruzadinha e separação e classificação de sílabas. MATEMÁTICA: Vamos somar e resolver o problemas?
QUARTA-FEIRA 05/05/2021	Leitura Diária: Quando o Miguel entrou na escola. Autor: Ruth Rocha. O livro será enviado pela professora em PDF. PORTUGUÊS: Atividade de Ortografia. HISTÓRIA: O Brasil Colônia. Assista o vídeo: https://youtu.be/6xFgUphkggw?t=58 . Atividade para completar frases e responder questões do Texto. MATEMÁTICA: Resolução de problemas.
QUINTA-FEIRA 06/05/2021	Leitura Diária: De hora em hora...; Autor: Ruth Rocha. O livro será enviado pela professora em PDF. PORTUGUÊS: Atividade: Separe as sílabas das palavras e classifique. GEOGRAFIA: Formação de sua cidade. Processo histórico e geográfico.
SEXTA-FEIRA 07/05/2021	Leitura Diária: Thomas Edison, Filho de Nancy. Disponível em: https://www.youtube.com/watch?v=9NMthZxPOFU Acesso em 24/04/2021. Homenagem dia das Mães. PROJETO BEM ME QUER: ACESSAR A ABA "QUER SABER MAIS" E FAZER AS ATIVIDADES DO LIVRO.
SEGUNDA-FEIRA 10/05/2021	Leitura Diária: Substantivos Comuns e Próprios. Tatiana Sibovitz. Disponível em: https://www.youtube.com/watch?v=l6r1udt2IW4 Acesso em 24/04/2021. Formar frases e classificar substantivos. MATEMÁTICA: Resolva as quatro operações.
TERÇA-FEIRA 11/05/2021	Leitura Diária: Quando a escola é de vidro. Autor: Ruth Rocha. O livro será enviado pela professora em PDF. PORTUGUÊS: Atividade: Produção de texto. MATEMÁTICA: Resolução de problemas no caderno.
QUARTA-FEIRA 12/05/2021	Leitura Diária: A fantástica máquina dos bichos. Autor: Ruth Rocha. O livro será enviado pela professora em PDF. PORTUGUÊS: Atividade: Texto, Leitura, verbos e gêneros textuais.
QUINTA-FEIRA 13/05/2021	Leitura Diária: As coisas que a gente fala. Autor: Ruth Rocha. O livro será enviado pela professora em PDF. MATEMÁTICA: Atividade com grandezas de medida (metro e centímetro) Família do 500. Completar a sequência de números. CIÊNCIAS: Sistema circulatório. https://br.pinterest.com/pin/409898003586447642/ Acesso em 23/05/2021.
SEXTA-FEIRA 14/05/2021	Leitura Diária: Bom dia, todas as cores. Autor: Ruth Rocha. O livro será enviado pela professora em PDF. MATEMÁTICA: Resolução de problemas com gráfico. PROJETO BEM ME QUER: ACESSAR A ABA "QUER SABER MAIS" E FAZER AS ATIVIDADES DO LIVRO.



SEGUNDA-FEIRA – 03/05/2021

ATIVIDADE DE PORTUGUÊS

Proposta 1: Texto e Interpretação

Lenda da Vitória Régia

Conta a lenda que uma linda índia chamada Naia apaixonou por Jaci (a lua), que brilhava no céu, iluminando a noite.

Bravos guerreiros tentavam cortejar Jaci, mas ela recusava todas os convites de casamento. Todas as noites ela saía para admirar Jaci, que parecia ignorar a pobre Naia.

Ao final de cada dia ela saía em sentido oposto ao sol para tentar alcançar a lua antes que ela surgisse na noite. Noite após noite, a tentativa de Naia se repetia. Até que adoeceu de tanto ser ignorada por Jaci.

Mesmo doente Naia saiu atrás de Jaci. Numa dessas vezes caiu a beira de um igarapé. Quando acordou viu o reflexo da lua nas águas, exultou de felicidade. Finalmente Jaci estava ali, bem próximo de suas mãos. Naia não teve dúvidas e mergulhou nas águas profundas e desapareceu.

Jaci vendo o sacrifício da índia, resolveu transformá-la em uma flor gigante. Naia virou a Vitória Régia, a grande flor amazônica que só abre a suas pétalas ao luar.

RESPONDA AS QUESTÕES

- 1) Esse texto e uma lenda porquê?
A) Narra fatos do cotidiano.
B) É uma narrativa inventada, fantasiosa.
C) É uma história real.

- 2) Quem é o narrador da lenda da Vitória Régia?
A) Naia
B) Jaci
C) Narrador
D) A Índia

- 3) A lenda se refere a qual planta?
A) Aguapé B) Samambaia C) Vitória Régia

- 4) Qual o personagem principal da lenda?
- 5) Quem é Jaci?
- 6) Qual era o principal desejo da Índia Naia?
- 7) O que Naia fez quando viu o reflexo da lua nas águas?
- 8) Em que Naia se transformou?
- 9) Faça uma ilustração da lenda em seu caderno.

ATIVIDADE DE CIÊNCIAS

Assista o vídeo: sistema cardiovascular e complete as frases abaixo.

<https://youtu.be/j5L5oGsWaxA?t=38>

Acesso em 23/04/2021.



1) Complete as frases com o banco de palavras ao lado:

Bombeia coração

venoso

sangue

veias

sangue

artérias

átrios

ventrículos

capilares

partes

coração

arterial

♦ Complete as frases abaixo com as palavras que estão no quadro ao lado.

- 1) O _____ bombeia o _____ para as diversas partes do nosso corpo.
- 2) As _____ conduzem o sangue do coração para todas as _____ do corpo.
- 3) As _____ são vasos sangüíneos que trazem o _____ de volta ao coração.
- 4) As cavidades do coração são chamadas de _____ e _____.
- 5) Os _____ são vasos sangüíneos muito finos e delicados.
- 6) O sangue _____ é rico em oxigênio.
- 7) O sangue _____ é rico em gás carbônico.

Respostas: 1- coração, sangue; 2- artérias, partes; 3- veias, sangue; 4- átrios, ventrículos; 5- capilares; 6- arterial; 7- venoso.


Ainda a palavra não me chegou à língua, e Tu, Senhor já a conhece toda. (Salmos 139:4)

99

<https://br.pinterest.com/pin/565201821990587209/Acesso> em 23/04/2021

ATIVIDADE DE MATEMÁTICA

Observe a régua apresentada a seguir:



<https://pt.dreamstime.com/fotografia-de-stock-uma-r%C3%A9gua-de-15-cm-image2341682>

- A) Quantos centímetros estão representados nessa régua? _____
- B) Quantos centímetros tem 1 metro? _____
- C) Se dividisse de 3 em 3 centímetros, quantas partes iguais teremos? _____

TERÇA-FEIRA – 04/05/2021

ATIVIDADE DE PORTUGUÊS

Proposta 2: Cruzadinhas



Complete a cruzadinha e depois separe-as classificando por: MONOSSÍLABA, DISSÍLABA, TRISSÍLABA E POLISSÍLABA.

CRUZADINHA INDÍGENA

<https://images.app.goo.gl/h3h56vNSq6MZTGD3A>. Acesso em: 24/04/2021

ATIVIDADE DE MATEMÁTICA:

Resolva os problemas:

1. Se Júlio der 12 figurinhas a Mário, Júlio ainda ficará com 75 figurinhas. Quantas figurinhas Júlio tem?
2. Se Roberta der 29 figurinhas a Marina, esta ficará com 71 figurinhas. Quantas figurinhas Marina tem?
3. Carolina tinha 43 figurinhas, deu algumas para Ana e ainda ficou com 35 figurinhas. Quantas figurinhas Ana ganhou?

Arme e resolva

$37 + 14 + 15$	$30 + 34 + 35$	$72 + 99 + 59$
C D U	C D U	C D U
<input type="text"/>	<input type="text"/>	<input type="text"/>
<input type="text"/>	<input type="text"/>	<input type="text"/>
<input type="text"/>	<input type="text"/>	<input type="text"/>

$89 + 21 + 86$	$10 + 14 + 96$	$53 + 45 + 23$
C D U	C D U	C D U
<input type="text"/>	<input type="text"/>	<input type="text"/>
<input type="text"/>	<input type="text"/>	<input type="text"/>
<input type="text"/>	<input type="text"/>	<input type="text"/>



<http://continhasfundamentais.blogspot.com/2018/07/operacoes-de-adicao-arme-e-efetue.html?m=1>


QUARTA-FEIRA – 05/05/2021

ATIVIDADE DE PORTUGUÊS:

Proposta 3: Deu a louca no texto!

Leia atentamente o texto abaixo. Descubra o que está errado nesse texto e reescreva-o em seu caderno, fazendo as correções necessárias. Se precisar, peça ajuda à sua professora no Whatsapp.

o técnico da seleção Brasileira divulga a Lista de Jogadores que estão no exterior e participarão do jogo amistoso contra a argentina. de acordo com a fifa os Clubes precisam ser comunicados 14 Dias antes. o jogo será no dia 27 desse Mês.



<https://atividadespedagogicasuzano.com.br/wp-content/uploads/2017/02/ortografia4C2BAano-page-001-724x1024.jpg> (Acesso em 30/04/2021)

ATIVIDADE DE HISTÓRIA:

Assista o vídeo Brasil Colônia, para ajudar você realizar as atividades: Nesta atividade você terá interação com a professora. <https://youtu.be/6xFqUphkggw?t=58>

► O Brasil Colônia

► A chegada dos portugueses ao Brasil

- Com a finalidade de instalar feitorias nas Índias e de estabelecer o comércio de especiarias, D. Manoel, o Venturoso, rei de Portugal, mandou organizar uma grande esquadra formada por treze caravelas e mais de 1500 homens, sob o comando de Pedro Álvares Cabral.
- Faziam parte frei Henrique Soares e Pero Vaz de Caminha, escrivão da esquadra.



Responda no caderno:

- 1) Qual era a finalidade da chegada dos portugueses ao Brasil?
- 2) Qual o nome do rei de Portugal?
- 3) Quem comandou a esquadra do rei de Portugal?
- 4) Escreva os nomes de quem fazia parte da tripulação de Pedro Álvares Cabral.
- 5) Vamos completar as frases com as palavras abaixo:



ESQUADRA- ÍNDIAS- ESPECIARIAS- HOMENS- TREZE- D. MANOEL - PORTUGAL.

Atividades

❖ Complete as palavras:

Í.....di.....s	Po.....tuga.....
es.....uad.....a	Cabra.....
e.....peciarías	home.....s
D. M.....noel	t.....eze

❖ Complete o texto com as palavras acima e leia:

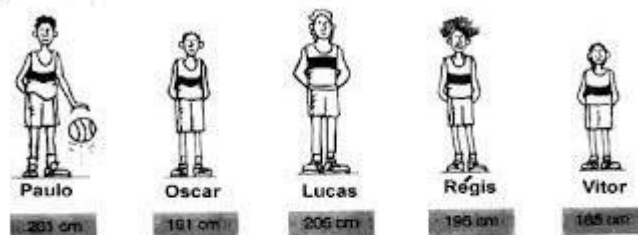
• Com a finalidade de instalar feitorias nas e de estabelecer o comércio de, o Venturoso, rei de, mandou organizar uma grande formada por caravelas e mais de 1500, sob o comando de Pedro Álvares

<https://br.pinterest.com/pin/705165254154383676/> Acesso em: 23/04/2021

ATIVIDADE DE MATEMÁTICA:

Resolva os problemas abaixo:

1- A figura abaixo representa uma equipe de basquete. Embaixo do desenho de cada jogador está seu nome e uma etiqueta com a sua altura, em centímetros. Observe a figura e responda:



- Qual é o nome do jogador mais alto? _____
- Qual é o nome do jogador mais baixo? _____
- Qual é a altura do jogador Paulo? _____
- Qual é a altura do jogador Régis? _____

2 - Um ônibus leva 52 pessoas em cada viagem. Ao final de 4 viagens, quantas pessoas o ônibus terá levado?



<http://paraisodosprofessores.blogspot.com/p/matematica.html?m=1>

QUINTA-FEIRA- 06/05/2021

ATIVIDADE DE PORTUGUÊS

Proposta 4: Separe as sílabas

Separe as sílabas das palavras e classifique:

ÍNDIA – JACI – NAIA – GUERREIROS – LUA – IGARAPÉ – ÁGUAS – VITÓRIA



ATIVIDADE DE GEOGRAFIA:

FORMAÇÃO DE SUA CIDADE

As cidades podem ser classificadas de acordo com várias funções, sendo elas: turísticas, administrativas, históricas, religiosas, industriais, portuárias, universitárias e comerciais.

HORTOLÂNDIA-SP



CAMPINAS-SP



<https://tribunaliberal.com.br/?p=31222-regiao/2020/07/campinas-se-torna->

Acessos em 23/04/2021

<https://portaldarmc.com.br/noticias-da->

Acessos em 23/04/2021

- 1- Analise as figuras acima e descreva o processo histórico e geográfico da cidade de Campinas e Hortolândia. em seguida compare suas evoluções no território urbano.
- 2- Cite pelo menos duas funções que as cidades de Campinas e Hortolândia tem em comum.

SEXTA-FEIRA – 07/05/2021

ATIVIDADE DE PORTUGUÊS

HOMENAGEM DIA DAS MÃES

Após assistir o vídeo Thomas Edison, Filho de Nancy, prepare uma lembrança para comemorar este dia tão especial, pode ser uma carta, um desenho, uma foto com sua mãe, ou com aquela pessoa que cuida de você com todo carinho, a vovó, tia... Use sua imaginação e dedique esta homenagem no domingo dia **09** de Maio (Dia das Mães).

Assista também: <https://www.youtube.com/watch?v=RI80rVs9tV0> . Acesso em 24/04/2021. **TODOS OS TIPOS DE MÃES.**





<https://mensagenseatividades.com/atividades-infantis-desenhos-dia-das-maes-colorir-imprimir/>. Acesso em 24/04/2021

SEGUNDA-FEIRA– 10/05/2021

ATIVIDADE DE MATEMÁTICA:

ARME E EFETUE:

A) $135 + 32 =$	F) $303 - 11 =$	K) $44 \div 4$
B) $580 + 27 =$	G) $12 \times 3 =$	L) $58 \div 2$
C) $272 + 98 =$	H) $56 \times 8 =$	
D) $143 - 34 =$	I) $45 \times 5 =$	
E) $410 - 47 =$	J) $90 \div 3 =$	

ATIVIDADE DE PORTUGUÊS

Proposta 5: Formar frases.

Assista o vídeo: <https://www.youtube.com/watch?v=l6r1udt2IW4>

Forme uma frase com cada palavra abaixo, depois classifique os substantivos próprios e os substantivos comum de casa frase.

ÍNDIA – JACI – NAIA – GUERREIROS – LUA – IGARAPÉ – ÁGUAS – VITÓRIA

TERÇA-FEIRA– 11/05/2021

ATIVIDADE DE PORTUGUÊS

Proposta 6: Produção de Texto.

Após ter lido a Lenda Vitória Régia, faça você mesmo, um final diferente para esta história.

ATIVIDADE DE MATEMÁTICA

Resolva os problemas abaixo:

- 1) Uma classe tem 31 alunos, e a professora quer 4 equipes com a mesma quantidade de alunos para uma competição. Os alunos que sobram, ficarão como reservas. Quantos alunos terá cada equipe? Quantos serão os reservas?
- 2) Hélio, Eliane e suas 3 filhas fizeram uma viagem e gastaram R\$210,00 com passagens de ônibus. Quanto foi gasto com cada pessoa?
- 3) Numa fábrica, há 312 rodas. Quantos carros podem ser montados?
- 4) Cláudia está arrumando seus 186 livros em 6 prateleiras. Quantos livros cada prateleira vai receber?

QUARTA-FEIRA – 12/05/2021

ATIVIDADE DE PORTUGUÊS

Proposta 7: Texto, leitura, verbos e gêneros textuais.

Assista os vídeos a seguir e responda as questões: <https://www.youtube.com/watch?v=2EiKFvW0js> acesso em 24/04/2021 e <https://www.youtube.com/watch?v=U27jEc610Tg> acesso em 24/04/2021.



OS DOIS AMIGOS

Dois amigos apaixonados por futebol combinaram que quando um deles morresse, voltaria a terra pra falar se lá em cima tem futebol.

Uma semana depois um deles morreu, e como o prometido ele voltou e afirmou.

- _ Eu tenho uma notícia boa e uma má. Qual você quer primeiro?
- _ O outro respondeu: eu quero a boa.
- _ La tem futebol sim.
- _ E o amigo feliz da vida perguntou?
- _ E a ruim qual é?
- _ Você foi convocado pra jogar nesse domingo.

- 1) Retire do texto 3 verbos e descreva o tempo verbal eles estão; passado, presente ou futuro.
- 2) Forme uma frase com cada acima.
- 3) Qual o gênero textual de “Os dois Amigos”?
A) uma narrativa
B) poesia
C) piada
- 4) Escreva uma piada que você conhece.

QUINTA-FEIRA – 13/05/2021

ATIVIDADE DE MATEMÁTICA:

QUADRO NUMÉRICO DA FAMÍLIA DOS 500

Leia atentamente e responda:

1. Quantos centímetros faltam para completar um metro?

- 50 centímetros: _____
- 40 centímetros: _____
- 30 centímetros : _____

2. Comprei 2 metros de cetim. Minha irmã comprou o dobro. Quantos metros compramos juntos?

- a. () 6 metros
- b. () 8 metros
- c. () 4 metros

Uma peça de tecido tem 20 metros. Quantos metros tem 8 peças iguais a essa?

- a. () 166 metros
- b. () 160 metros
- c. () 150 metros

ATIVIDADE DE CIÊNCIAS

Assistam ao vídeo “sistema circulatório”

- Nesta atividade você terá interação com a professora;
- 2) Decifre os códigos e descubra as partes do coração e complete o esquema abaixo:

A	=	◇
C	=	◇
D	=	◇
E	=	◇
I	=	◆
L	=	◇
N	=	◇
O	=	◇
Q	=	◆
R	=	◇
S	=	◆
T	=	◇
U	=	◇
V	=	◇



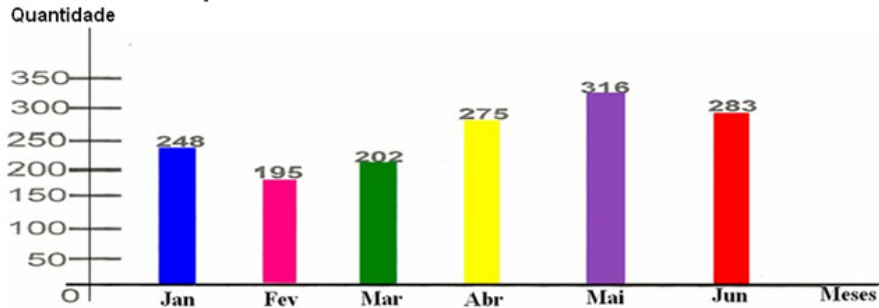
<https://br.pinterest.com/pin/409898003586447642/> Acesso em 23/04/2021

ATIVIDADE DE MATEMÁTICA:

SEXTA-FEIRA – 14/05/2021

A loja ABC Veículos organizou os números que representam a quantidade de carros vendidos no 1º semestre em um gráfico:

Carros vendidos pela ABC veículos



A partir dos dados do gráfico, responda:

1- Em que mês foi vendido mais carro?

2- Qual a diferença de carros vendidos entre os meses de maio e fevereiro?

3- Quantos carros foram vendidos no semestre?

4- No mês de janeiro, quantos carros foram vendidos a mais que no mês de março?

<http://1.bp.blogspot.com/-nVZN50suyKU/VBXGLobmfil/AAAAAAAAAGWg/C2Wvol839iq/s1600/02.png>