

3ºS ANOS A, B, C

PROFESSORES: ELAINE - FÁBIA - SIDINEY

FAZER O CABEÇALHO NO CADERNO. FAÇAM AS ATIVIDADES COM CARINHO.

ATIVIDADES DE 08 A 19 DE MARÇO

OLÁ QUERIDAS FAMÍLIAS E CRIANÇAS! ESPERO QUE ESTEJAM TODOS BEM. VAMOS INICIAR MAIS UMA QUINZENA. NA PRIMEIRA SEMANA TEREMOS UMA ATIVIDADE DIAGNÓSTICA DE LÍNGUA PORTUGUESA E UMA DE MATEMÁTICA, QUE DEVERÃO SER ENTREGUES NA ESCOLA ATÉ O DIA 22/03/2021.

ABRAÇOS, **PROFESSORES ELAINE, FÁBIA E SIDINEY.**

Dia da semana	Rotina diária: Descrição das Atividades
SEGUNDA – FEIRA 08/03/2021	LEITURA: MULHERES FANTÁSTICAS: MALALA YOUSAFZAI. DISPONÍVEL EM: https://youtu.be/alUvH5b0A_8 ACESSO EM 24/02/2021. ATIVIDADES: DIA INTERNACIONAL DA MULHER - ACRÓSTICA E COMPLETE.
TERÇA – FEIRA 09/03/2021	LEITURA: ANIMAZOO – BRINCANDO DE AMARELINHA. DISPONÍVEL EM: https://youtu.be/F08-39eev8s ACESSO EM 24/02/2021. ATIVIDADES: ATIVIDADE DIAGNÓSTICA DE LÍNGUA PORTUGUESA – LEIA E RESPONDA, ESCRITA DE PALAVRAS. ARTE: QUE TAL REALIZAR A ATIVIDADE DE ARTE SUGERIDA LÁ NO BLOG!
QUARTA – FEIRA 10/03/2021	LEITURA: DOROTEIA. A CENTOPÉIA. DISPONÍVEL EM: https://youtu.be/sYIFgtb5v-w ACESSO EM 24/02/2021. ATIVIDADE: ATIVIDADE DIAGNÓSTICA DE LÍNGUA PORTUGUESA - PRODUÇÃO DE TEXTO. INGLÊS: LÁ NO BLOG TEM ATIVIDADE DE INGLÊS. VAMOS CONFERIR! ST PATRICK'S DAY – DIA DE SÃO PATRÍCIO.
QUINTA – FEIRA 11/03/2021	LEITURA: LIVRO DE NÚMEROS DO MARCELO. DISPONÍVEL EM: https://youtu.be/x_5NlzMumO0 ACESSO EM 24/01/2021. ATIVIDADES: ATIVIDADE DIAGNÓSTICA DE MATEMÁTICA - ESCREVA DE NÚMEROS E RESOLVA OS PROBLEMAS. EDUCAÇÃO FÍSICA: HOJE É DIA DE CONFERIR LÁ NO BLOG A ATIVIDADE DE ED. FÍSICA!
SEXTA – FEIRA 12/03/2021	LEITURA: LIVRO DOS NÚMEROS, BICHOS E FLORES. DISPONÍVEL EM: https://youtu.be/TNnXJEIZAnk ACESSO EM 24/02/2021. ATIVIDADES: ATIVIDADE DIAGNÓSTICA DE MATEMÁTICA - OBSERVE O GRÁFICO E RESPONDA. CONTE AS FIGURAS GEOMÉTRICAS.
Dia da semana	Rotina diária: Descrição das Atividades
SEGUNDA – FEIRA 15/03/2021	LEITURA: BICHO POR BICHO. DISPONÍVEL EM https://youtu.be/l80cLpqKyhs ACESSO EM 24/02/2021. ATIVIDADES: LEITURA, GRAVAÇÃO DE ÁUDIO E ESCREVA NOMES DE ANIMAIS.
TERÇA – FEIRA 16/03/2021	LEITURA: URSO PANDA. DISPONÍVEL EM https://youtu.be/q7mT-DpTnZY ACESSO EM: 24/02/2021. ATIVIDADE: COMPLETE A FICHA DE UM ANIMAL. ARTE: QUE TAL REALIZAR A ATIVIDADE DE ARTE SUGERIDA LÁ NO BLOG!
QUARTA – FEIRA 17/03/2021	LEITURA: O MUNDINHO. DISPONÍVEL EM https://youtu.be/hlfzvJSuDM ACESSO EM: 24/02/2021. ATIVIDADES: PAISAGEM/ ELEMENTOS NATURAIS E CULTURAIS. INGLÊS: LÁ NO BLOG TEM ATIVIDADE DE INGLÊS. VAMOS CONFERIR! ALL ABOUT ME – TUDO SOBRE MIM.
QUINTA – FEIRA 18/03/2021	LEITURA: MATERIAL DOURADO E DECOMPOSIÇÃO NUMÉRICA. DISPONÍVEL EM: https://youtu.be/Y80hqORIUIM ACESSO EM 24/02/2021. ATIVIDADE: MATERIAL DOURADO. EDUCAÇÃO FÍSICA: HOJE É DIA DE CONFERIR LÁ NO BLOG A ATIVIDADE DE ED. FÍSICA!
SEXTA – FEIRA 19/03/2021	LEITURA: POR QUE EXISTEM OS NÚMEROS? DISPONÍVEL EM: https://youtu.be/hxTtaLC_pW4 ACESSO EM 24/02/2021. ATIVIDADE: CENTENA, DEZENA E UNIDADE.

NOSSA INTERAÇÃO CONTINUA ATRAVÉS DO WHATSAPP (GRUPO OU PARTICULAR) E AULA ONLINE.

EMEF VILLÁGIO GHIRALDELLI

NOME _____ 3º ANO _____

PROFESSOR (A) _____ DATA ___/___/2021.


ATIVIDADE DIAGNÓSTICA DE MATEMÁTICA**1 – ESCREVA O NÚMERO CORRESPONDENTE.**

OITO =	CEM =
ONZE =	DUZENTOS E DOIS =
TRINTA E QUATRO =	CENTO E VINTE E CINCO =
QUARENTA E TRÊS =	DOIS MIL E VINTE E UM =

2 – RESOLVA OS PROBLEMAS.

A - NUMA ESCOLA ESTUDAM 246 ALUNOS DE MANHÃ E 249 A TARDE. QUANTAS CRIANÇAS ESTUDAM NA ESCOLA?

B - NUMA SALA HÁ 28 ALUNOS, 15 SÃO MENINAS. QUANTOS MENINOS HÁ NESSA SALA?

3 – OBSERVE O GRÁFICO DOS ANIMAIS PREFERIDOS DOS ALUNOS DO 3 ANO E RESPONDA;

<https://br.pinterest.com/pin/813392382677098956/>

A – QUAL FOI O ANIMAL MAIS VOTADO?

B – QUAL O ANIMAL MENOS VOTADO?

C – QUANTOS VOTOS TEVE O CAVALO?

D – QUAL ANIMAL TEVE 7 VOTOS?

E – QUANTOS VOTOS O CACHORRO TEVE A MAIS QUE A ABELHA?

4 – CONTE AS FIGURAS GEOMÉTRICAS DA IMAGEM ABAIXO.

<https://br.pinterest.com/pin/794744665472669492/>

QUANTOS:

TRIÂNGULOS = _____

RETÂNGULOS = _____




QUADRADOS = _____

CÍRCULOS = _____

SEGUNDA – FEIRA (08/03/2021)

LEITURA: MULHERES FANTÁSTICAS: MALALA YOUSAFZAI. https://youtu.be/aIUvH5b0A_8

DIA INTERNACIONAL DAS MULHERES

<p>TENHO CERTEZA QUE VOCÊ TEM UMA MULHER INCRÍVEL QUE FAZ A DIFERENÇA NA SUA VIDA. PENSANDO NELA, COMPLETE ESTE ACRÓSTICO. DEPOIS DESENHE-A NO QUADRO AO LADO</p> <p>M _____ U _____ L _____ H _____ E _____ R _____</p> 	<p>MALALA É UMA MENINA QUE LUTOU PELO DIREITO DAS MENINAS PODEREM ESTUDAR EM SEU PAÍS. DESCUBRA QUAL É A FRASE MAIS FAMOSA DE MALALA.</p>  <p>MALALA YOUSAFZAI PRÊMIO NOBEL DA PAZ 2014</p> <p>UM _____ </p> <p>UMA _____ </p> <p>UMA _____ </p> <p>UM _____ </p> <p>PODEM MUDAR O MUNDO.</p> <p>CANETA - LIVRO - PROFESSOR - CRIANÇA</p>
--	---

<https://www.facebook.com/groups/professoresdo2ano.ensinofundamental/permalink/2822914847964392/>

SEGUNDA – FEIRA (15/03/2021)

LEITURA: BICHO POR BICHO. <https://youtu.be/l80cLpgKyhs>

1 – LEIA O TEXTO: OS ANIMAIS.

OS ANIMAIS SÃO SERES VIVOS. ELAS NASCEM, CRESCEM, SE REPRODUZEM E MORREM. EXISTEM OS ANIMAIS DOMÉSTICOS E OS ANIMAIS SILVESTRES (SELVAGENS).

OS ANIMAIS DOMÉSTICOS SÃO AQUELES QUE VIVEM JUNTOS COM AS PESSOAS, DENTRO DE CASA OU NO QUINTAIS E FAZENDAS, COMO: CACHORROS, PERIQUITO, GALINHA, VACA, PORCO E OUTROS.

OS ANIMAIS SILVESTRES SÃO OS ANIMAIS QUE VIVEM LIVREMENTE NO LUGAR ONDE NASCERAM QUE PODEM SER FLORESTAS, SAVANAS, OCEANOS, RIOS COMO: TIGRE, ELEFANTE, LOBO, BALEIA ENTRE OUTROS.

2 – GRAVE UM ÁUDIO FAZENDO A LEITURA E MANDE PARA SEU (SUA) PROFESSOR (A).

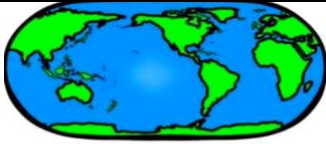
3 – ESCREVA TRÊS ANIMAIS DOMÉSTICOS E TRÊS ANIMAIS SILVESTRES, QUE NÃO ESTEJAM NO TEXTO.

TERÇA – FEIRA (16/03/2021)

LEITURA: URSO PANDA. <https://youtu.be/q7mT-DpTnZY>

1 – PESQUISE E PREENCHA A FICHA DO ANIMAL SILVESTRE ABAIXO.

PARA SABER SOBRE O URSO PANDA, ACESSE O LINK <https://brasilescola.uol.com.br/animais/urso-panda.htm> .



PANDA



NOME E DESCRIÇÃO (COMO ELE É) _____

HABITAT (ONDE VIVE): _____

DO QUE SE ALIMENTA: _____

CURIOSIDADE (ALGO QUE MAIS GOSTOU SOBRE ELE): _____

COM QUAL ANIMAL SE PARECE _____

TAMANHO QUE PODE CHEGAR: _____

PESO: _____ EXPECTATIVA DE VIDA: _____


<https://educacaoetransformacaooficial.blogspot.com/2019/03/animais-ficha-tecnica.html>

QUARTA – FEIRA (17/03/2021)

LEITURA: O MUNDINHO. <https://youtu.be/hlzfzjSuDM>


NO TEXTO SOBRE ANIMAIS, VIMOS QUE CADA UM TEM SEU LUGAR DE VIVER, E ESSE LUGAR POSSUI CARACTERÍSTICAS PRÓPRIAS. NÓS NÃO SOMOS DIFERENTES. TUDO QUE PODEMOS VER E PERCEBER AO NOSSO REDOR, FORMA A PAISAGEM. E ESTA PODE TER ELEMENTOS NATURAIS, QUE SÃO FORMADOS PELA NATUREZA, POR EXEMPLO: RIOS, MONTANHAS, MAR, VEGETAÇÃO ORIGINAL ETC. OU ELEMENTOS CULTURAIS, CRIADOS PELAS PESSOAS, POR EXEMPLO: CASAS, PRÉDIOS, ESTRADAS, PONTES ENTRE OUTROS.

1 – CIRCULE, OU ESCREVA NO CADERNO O ELEMENTO CULTURAL DA PAISAGEM ABAIXO.



<https://br.pinterest.com/pin/420031102730164299/>

2 – PINTÉ OU ESCREVA NO CADERNO, SOMENTE OS ELEMENTOS NATURAIS DA PAISAGEM.



<https://br.pinterest.com/pin/420031102730164299/>

QUINTA – FEIRA (18/03/2021)

LEITURA: MATERIAL DOURADO E DECOMPOSIÇÃO NUMÉRICA. <https://youtu.be/Y80hqORIUM>

CENTENA, DEZENA E UNIDADE

O SISTEMA DE NUMERAÇÃO QUE NORMALMENTE USAMOS É CHAMADO DE SISTEMA DE NUMERAÇÃO DECIMAL, ONDE OS AGRUPAMENTOS SÃO REALIZADOS DE 10 EM 10. O MATERIAL DOURADO AJUDA A ENTENDER A FORMAÇÃO DE UM NÚMERO. VEJA ABAIXO:



<https://educacaoetransformacaooficial.blogspot.com/2020/03/matematica-centena-dezena-e-unidade.html>

1 – CONTE AS CENTENAS, DEZENAS E UNIDADES E ESCREVA O NÚMERO QUE FORMA.

	1 CENTENA, 5 DEZENAS E 5 UNIDADES	155

<https://atividadespedagogicasuzano.com.br/wp-content/uploads/2017/09/CENTENA-page-004-3.jpg>

SEXTA – FEIRA (19/03/2021)

LEITURA: POR QUE EXISTEM OS NÚMEROS? https://youtu.be/hxTtaLC_pW4

1 – COMPLETE A TABELA COM OS NÚMEROS A SEGUIR: 147, 154, 208, 321, 350, 386.

NÚMERO	CENTENA	DEZENA	UNIDADE	ESCRITA POR EXTENSO
135	1	3	5	CENTO E TRINTA E CINCO