



## ATIVIDADES DE QUARENTA – 5º ANOS – PROFESSORAS ROSELI E OTACÍLIA

Quinzena: 26/07 a 06/08

INTERAÇÕES REALIZADAS PELAS PROFESSORAS: GRUPOS DE WHATSAPP, CHAMADAS DE VÍDEOS, HISTÓRIAS, VÍDEOS E MÚSICAS ONLINE.

- Fiquem atentos às aulas de Inglês dessa quinzena.
- Não esqueça de realizar as atividades de Arte e Educação Física!!!

### **SEMANA 2 – 02 A 06 DE AGOSTO**

SEGUNDA-FEIRA, 02/08

Projeto CPFL – Para começar, leia a história em quadrinhos que se encontra nas primeiras páginas do seu Almanaque Liga dos Economix: Combate aos desperdícios!

Já leu? Muito bem! Acho que teremos muito trabalho a fazer para ajudar essa turminha! Mas, antes ..... me responda uma coisa: será que você consegue copiar está história em seu caderno, usando parágrafo, travessão ( afinal, tem muita conversa entre as personagens) e a pontuação correta? Sabe? Então vamos lá!

Não se esqueça do título! Ahhhhh! Está com dúvida? Vou começar então!

#### **DESPERDÍCIUS ATACAM NOVAMENTE**

No planeta dos Economix tudo estava tranquilo e divertido como sempre.

Mas enquanto isso no planeta Terra ...

Ledinha, Chuvisco e Gekadex são os super-heróis da economia, eles vivem num planeta que utiliza a energia elétrica com muita responsabilidade.

\_\_\_ Vamos na oficina trocar a borracha da sua porta Gekadex?

\_\_\_ Verdade .....

AGORA É COM VOCÊ, QUERIDO ALUNO! ENTENDEU COMO FAZ?

TERÇA-FEIRA, 03/08

Língua Portuguesa

Ontem você reescreveu uma história, cheia de falas. De conversas entre as personagens.

Hoje você vai me contar, com suas palavras, a história em quadrinhos que está no seu livro de Língua Portuguesa. Depois copie e responda às 3 perguntas.

Livro ÁPIS – página 53 (Faça as atividades e conte a história em seu caderno)

Matemática

## Ordens e classes



### I. Complete o quadro de ordens e classes



	CLASSE DOS MILHÕES			CLASSE DAS UNIDADES DE MILHAR			CLASSE DAS UNIDADES SIMPLES		
	CM	DM	UM	CM	DM	UM	C	D	U
	9ª ORDEM	8ª ORDEM	7ª ORDEM	6ª ORDEM	5ª ORDEM	4ª ORDEM	3ª ORDEM	2ª ORDEM	1ª ORDEM
18.785									
123.820.451									
232.827									
5.539									
50.793									
740									
5.706.563									
25.632.683									
89									

QUARTA-FEIRA, 04/08

E hoje.... É nossa última atividade da Olimpíada de Língua Portuguesa!

Se você ainda não postou nenhum poema no Padlet, se não leu nenhum poema pra mim ou, se não criou nenhum poema ainda.....esta é a hora! Hoje é o último dia para colocar tudo em ordem! Não fique for a dessa! Corra!

História

Veja um pouquinho sobre a importância da cultura e da religião na formação dos povos antigos!

<https://m.youtube.com/watch?v=jlETK1Mzcvl>

# Matemática

Escola: \_\_\_\_\_


Data: \_\_\_\_\_ Turma: \_\_\_\_\_ **EDUCALUNOS.COM**

Aluno: \_\_\_\_\_

## QUESTÃO 2

Leia, resolva e marque a resposta certa:

Paulo, José e Joana foram ao shopping. Observe os preços dos brinquedos de que mais gostaram.



A) Paulo tem 52 reais. Pode comprar dois desses brinquedos. Quais são os dois brinquedos que ele pode comprar?

- O carrinho e a bola.
- A boneca e a bola.
- O carrinho e a boneca.

B) Joana tem uma nota de 50 reais, uma de 20 reais e uma de 10 reais. Quanto Joana tem?

- 70 reais.
- 60 reais.
- 80 reais.

C) Joana quer comprar 2 bonecas com o dinheiro que tem. Quanto receberá de troco se comprar as bonecas?

- 10 reais.
- Não terá troco a receber.
- 20 reais.

D) José tinha 10 reais. Ele queria comprar uma bola para dar de presente a sua irmã. Quanto falta para poder comprar a bola?





- 1 real.
- 2 reais.
- 3 reais.

Escola: \_\_\_\_\_

Data: \_\_\_\_\_ Turma: \_\_\_\_\_ **ENSINOJA**

Aluno: \_\_\_\_\_

Resolva os problemas.

CÁLCULOS	
O ônibus da escola de Mariana tem capacidade para 30 alunos. Hoje apenas 22 alunos foram. Quantos alunos faltaram?	
Na casa de Mateus têm 10 laranjeiras, 1 mangueira, 2 limoeiros, 12 aceroleiras e 2 bananeiras. Quantas árvores tem na casa de Mateus, no total?	
Junior tem uma coleção de carrinhos de brinquedos com 128 carrinhos. Ele quer dividi-los igualmente em quatro prateleiras. Quantos carrinhos cada prateleira terá?	
Se a previsão é de que o dia amanhaça em 20°C e passe para 33°C ao longo do dia. Quantos graus irá subir?	

QUINTA-FEIRA, 05/08

Língua Portuguesa

Produção de texto (Crônica) : Livro ÁPIS – página 68 e 69

Você se lembra como é este tipo de texto?

Abra seu livro na página 51 e leia o esquema!

Você também deve reler a crônica: Comunicação, de Luís Fernando Veríssimo, que está na página 43. Lembra que já leu esta crônica?

Para te ajudar mais um pouco, leia também a crônica da página 70: Uma lição inesperada, de João Anzanello Carrascoza.

Muito bem! Agora.... Vá para a página 68 e faça a sua. Releia. Corrija os erros que possam existir e me mande uma foto bem nítida para que eu consiga ler e corrigir.

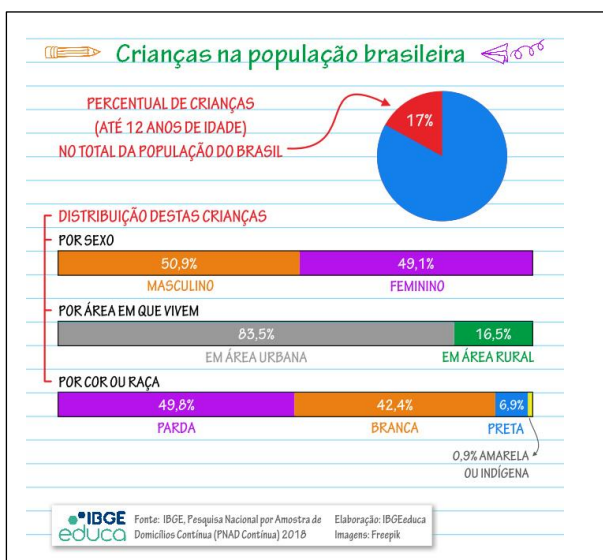
Matemática

## Definição de Estatística

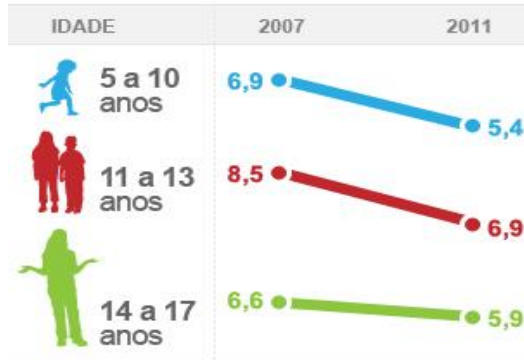
A **Estatística** é uma parte da Matemática Aplicada que fornece métodos para a coleta, organização, descrição, análise e interpretação de dados e para a utilização dos mesmos na tomada de decisões.

**DADOS:** Consistem em informações que vêm de observações, contagens, medições ou respostas.

Estes dados por ser informados de várias maneiras, com diferentes gráficos e tabelas.



### Veja os índices de leitura de livros entre crianças e adolescentes



Fonte: Ibope Inteligência/Fundação Pró-livro  .com.br

### ALIMENTOS PREFERIDOS PELAS CRIANÇAS DA TURMA



Alimentos	Nº de alunos
Massa	8
Hamburger	4
Batata Frita	6
Salgadinho	2
Pizza	10
<b>Total</b>	<b>30</b>

### QUAL A QUANTIDADE IDEAL DE ÁGUA PARA OS BEBÊS E AS CRIANÇAS?

0 A 6 MESES*	7 A 12 MESES	1 A 3 ANOS
700ml	800ml	1,3L
4 A 8 ANOS	9 A 13 ANOS	14 A 18 ANOS
1,7L	2,4L	3,3L

\*(somente no caso de uso da fórmula)

Fonte: Sociedade Brasileira de Pediatria



Copie e responda em seu caderno:

- 1) De acordo com o primeiro gráfico (Crianças na população brasileira), em 2018, a maioria das crianças viviam na área urbana ou rural?
- 2) De acordo com o segundo gráfico, neste mesmo ano, todas as crianças maiores de 7 anos estavam alfabetizadas?
- 3) De acordo com o terceiro gráfico, de 2007 para 2011, o número de crianças leitoras, aumentou ou diminuiu?
- 4) Qual o alimento preferido pelas crianças pesquisadas nas tabelas?
- 5) De acordo com a última tabela, qual a quantidade ideal de água para você tomar por dia?

SEXTA-FEIRA, 06/08

Língua Portuguesa e Geografia

Abra seu livro: Buriti Mais Geografia, nas páginas 90, 91,92 e 93, leia os textos que falam da modernização das atividades econômicas e responda às perguntas 1, 2 e 3.

Agora, observe as figuras e escreva um pequeno texto, em seu caderno, explicando o que está acontecendo com as pessoas ali presentes.

Depois, faça um desenho retratando como será o ambiente que irão encontrar na cidade grande, em relação as diferenças existentes entre campo e cidade: trânsito, higiene, movimentos, etc.

Destaque em seu desenho e escreva um parágrafo, informando a diferença entre os meios de transporte e cuidados no trânsito no campo e na cidade!

Mande fotos!

