

3ºS ANOS A, B, C

Professores: Elaine – Fábila – Sidiney

Fazer o cabeçalho no caderno. Façam as atividades com carinho.


Atividades de 02 a 06 de agosto

Nossa interação continua através do WhatsApp (grupo ou individual), videoaula e aula online.

Dia da semana	Rotina diária: Descrição das Atividades
Segunda-feira 02/08/2021	Leitura: Os Três Porquinhos. Disponível em: https://youtu.be/N84TDkRoG0o Atividades: Produção de texto: Reescrita do conto dos Três Porquinhos. Educação Física. Realize as atividades propostas pela professora.

PRODUÇÃO DE TEXTO

Você irá assistir o vídeo: <https://youtu.be/n84tdkrog0o>, e depois em seu caderno irá fazer a reescrita do conto “Os Três Porquinhos”. Observando: Título, parágrafos, escrita com letras maiúsculas e minúsculas e sinais de pontuação. Não esquecendo que o seu reconto deverá ter começo, meio e fim.



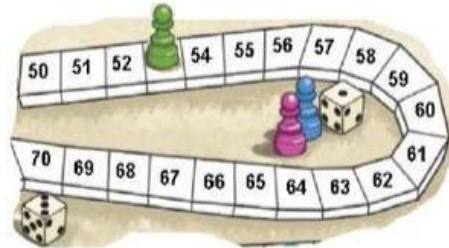
Dia da semana	Rotina diária: Descrição das Atividades
Terça-feira 03/08/2021	Leitura: Instrumentos de medida. Disponível em: https://youtu.be/tbh1BfAOcKc Atividades: Matemática: Resolva as situações-problema e as atividades envolvendo medidas de comprimento. Arte. Realize as atividades propostas pela professora.

Matemática - Resolva as situações-problema abaixo:

a) O peão de Jeremias estava na casa 53. Ele jogou os dados e fez 12 pontos, para qual casa ele vai?

D	U

R: Jeremias vai para casa _____.



b) Nathan fez 10 pontos e estava com o peão na casa 78. Em qual casa ele deve colocar o peão agora?

D	U

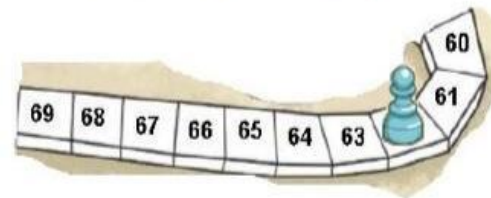
R: Ele deve colocar o peão na casa _____.



c) Pedro fez 2 pontos e o peão foi para a casa 62. Em qual casa o peão estava antes?

D	U

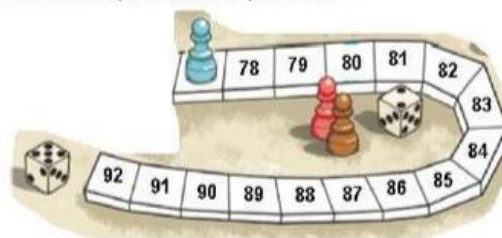
R: O peão estava na casa _____.



d) Maria fez 12 pontos e o peão estava na casa 77. Para qual casa o peão foi?

D	U


R: O peão foi para a casa _____.



e) Letícia fez 11 pontos e o peão foi para a casa 68. Em qual casa o peão estava antes?

D	U

R: O peão estava antes na casa _____.



MEDIDAS DE COMPRIMENTO


Para medir o comprimento usamos o metro. 1 metro tem 100 centímetros.



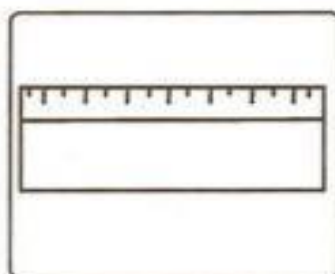
Observe os instrumentos utilizados para medir comprimentos e responda às perguntas abaixo.



Metro articulado



Fita métrica



Régua

- a) Luíza usa a _____ na sala de aula.
b) A costureira usa a _____ para tirar as medidas.
c) O pedreiro trabalha com o _____.

Complete as frases:

- a) 1 metro tem _____ centímetros.
b) Meio metro tem _____ centímetros.

<https://onlinecursosgratuitos.com/22-atividades-com-medidas-de-comprimento-para-imprimir/>

Dia da semana	Rotina diária: Descrição das Atividades
Quarta-feira 04/08/2021	Leitura: Animais Invertebrados. Disponível em: https://youtu.be/lo6fZjdKS5M Atividades: Ciências - Animais Vertebrados: Leitura das páginas 32, 33 e 34 e atividades de interpretação das páginas 36 e 37 do livro Buriti mais Ciências. Inglês. School supplies 1 (suplementos escolares) página 21.

Ciências: Agora você irá fazer a leitura do texto “Animais Vertebrados” das páginas 32, 33 e 34, e também irá realizar as atividades de interpretação das páginas 36 e 37 do livro Buriti mais Ciências.

Dia da semana	Rotina diária: Descrição das Atividades
Quinta-feira 05/08/2021	Leitura: Palavra Cantada – Se não serve se recicla. Disponível em: https://youtu.be/lr0jvAm0u1Q Atividades: Geografia - Leitura e interpretação do texto “O que fazer com o lixo?” das páginas 102 e 103 do livro Buriti mais Geografia.

Geografia: Agora você irá fazer a leitura e interpretação do texto “O que fazer com o lixo?” das páginas 102 e 103 - Faça um acrostico com as palavras dos cinco Rs:

R	R	R	R	R
E	E	E	E	E
P	C	D	C	U
E	U	U	I	T
N	S	Z	C	I
S	A	I	L	L
A	R	R	A	A
R			R	R

Dia da semana	Rotina diária: Descrição das Atividades
Sexta-feira 06/08/2021	Leitura: Bob Zoom – Amizade. Disponível em: https://youtu.be/gOIV7UuuBMo Atividades: História - Atividade divertida das páginas 134 e 135 do livro Buriti mais História.

História: Vamos brincar um pouco - Realizando a atividade divertida das páginas 134 e 135 do livro Buriti mais História.

