

SEGUNDA – FEIRA
16/08

LEITURA DO DIA: "Sapo dentro do saco"
<https://youtu.be/ON3hsofuZdY> (acesso em 31/07)

❖ **LEITURA E ESCRITA.**

1. LEIA O POEMA ABAIXO.

O SAPO DE GRAVATA

JÁ VI

SAPO DENTRO DO SACO

SAPO BATENDO PAPO

MAS...

SAPO DE GRAVATA

COM SAPATO DE GRIFE

TOMANDO SUCO DE GROSELHA

TODO GRACIOSO

DEITADO NA GRAMA

DEVO MESMO É ESTAR COM FEBRE

POR CONTA DA GRIPE.

AUTOR: ALMIR NEVES

ENTENTENDO MELHOR O TEXTO

A- ONDE ESTAVA O SAPO?

B- O QUE O SAPO TOMAVA?

C- ONDE ELE ESTAVA DEITADO?

D- DE ACORDO COM O TEXTO, A FEBRE FOI SINTOMA DE QUAL DOENÇA DO SAPO?

E- CIRCULE AS PALAVRAS ENCONTRADAS NO TEXTO COM O SOM DO GR.



❖ **MATEMÁTICA.**

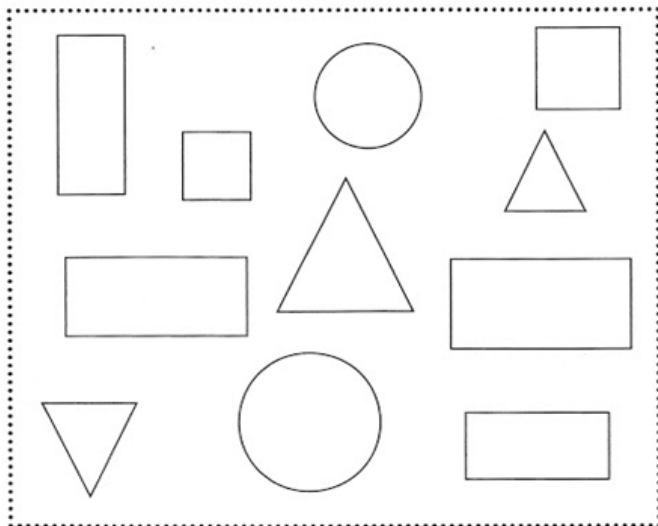
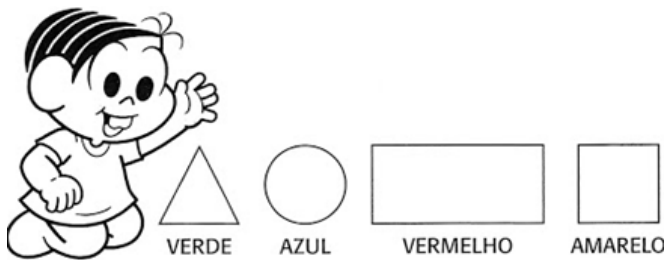
HOJE NA ATIVIDADE DE MATEMÁTICA VAMOS DESCOBRIR AS ATRAÇÕES DA FESTA DE UMA ESCOLA, PARA ISSO VOCÊ PRECISARÁ DO SEU LIVRO **EMAI & LER E ESCREVER**. NA PÁGINA **13** DESCUBRA O QUE A PROFESSORA DÉBORA FEZ PARA ANIMAR A FESTA E NAS PÁGINAS **14 E 15** VEJA O QUE ACONTECEU NA FINAL DO CAMPEONATO. ÓTIMA ATIVIDADE!

QUINTA – FEIRA
19/08

LEITURA DO DIA: “Aprenda as FORMAS GEOMÉTRICAS com Pocoyo”
<https://www.youtube.com/watch?v=KIVflfggy6c> (acesso em 31/07)

❖ MATEMÁTICA

1. PINTE AS FORMAS GEOMÉTRICAS DE ACORDO COM A LEGENDA.



Referência: deixemamaeepapai.blogspot.com

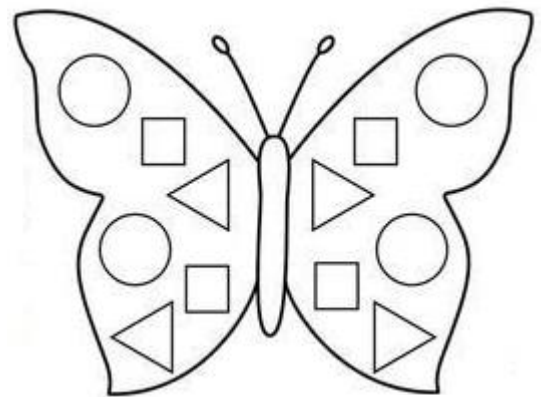
2. QUAL O NOME DA FORMA GEOMÉTRICA QUE VOCÊ PINTOU DE VERDE? _____.

3. QUAL O NOME DA FORMA GEOMÉTRICA QUE VOCÊ PINTOU DE AZUL? _____.

4. QUAL O NOME DA FORMA GEOMÉTRICA QUE VOCÊ PINTOU DE VERMELHO? _____.

5. QUAL O NOME DA FORMA GEOMÉTRICA QUE VOCÊ PINTOU DE AMARELO? _____.

6. USE SUA CRIATIVIDADE PARA COLORIR A IMAGEM ABAIXO.



Referência: mungfali.com

HORA APROFUNDAR NOSSO CONHECIMENTO!

- ✓ EM SEU LIVRO DE **MATEMÁTICA** REALIZA AS ATIVIDADES DAS PÁGINAS **79, 80 E 81.**
- ✓ EM SEU LIVRO **EMAI & LER E ESCREVER** FAÇA AS PÁGINAS **28, 29 E 30.**

ÓTIMA ATIVIDADE!!

2ºs ANOS
Professoras: Anamirtes, Hildenei e Carolina


SEXTA – FEIRA
20/08

LEITURA DO DIA: “A Vaca Que Botou Um Ovo - por Andy Cutbill - AudioBook Infantil”
<https://www.youtube.com/watch?v=UavpQVvjT1Y> (acesso em 31/07)

OI GALERINHA, TUDO BEM COM VOCÊS?

VAMOS TESTAR COMO ESTÁ O SEU CONHECIMENTO SOBRE LATERALIDADE. RESPONDENDO AS ATIVIDADES ABAIXO:

OBSERVE OS DESENHOS E MARQUE O CERTO.



1 - O PINCEL ESTÁ:

- () DEBAIXO DA MESA () EM CIMA DA MESA
() AO LADO DA MESA () LONGE DA MESA

2 - A MENINA SEGURA O BALÃO COM A MÃO:

- () DIREITA () ESQUERDA

3 - O QUE ESTÁ EM CIMA DA MESA É:

- () O GATO () A MOCHILA () O PINCEL

4 - O GATINHO ESTÁ INDO EM DIREÇÃO:

- () À ESQUERDA () À DIREITA

5 - EM QUE LADO A MENINA ESTÁ DA MESA?

- () DIREITO () ESQUERDO

PARA FICAR AINDA MELHOR, QUE TAL REALIZAR AS ATIVIDADES DO LIVRO DE **GEOGRAFIA** DAS PÁGINAS: **52 ATIVIDADE 5 ATÉ ATIVIDADE 9. PÁGINA 53: ATIVIDADES 10.**

FAÇA COM CAPRICO.

ÓTIMA AULA.