

4ºs ANOS

Professoras: Vanusa, Cris Begalli, Ana Paula e Andréia

04 A 08 DE OUTUBRO

ESSAS ATIVIDADES VOCÊ FARÁ
EM CASA (SE ESTIVER NO
REMOTO) E NA ESCOLA (SE
ESTIVER NO PRESENCIAL).



SEGUNDA – FEIRA 04/10

Leitura do dia: Lolo Barnabé – Parte 1

https://drive.google.com/file/d/1AJH-K5rIWgeBAYs2IERibcHh65_DPwa4/view?usp=sharing

❖ **PORTUGUÊS: Comparando mapa e roteiro.**

- ✓ Nas atividades anteriores vocês aprenderam sobre os gêneros “Mapa” e “Roteiro”. Hoje vamos comparar e relacionar esses dois gêneros:
- 1) Observe o Mapa na página **244** e faça as atividades da página **245 até a 249** do seu livro Ápis de Língua Portuguesa.

TERÇA – FEIRA 05/10

Leitura do dia: Lolo Barnabé – Parte 2

<https://drive.google.com/file/d/1B7ErMEIOQxggpyeBXM7uA-nK5OPLHXgg/view?usp=sharing>

❖ **PORTUGUÊS: Outras linguagens - Fotografia.**

- ✓ Vocês sabiam que podemos realizar a leitura de imagens?
- A **leitura de imagem** é o processo pelo qual se analisa os conteúdos de uma **imagem**, ou seja, é interpretação da visualidade, sendo assim um ótimo meio para entendermos melhor o mundo ao nosso redor. ... Ao aprender a ler **imagens**, tornamos nossa percepção de mundo mais elaborada e amadurecemos nosso olhar.

Referência: Blog Angélica Ribeiro.

- 1) Observe as Fotografias 1 e 2 nas páginas **252 e 253** do seu livro Ápis de Língua Portuguesa.
- 2) Responda as questões 1 e 2 da página **253**.
- 3) Leia o Mapa de roteiro turístico das páginas **254 e 255**.

❖ **MATEMÁTICA: Arme e efetue.**

1-) ARME E EFETUE AS OPERAÇÕES SEM EU CADERNO COM ATENÇÃO.

A-) $441 - 325 =$

F-) $650 + 167 =$

K-) $146 \times 2 =$

B-) $714 - 222 =$

G-) $841 + 97 =$

L-) $163 \times 3 =$

C-) $472 - 204 =$

H-) $314 + 265 =$

M-) $123 \times 4 =$

D-) $327 - 241 =$

I-) $321 + 286 =$

N-) $98 \times 5 =$

E-) $860 - 103 =$

J-) $644 + 259 =$

O-) $47 \times 6 =$

QUARTA – FEIRA 06/10


Leitura do dia: Lolo Barnabé – Parte 3

<https://drive.google.com/file/d/1126ez7nXHTD5JovpRiJHVFHuBlmbUKNi/view?usp=sharing>


❖ **PORTUGUÊS: Acento agudo e circunflexo.**

✓ **Leia:**

ACENTUAÇÃO GRÁFICA



O acento gráfico é colocado na sílaba tônica da palavra, isto é, na sílaba que pronunciamos com mais força.



ACENTO AGUDO (´): representa um som aberto

Leia as frases observando o sentido das palavras em destaque:

A – Os **pais** de Laura saíram cedo de casa.

B – O Pará é um dos maiores estados de **país**.

Observe que o acento agudo mudou o sentido da palavra (pais – país).

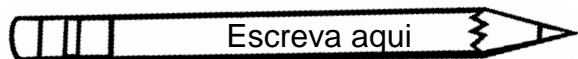
O acento agudo pode ser usado sobre as vogais: a, e, i, o, u. Como nas palavras: água, fé, boné, fásca, cócega, pó, música.

ACENTO CIRCUNFLEXO (^): representa um som fechado.

Ônibus - vovô - Mônica

O acento circunflexo pode ser usado apenas sobre as vogais: a, e, o. Como nas palavras: pântano, ipê, inglês, estômago, Mônica.


1) No quadro abaixo, pinte as palavras que têm acento agudo e copie as que têm acento circunflexo:




Chapéu	Vigilância	Máquina
Camelô	Lápis	Milênio
Fubá	Cachê	Baú
Você	Calendário	Português
Abóbora	Robô	Mágico

2) Acentue as palavras e copie-as no diagrama correspondente, de acordo com a acentuação e o número de letras.


TRES – DIFICIL – ROBO – LAMPADA – FOSFORO – REGUA – ESTOMAGO – LENCOS – RELÓGIO - TRANSITO – ATRAS – FOLEGO - SAIDA



Palavras com acento circunflexo (^).



Palavras com acento agudo (´).



❖ **MATEMÁTICA: Situações problemas.**

1-) SOLUCIONE AS SITUAÇÕES PROBLEMAS.

RECORTE, COLE, LEIA COM ATENÇÃO E RESOLVA AS SITUAÇÕES PROBLEMAS EM SEU CADERNO.

A-) CARLOS GUARDOU SUA COLEÇÃO DE LATAS DE REFRIGERANTE EM CAIXAS. EM CADA CAIXA COUBERAM 28 LATAS. ELE USOU 7 CAIXAS E SOBRARAM FORA DAS CAIXAS 6 LATINHAS. QUANTAS LATAS TEM AO TODO NA COLEÇÃO DE CARLOS?

B-) MARCELA GANHOU UM LIVRO DE HISTÓRIA E JÁ LEU 187 PÁGINAS DESSE LIVRO E AINDA FALTAM 218. QUANTAS PÁGINAS TEM O LIVRO TODO?

C-) EM 2020 UMA LIVRARIA VENDEU 829 LIVROS E EM 2019 FOI VENDIDO 354 LIVROS A MAIS. QUANTOS LIVROS FORAM VENDIDOS NO ANO DE 2019?

D-) FÁBIO COMPROU 5 CAIXAS DE PARAFUSOS PARA A SUA LOJA. CADA CAIXA CONTÉM 120 PARAFUSOS. NO TOTAL, QUANTOS PARAFUSOS FÁBIO COMPROU PARA A LOJA?

E-) NA PAPELARIA ARCO-ÍRIS O VALOR DO MATERIAL ESCOLAR É DE 312 REAIS, E NA PAPELARIA ABC O MATERIAL FICA NO VALOR DE 237 REAIS. QUAL É A DIFERENÇA NO VALOR DO MATERIAL ESCOLAR ENTRE AS DUAS PAPELARIAS?

F-) LAURA TINHA NA CAIXA 180 CARRETÉIS DE LINHA E JÁ USOU 56. QUANTOS CARRETÉIS AINDA RESTAM SEM USAR?

G-) BEATRIZ COMPROU UMA MÁQUINA COPIADORA QUE FAZ 55 CÓPIAS POR MINUTO. QUANTAS CÓPIAS ESSA MÁQUINA FARÁ EM 7 MINUTOS ?

H-) UMA PEQUENA CIDADE POSSUIA 3.287 HABITANTES. EM UM ANO, O NÚMERO DE HABITANTES AUMENTOU PARA 7.654. QUANTOS HABITANTES A CIDADE GANHOU?

QUINTA - FEIRA 07/10

❖ MATEMÁTICA: Sequência numérica.

1-) CRAQUE NAS SEQUÊNCIAS.

COMPLETE AS SEQUÊNCIAS ABAIXO COM OS NÚMEROS CORRETOS.

A-) 428, 430, 432, 434, _____, _____, _____, _____, _____.

B-) 380, 378, 376, 374, _____, _____, _____, _____, _____.

C-) 230, 233, 236, 239, _____, _____, _____, _____, _____.

D-) 600, 597, 594, 591, _____, _____, _____, _____, _____.

2-) REGISTRE EM SEU CADERNO A SEQUÊNCIA NUMÉRICA DE 200 À 300 CONTANDO DE 5 EM 5.

3-) ORDENE OS NÚMEROS ABAIXO SEGUINDO A:

• ORDEM CRESCENTE.

A-) 856, 205, 685, 502 →

B-) 105, 692, 495, 319 →

C-) 745, 917, 201, 738 →

D-) 378, 324, 953, 764 →

• ORDEM DECRESCENTE.

A-) 178, 871, 187, 817 →

B-) 560, 630, 450, 550 →

C-) 432, 234, 324, 342 →

D-) 501, 565, 587, 155 →

❖ CIÊNCIAS: Animais marinhos e Projeto CPFL.

Vamos falar de animais marinhos em diferentes **Ecosistemas**.

Quando falamos sobre Ecosistemas aquáticos temos que ter em mente que é o maior grupo de ecossistemas, representando pouco mais de 70 por cento da superfície do planeta, portanto os ecossistemas aquáticos foram ramificados de acordo com as características dos ambientes.

Os ecossistemas marinhos surgiram e representam uma dessas ramificações onde existem as planícies abissais, que é a parte mais profunda dos oceanos, onde vivem muitos animais aquáticos.

A principal característica dos ecossistemas marinhos é o alto teor de sal das águas.

Fonte: <https://www.infoescola.com/ecologia/ecossistemas-marinhos/> Acesso em 25/09/2021.

Texto adaptado pela professora

Atividades:

- 1) O que são planícies abissais?
- 2) Dê exemplos de 5 animais marinhos.

Projeto CPFL Nas Escolas Energia Em Jogo

O QUE É SELO PROCEL?

✓ Para saber abra seu almanaque na **página 28** e compreenda a importância deste SELO PROCEL.

✓ Agora realize as atividades 1, 2, 3 da página 29.

SEXTA – FEIRA 08/10

❖ HISTÓRIA: Descobrimento do Brasil.

Leia o texto com muita atenção: **Descobrimento do Brasil**

Quem descobriu o Brasil foi Pedro Álvares Cabral no dia 22 de abril de 1500! A expedição organizada pelos portugueses a pedido do Rei Dom Manuel tinha como objetivo repetir o feito de Vasco da Gama e chegar às Índias. Estavam em busca de metais preciosos, como o ouro e a prata, e especiarias!

Não se sabe ao certo por que Cabral desviou tanto a oeste da sua rota original, sabemos apenas que não fosse isto os portugueses não teriam descoberto as terras brasileiras.

No dia 22 ouviu-se um grito “terra a vista”! Avistaram um monte, que recebeu o nome de Monte Pascoal. O nome dado a terra descoberta foi Terra de Santa Cruz, atualmente cidade de Porto Seguro na Bahia. O nome definitivo, Brasil, só veio alguns anos depois, devido a quantidade de pau-brasil encontrado no litoral!

A carta escrita por Pero Vaz Caminha e enviada para o rei em Portugal descreve com detalhes a viagem, a terra descoberta e os povos que nela habitavam, os índios. Este é um importante documento histórico!

Smart kids Disponível em ><https://www.smartkids.com.br/trabalho/descobrimento-do-brasil> Acesso em 25/09/2021

✓ Assista o vídeo e entenda um pouco mais deste assunto:
<https://www.youtube.com/watch?v=UREgevDt8T0> Resumo de História: O
DESCOBRIMENTO DO BRASIL - História do Brasil

Vamos registrar o que aprendemos.

Copie e responda as questões no caderno:

- 1) Em que dia, mês e ano o Brasil foi descoberto?
- 2) Quem descobriu o Brasil?
- 3) Por que o Brasil recebeu esse nome?
- 4) Quais povos os Portugueses encontraram ao chegar ao Brasil?

❖ GEOGRAFIA: Os climas do Brasil.

Vamos falar sobre os diferentes climas no nosso país.

Os climas do Brasil

O clima pode ser muito diferente de um lugar para o outro. Há lugares em que chove muito, outros que chove raramente; enquanto em certos lugares faz frio, em outros faz calor.

A maior parte do Brasil situa – se na zona tropical, que é a região mais quente do planeta Terra. Por isso, em nosso país predominam climas quentes, com temperaturas elevadas e quantidade variável de chuvas.

Veja as principais características dos climas do Brasil:

- **Equatorial:** Clima quente e muito úmido, com grandes quantidades de chuva durante o ano. Esse é o clima predominante na região Amazônica e porções dos estados de Mato Grosso e Maranhão.
- **Tropical:** Clima quente, com duas estações bem distintas: inverno seco e verão chuvoso. Abrange estados das regiões Centro – Oeste, Nordeste, Norte e Sudeste.
- **Semiárido:** Clima quente e seco, com as mais elevadas temperaturas médias do país e as menores quantidades de chuvas. Esse clima do Brasil predomina no interior nordestino.
- **Tropical de altitude:** Clima que ocorre nas áreas de planalto e de serras. As temperaturas são mais baixas do que as do clima tropical e no inverno pode até ter geadas. Típico das áreas mais elevadas dos estados do Sudeste (Espírito Santo, Minas Gerais, Rio de Janeiro e São Paulo).

• **Tropical Litorâneo:** Como o próprio nome indica, é a faixa climática que se estende ao longo do litoral brasileiro (praias), entre os estados do Rio Grande do Norte e São Paulo. É um clima quente e úmido, semelhante ao da Amazônia, porém o calor é maior.

• **Subtropical:** Clima com as temperaturas mais baixas do país, com ocorrência de neve ou geada durante o inverno. Inclui os estados da região Sul e parte de São Paulo e Mato Grosso do Sul.

Texto adaptado pela professora

Atividades

Copie e responda no seu caderno de geografia, as questões abaixo.

1. Quais os principais tipos de clima do Brasil?
2. Qual tipo de clima tem como características as geadas durante o inverno? Em que região ele é predominante?
3. Qual é o clima predominante na região Amazônica?
4. Na região nordeste predomina qual tipo de clima?
5. Qual tipo de clima é característico no litoral brasileiro (praias).