



ANEXO II

QUADRO DE ROTINAS DIÁRIAS

(ENSINO FUNDAMENTAL I E II, EDUCAÇÃO INTEGRAL, EJA I E II, CIER)

ESCOLA: EMEF "VIVA MAIS"


PROFESSOR (A): CÁSSIA

ANO/TURMA: 2º ANO A

REGISTRO QUINZENAL DA ROTINA DE ESTUDOS DOS ALUNOS.

OLÁ, TURMINHA! VAMOS A NOSSA SEMANA DE ATIVIDADES!

SEMANA DE 25/10 a 29/10

DIA DA SEMANA	ROTINA DIÁRIA: DESCRIÇÃO DAS ATIVIDADES
SEGUNDA FEIRA DATA:25/10	<p>LEITURA: INDIO CURUMIM -THIAGO HAKYI https://youtu.be/SuKc8StK1QU</p> <p>AMPLIANDO CONHECIMENTO LIVRO DE <u>LÍNGUA PORTUGUESA</u>: REALIZE AS ATIVIDADES DAS PÁGINAS 102- 103 -104-105.</p> <p>HOJE É DIA DE REALIZAR AS ATIVIDADES DE INGLÊS</p>
TERÇA-FEIRA DATA:26/10	<p>LEITURA: FLAVIA E O BOLO DE CHOCOLATE - MIRIAN LEITÃO https://youtu.be/G8aPvt4mGSc</p> <p>AMPLIANDO CONHECIMENTO: <u>GEOGRAFIA</u>. REALIZE AS ATIVIDADES DAS PÁGINAS 68-69-70-71-72-73.</p> <p> TURMINHA, VAMOS MOVIMENTAR O CORPINHO? HOJE É DIA DE REALIZAR AS ATIVIDADES DE EDUCAÇÃO FÍSICA</p>
QUARTA-FEIRA- DATA:27/10	<p>LEITURA: A FABULOSA MÁQUINA DE AMIGOS - NICK BLAND https://youtu.be/H8iozsi_KF0</p> <p>AMPLIANDO CONHECIMENTO: <u>CIÊNCIAS</u> –REALIZE AS ATIVIDADES DAS PÁGINAS 80-81-82-83.</p>
QUINTA-FEIRA DATA:28/10	<p>LEITURA:</p> <p style="text-align: center;">FERIADO DIA DO SERVIDOR PÚBLICO</p>
SEXTA-FEIRA DATA:29/10	<p>LEITURA:</p> <p style="text-align: center;">PONTE</p>







HORTOLÂNDIA, 26 DE OUTUBRO DE 2021.

NOME COMPLETO: _____

PROFESSOR(A) _____ 2° ANO _____

ESCREVA NA CRUZADINHA O NOME DE CADA MEIO DE TRANSPORTE.



SITUAÇÃO-PROBLEMA



MARIANA TINHA 15 BISCOITOS, DEU 5 PARA SEU IRMÃO. COM QUANTOS BISCOITOS FICOU?



CARLA TEM UMA COLEÇÃO COM 20 PEDRINHAS COLORIDAS, GANHOU MAIS 15 DE SEU AMIGO. QUAL O TOTAL DE PEDRINHAS?



HORTOLÂNDIA, 27 DE OUTUBRO DE 2021.

NOME COMPLETO: _____

PROFESSOR(A) _____ 2º ANO _____

OS AMBIENTES DAS PLANTAS

AS PLANTAS VIVEM EM DIFERENTES AMBIENTES.



AS PLANTAS QUE VIVEM NA TERRA SÃO CHAMADAS DE TERRESTRES. AS PLANTAS QUE VIVEM NA ÁGUA SÃO CHAMADAS DE AQUÁTICAS.

AS PLANTAS TERRESTRES, QUE SE DESENVOLVEM ACIMA DO SOLO E CUJA AS RAÍZES SE PRENDEM NO CAULE DE OUTRAS PLANTAS, SÃO CHAMADAS DE AÉREAS. FAÇA O DESENHO OU RECORTE UMA IMAGEM DE UMA PLANTA E ESCREVA O NOME DO AMBIENTE EM QUE ELA VIVE.

