



ANEXO II

QUADRO DE ROTINAS DIÁRIAS

(Ensino Fundamental I e II, Educação Integral, EJA I e II, CIER)

Escola: EMEF VIVA MAIS

Professor(a): Paula Cristiane Coelho Louzada Ferraz


Ano/turma: 1º Ano A


Registro quinzenal da rotina de estudos dos alunos


SEMANA: 01/03 A 05/03

DIA DA SEMANA	ROTINA DIÁRIA: DESCRIÇÃO DAS ATIVIDADES																																																												
Segunda-feira Data: 01/03	<p>LEITURA: DESCULPE-ME! https://www.youtube.com/watch?v=NcyLQyFqcSo&t=29s</p> <p style="text-align: center;">SEQUÊNCIA NUMÉRICA </p> <div style="display: flex; align-items: center;"><table border="1" data-bbox="976 1084 1374 1402" style="margin-left: 20px;"><tbody><tr><td>1</td><td>2</td><td>3</td><td>4</td><td>5</td><td>6</td></tr><tr><td>7</td><td>8</td><td>9</td><td>10</td><td>11</td><td>12</td></tr><tr><td>13</td><td>14</td><td>15</td><td>16</td><td>17</td><td>18</td></tr><tr><td>19</td><td>20</td><td>21</td><td>22</td><td>23</td><td>24</td></tr><tr><td>25</td><td>26</td><td>27</td><td>28</td><td>29</td><td>30</td></tr></tbody></table></div> <p>1 - OBSERVE O QUADRO DE NUMERAIS ACIMA E COMPLETE O QUADRO DE NUMERAIS ABAIXO.</p> <table border="1" data-bbox="523 1563 1385 2128" style="margin-left: 20px;"><tbody><tr><td>1</td><td></td><td></td><td></td><td></td><td></td></tr><tr><td>7</td><td></td><td></td><td></td><td></td><td></td></tr><tr><td>13</td><td></td><td></td><td></td><td></td><td></td></tr><tr><td>19</td><td></td><td></td><td></td><td></td><td></td></tr><tr><td>25</td><td></td><td></td><td></td><td></td><td></td></tr></tbody></table>	1	2	3	4	5	6	7	8	9	10	11	12	13	14	15	16	17	18	19	20	21	22	23	24	25	26	27	28	29	30	1						7						13						19						25					
1	2	3	4	5	6																																																								
7	8	9	10	11	12																																																								
13	14	15	16	17	18																																																								
19	20	21	22	23	24																																																								
25	26	27	28	29	30																																																								
1																																																													
7																																																													
13																																																													
19																																																													
25																																																													

COMPLETE AS SEQUÊNCIAS DE FIGURAS GEOMÉTRICAS DESENHANDO:

A)  _____

B)  _____

C)  _____

Terça-feira

Data:02/03

LEITURA: O NOME DA GENTE

<https://www.youtube.com/watch?v=nl8UStfDNPE>



FIGURAS E SOMS

1) PINTA A FIGURA CUJO NOME COMEÇA COM O MESMO SOM QUE O NOME DO DESENHO EM DESTAQUE.

 MACACO	  
 TATU	  
 PAPAGAIO	  
 GIRAFA	  
 BOLO	  
 SAPATO	  
 LATA	  

LIGUE AS FIGURAS AO SOM INICIAL CORRESPONDENTE:



V



P



M



P



F



M

L

Quarta-feira






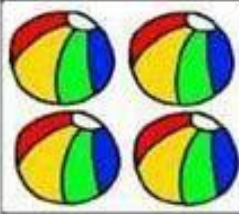
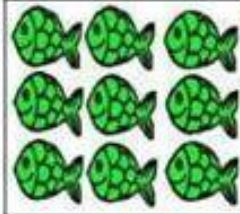





Data:03/03

LEITURA: EU ME AMO!

<https://www.youtube.com/watch?v=WiidLvz1aV0>

RECORTE E COLE EM SEU CADERNO O NÚMERO EM FRENTE A QUANTIDADE DE OBJETOS:

1	2	7	8
3	4	9	10
5	6	11	12


Quinta-feira

Data:04/03

LEITURA: A FESTA

<https://www.youtube.com/watch?v=wxFfaPf9Ph8>

COMPLETE O QUADRO:

FIGURA	LETRA INICIAL	LETRA FINAL	NÚMERO DE LETRAS	REESCRITA DA PALAVRA
 PATO				
 SAPATO				
 ARTISTA				
 SÓ				
 AVÓ				


Sexta-feira

Data:05/03





LEITURA: QUEM SOU EU? <https://www.youtube.com/watch?v=-2V5WJd4FA>

Jogo da Rima





Recorte esses cartões para usar nas cartelas e colocar no local correspondente



JOGO DAS RIMAS

			
?	?	?	?

JOGO DAS RIMAS

			
?	?	?	?