



ANEXO II

QUADRO DE ROTINAS DIÁRIAS

(Ensino Fundamental I e II, Educação Integral, EJA I e II, CIER)

Escola: EMEF "VIVA MAIS"


Professor (a): Paula

Ano/turma: 2º ano A

Registro quinzenal da rotina de estudos dos alunos.

OLÁ TURMINHA! VAMOS A NOSSA SEMANA DE ATIVIDADES!

SEMANA DE 05 A 09/04

DIA DA SEMANA	ROTINA DIÁRIA: DESCRIÇÃO DAS ATIVIDADES
SEGUNDA FEIRA DATA: 05/04	<p>LEITURA : OS TRÊS PORQUINHOS</p> <p>https://www.youtube.com/watch?v=N84TDkRoG0o</p> <p>VAMOS LER O VERSINHO?</p> <p>ERA UMA VEZ... ERA UMA VEZ... TRÊS GORDOS PORQUINHOS QUE O LOBO QUERIA COMER DE UMA VEZ.</p>  <p>O SOPRO DO LOBO FOI TÃO FORTE QUE TIROU AS FRASES DO VERSINHO DO LUGAR. VAMOS COLOCÁ-LAS NO LUGAR?</p> <p>RECORTE CADA FRASE, DEPOIS COLE-AS NO SEU CADERNO NA ORDEM CORRETA.</p> <p>TRÊS GORDOS PORQUINHOS</p> <p>COMER DE UMA VEZ.</p> <p>ERA UMA VEZ...</p> <p>QUE O LOBO QUERIA</p> <p>ERA UMA VEZ...</p>

CAÇA-PALAVRAS

LOBO - PORQUINHO - CHAMINÉ - TELHADO -
CASA - CALDEIRÃO - PALHA - PAU - PEDRA - PÉ

Z	C	F	V	B	T	E	L	H	A	D	O	G	
K	Y	T	G	H	C	A	S	A	D	R	U	F	
C	H	A	M	I	N	É	A	F	H	J	K	R	
B	X	Z	Q	R	T	Y	P	E	D	R	A	Z	
M	P	O	R	Q	U	I	N	H	O	N	B	X	
X	W	E	Y	H	M	P	A	U	X	O	D	S	
E	M	U	Ç	M	O	L	O	B	O	V	T	H	
C	A	L	D	E	I	R	Ã	O	U	V	E	N	
O	P	I	R	A	C	A	S	A	I	L	D	Z	
X	B	O	H	I	P	É	J	M	E	R	F	A	I

ENTREVISTA



RESPONDA:

1 QUAL É O NOME DA RUA ONDE VOCÊ MORA?

2 QUAL É O NÚMERO DA SUA CASA?

3 QUAL É O NOME DO SEU BAIRRO?

4 EM QUE LUGAR DA SUA CASA VOCÊ MAIS GOSTA DE FICAR?

5 QUAL É O LUGAR DA SUA CASA ONDE VOCÊ MENOS GOSTA DE FICAR?

6 NA HISTÓRIA OS TRÊS PORQUINHOS, FORAM ELES QUE CONSTRuíRAM SUAS CASAS. E A SUA CASA, VOCÊ SABE QUEM A CONSTRUIU?

7 QUE NOME DAMOS ÀS PESSOAS QUE CONSTROEM AS CASAS?

8 OBSERVE A SUA CASA E FAÇA UM DESENHO DE COMO ELA É. NÃO SE ESQUEÇA DE NENHUM DETALHE.

**TERÇA-
FEIRA**

DATA:06/04

LEITURA DIÁRIA: PINÓQUIO

<https://www.youtube.com/watch?v=rHbq5dZlcVY&t=49s>

1-PINÓQUIO GANHOU DE SEU AMIGO GRILO, MAIS FIGURINHAS PARA A SUA COLEÇÃO. SE ELE GANHOU MAIS 6 FIGURINHAS, COM QUANTAS FIGURINHAS PINÓQUIO FICOU?

- (A) 14
- (B) 15
- (C) 16



2-OLHANDO O RÁDIO DO GEPETO, VEMOS A FORMA DE UM:

- (A) TRIÂNGULO
- (B) CIRCULO
- (C) RETÂNGULO



3-VEJA O PINÓQUIO E O GRILO FALANTE:



QUANTAS PIPAS FALTAM PARA PINÓQUIO FICAR COM A MESMA QUANTIDADE DE BOLAS QUE O GRILO TEM?

- (A) 2
- (B) 3
- (C) 4

4-QUANTOS QUADRADOS VEMOS NO DESENHO ABAIXO?

- (A) 3
- (B) 4
- (C) 6




5-GEPETO FEZ 14 CAIXINHAS DE MADEIRA, SE 4 SE QUEBRARAM, QUANTAS RESTARAM?



- (A) 9
- (B) 10
- (C) 11

6-SE VOCÊ CIRCULAR GRUPOS DE 5, QUANTOS GRUPOS SE FORMARÃO?



- (A) 2 GRUPOS
- (B) 3 GRUPOS
- (C) 4 GRUPOS

7-COMPLETE A SEQUÊNCIA:

45	46				50	51
----	----	--	--	--	----	----

MARQUE A ALTERNATIVA QUE COMPLETA A SEQUÊNCIA:

- (A) 48-49-50
- (B) 37-38-39
- (C) 47-48-49

8-MARQUE A ESCRITA DO NÚMERO ABAIXO:

- (A) TRINTA E OITO
- (B) QUARENTA
- (C) TRINTA E NOVE

39

9-MARQUE O RESULTADO DA SUBTRAÇÃO ABAIXO:

$10 - 8 = \underline{\quad}$

- (A) 1
- (B) 2
- (C) 3

10-VEJA A TABELA E RESPONDA:

CARRINHOS	16
PIÕES	15
BOLAS	14

QUAL É O BRINQUEDO QUE PINÓQUIO TEM EM MENOR QUANTIDADE?

- (A) CARRINHOS
- (B) PIÕES
- (C) BOLAS

PINÓQUIO

• PINTA O QUADRO CORRETO:

1. GEPETO CONSTRUIU UM BONECO DE

METAL	TECIDO	MADEIRA
-------	--------	---------

2. A FADA QUE AJUDOU PINÓQUIO TEM O NOME DE UMA COR. QUAL?

AMARELO	AZUL	ROSA
---------	------	------

3. A FADA AZUL TRANSFORMA PINÓQUIO EM UM

BONECO	MENINO	PÁSSARO
--------	--------	---------

4. O NARIZ DE PINÓQUIO CRESCE QUANDO ELE CONTA

PIADAS	DINHEIRO	MENTIRAS
--------	----------	----------

5. PINÓQUIO É ENGOLIDO POR UMA

AVESTRUZ	BALEIA	FOCA
----------	--------	------



QUARTA-
FEIRA

DATA:07/04

LEITURA DIÁRIA: CINDERELA <https://www.youtube.com/watch?v=kUvFWoX8chU>

1. FAÇA UM X ONDE REPRESENTA A QUANTIDADE DE SAPATOS QUE TEM CINDERELA.



15

20

25

2. A CINDERELA E O PRÍNCIPE VÃO SE CASAR NO DIA 13 DE MARÇO DE 2021. OBSERVE O CALENDÁRIO E RESPONDA:


MARÇO						
DOM	SEG	TER	QUA	QUI	SEX	SAB
	1	2	3	4	5	6
7	8	9	10	11	12	13
14	15	16	17	18	19	20
21	22	23	24	25	26	27
28	29	30	31			

A) QUAL O DIA DA SEMANA CAIRÁ O CASAMENTO? _____

B) QUANTOS DIAS TEM O MÊS DE MARÇO? _____

ARRUMANDO O ARMÁRIO

CINDERELA ERA OBRIGADA A TRABALHAR MUITO NA CASA DA MADRASTA. TUDO ESTAVA MUITO BAGUNÇADO. AJUDE A CINDERELA E ESCREVA CADA PALAVRA NO LUGAR CERTO PARA QUE ELA ORGANIZE TUDO NO LUGAR.



MATERIAIS ESCOLARES



ROUPAS


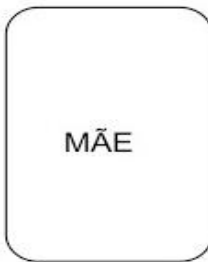

BRINQUEDOS

LEITURA DIÁRIA: JOÃO E O PÉ DE FEIJÃO

https://www.youtube.com/results?search_query=jo%C3%A3o+eo+p%C3%A9+de+feij%C3%A3o

VAMOS COLORIR AS CARTAS, RECORTAR E BRINCAR DE JOGO DA MEMÓRIA

JOGO DE CARTAS DO CONTO JOÃO E O PÉ DE FEIJÃO



INTERPRETAÇÃO DE TEXTO

ENUMERE A SEQUENCIA DA HISTÓRIADE JOÃO E O PÉ DE FEIJÃO EM ORDEM CRONOLÓICA.



QUINTA-
FEIRA

DATA:08/04

**SEXTA-
FEIRA**

DATA:09/04

LEITURA: JOÃO E MARIA

<https://www.youtube.com/watch?v=E32occZkh24&t=62s>

GRAVE UM VÍDEO RECONTANDO O CONTO JOÃO E MARIA QUE VOCÊ ACABOU DE OUVIR E ENVIE PARA SUA PROFESSORA.



Existem várias maneiras de ensinar adição e subtração para crianças de primeiro ano usando cartas ou dados. Com uma dose de competição que é para a criança aprender a controlar as emoções e saber perder.

A minha dica de hoje é uma brincadeira simples com cartas.

Você vai precisar de um baralho. Separe as cartas de 2 a 9 de cada naipe. São elas que entram no jogo. As demais podem ficar a parte.

Peça para que seu filho faça a separação das cartas para ela de familiarizar com o baralho. Converse sobre os naipes e as cartas, caso seja uma novidade para a criança.

Cartas separadas, é hora de embaralhar tudo e distribuir as cartas entre os participantes

. Podem jogar de 2 a 4 pessoas.

Jogo de Adição ou Subtração

Para jogar é assim. A cada rodada, os dois participantes viram as duas cartas de cima do seu monte.

Em seguida, cada um faz a soma das duas cartas. Percebam que, para uma criança no primeiro ano, ela vai ter jeitos diferentes de contar. Pode ser de cabeça, pode ser usando os dedos ou mesmo contando as figuras do naipe na carta

Quem tiver a maior soma leva todas as cartas da rodada.

No fim, ganha o jogo quem tiver mais cartas! Divirta se .