



## ANEXO II

### QUADRO DE ROTINAS DIÁRIAS

(ENSINO FUNDAMENTAL I E II, EDUCAÇÃO INTEGRAL, EJA I E II, CIER)

ESCOLA: EMEF "VIVA MAIS"



















PROFESSOR (A): CÁSSIA

ANO/TURMA: 2º ANO A

REGISTRO QUINZENAL DA ROTINA DE ESTUDOS DOS ALUNOS.

**OLÁ TURMINHA! ESPERO QUE TODOS ESTEJAM BEM! TIVEMOS UM PERÍODO DE DESCANSO E AGORA VAMOS RETOMAR NOSSAS ATIVIDADES !!!**

### SEMANA DE 12/04 A 16/04

DIA DA SEMANA	ROTINA DIÁRIA: DESCRIÇÃO DAS ATIVIDADES																															
SEGUNDA FEIRA DATA:12/03	<p>LEITURA: CAMILÃO O COMILÃO – ANA MARIA MACHADO <a href="https://youtu.be/TGJTJVOJGTE">HTTPS://YOUTU.BE/TGJTJVOJGTE</a></p> <p>AGORA QUE VOCÊ JÁ ASSISTIU A HISTÓRIA, RESPONDA AS PERGUNTAS ABAIXO:</p> <p>COMPLETE A TABELA ABAIXO:</p> <table border="1" data-bbox="300 1346 1501 2047"><thead><tr><th data-bbox="300 1346 598 1429">FIGURA</th><th data-bbox="598 1346 896 1429">NOME ANIMAL</th><th data-bbox="896 1346 1195 1429">LETRA INICIAL</th><th data-bbox="1195 1346 1501 1429">QUANTIDADE DE SÍLABAS</th></tr></thead><tbody><tr><td data-bbox="300 1429 598 1541"></td><td data-bbox="598 1429 896 1541"></td><td data-bbox="896 1429 1195 1541"></td><td data-bbox="1195 1429 1501 1541"></td></tr><tr><td data-bbox="300 1541 598 1653"></td><td data-bbox="598 1541 896 1653"></td><td data-bbox="896 1541 1195 1653"></td><td data-bbox="1195 1541 1501 1653"></td></tr><tr><td data-bbox="300 1653 598 1765"></td><td data-bbox="598 1653 896 1765"></td><td data-bbox="896 1653 1195 1765"></td><td data-bbox="1195 1653 1501 1765"></td></tr><tr><td data-bbox="300 1765 598 1877"></td><td data-bbox="598 1765 896 1877"></td><td data-bbox="896 1765 1195 1877"></td><td data-bbox="1195 1765 1501 1877"></td></tr><tr><td data-bbox="300 1877 598 1989"></td><td data-bbox="598 1877 896 1989"></td><td data-bbox="896 1877 1195 1989"></td><td data-bbox="1195 1877 1501 1989"></td></tr><tr><td data-bbox="300 1989 598 2047"></td><td data-bbox="598 1989 896 2047"></td><td data-bbox="896 1989 1195 2047"></td><td data-bbox="1195 1989 1501 2047"></td></tr></tbody></table>				FIGURA	NOME ANIMAL	LETRA INICIAL	QUANTIDADE DE SÍLABAS																								
FIGURA	NOME ANIMAL	LETRA INICIAL	QUANTIDADE DE SÍLABAS																													
																																
																																
																																
																																
																																
																																

PROCURE NO CAÇA-PALAVRAS O NOME DA FIGURAS


	M	I	L	H	O		
			M	E	L		
M	E	L	A	N	C	I	A
		A	L	F	A	C	E
C	E	N	O	U	R	A	
	L	A	R	A	N	J	A
B	A	N	A	N	A		



ESCREVA OS NOMES QUE VOCÊ ENCONTROU

- 1- \_\_\_\_\_
- 2- \_\_\_\_\_
- 3- \_\_\_\_\_
- 4- \_\_\_\_\_
- 5- \_\_\_\_\_
- 6- \_\_\_\_\_

REGISTRE A QUANTIDADE DE ALIMENTOS QUE CAMILÃO GANHOU.



QUAL É O ALIMENTO QUE TEM MAIS? \_\_\_\_\_

QUAL É O ALIMENTO QUE TEM MENOS? \_\_\_\_\_

TERÇA-  
FEIRA  
DATA:13/04

LEITURA: VOCÊ TROCA? - EVA FRUNARI  
[HTTPS://YOUTU.BE/JXO4IQZ4NTY](https://youtu.be/jx04iqz4nty)

OBSERVE AS ILUSTRAÇÕES E COMPLETE AS FRASES.  
VOCÊ TROCA?



UM \_\_\_\_\_CONTENTE

POR UM \_\_\_\_\_COM DENTE?



UM \_\_\_\_\_DE FEIJÃO

POR UM \_\_\_\_\_ DE CALÇÃO?




UM \_\_\_\_\_DE PIJAMA

POR UM \_\_\_\_\_ NA CAMA?

### AGORA, É A SUA VEZ DE TROCAR

NO CADERNO OU EM UMA FOLHA. ESCREVA O CABEÇALHO, **EMEF “VIVA MAIS”**. **HORTOLÂNDIA, 13 DE ABRIL DE 2021**. USE A IMAGINAÇÃO E PENSE EM UMA TROCA BEM LEGAL! ESCREVA E FAÇA UM LINDO DESENHO.

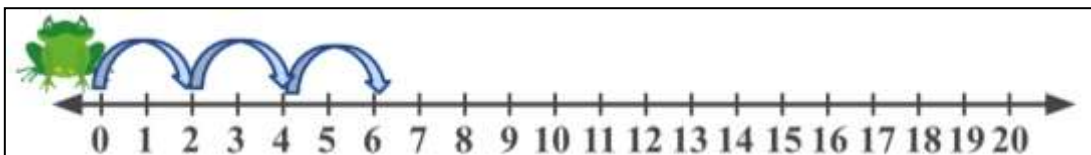
EX:



**OBS.: TIRE UMA FOTO COM A SUA ATIVIDADE E MANDE PARA O ADMINISTRADOR DO GRUPO DO WHATSAPP.**

### VAMOS RESOLVER AS SITUAÇÕES-PROBLEMA ABAIXO:

O SAPIÑO ADORA SALTAR, ELE JÁ SALTOU POR VÁRIOS NÚMEROS. OBSERVE A IMAGEM E DESCUBRA O SEGREDO DOS PULOS QUE ELE DEU E CONTINUE TRAÇANDO A SEQUÊNCIA.



REGISTRE OS RESULTADOS DOS PULOS DO SAPINHO DE ACORDO COM O CAMINHO QUE ELE FEZ.



DIEGO, EDUARDO E GABRIEL POSSUEM AS SEGUINTE COLEÇÕES DE CARRINHOS. CONTE E REGISTRE O TOTAL DE CADA UM.

DIEGO	EDUARDO	GABRIEL
<input type="text"/>	<input type="text"/>	<input type="text"/>

COMPLETE A TABELA COM A QUANTIDADE TOTAL DE CADA COR DE CARRINHOS.

<input type="text"/>	<input type="text"/>	<input type="text"/>

QUANTOS CARRINHOS TEMOS NO TOTAL? \_\_\_\_\_

QUANTOS CARRINHOS VERDES EU PECSO PARA FICAR COM A MESMA QUANTIDADE DE CARRINHOS AZUIS? \_\_\_\_\_

**QUARTA-FEIRA-  
DATA:14/04**

**LEITURA: CABELINHO VERMELHO E O LOBO BOBO – SILVANA DE MENEZES (LIVRO PDF ENVIADO NO GRUPO).**

**ATIVIDADE: LEITURA E PRODUÇÃO TEXTUAL**

OBSERVE ATENTAMENTE AS IMAGENS DE LIVRO E LEIA A HISTÓRIA PARA UM FAMILIAR. DEPOIS, EM UMA FOLHA OU EM SEU CADERNO, ESCREVA O CABEÇALHO, **EMEF “VIVA MAIS”. HORTOLÂNDIA, 14 DE ABRIL DE 2021.** FAÇA UM DESENHO E ESCREVA O QUE ACONTECEU NO FINAL DA HISTÓRIA. NÃO ESQUEÇA DE PINTAR BEM BONITO E COLORIDO.

CABELINHO VERMELHO ESTÁ ORGANIZANDO UMA FESTA SURPRESA DE ANIVERSÁRIO PARA O LOBO VAMOS AJUDA-LA? ELA PREPAROU 28 BRIGADEIROS E 20 BEIJINHOS.


 + 
 
  
 28 + 20 =

QUAL O TOTAL DE DOCINHOS CABELINHO PREPAROU? \_\_\_\_\_

AGORA, CABELINHO ESTÁ ORGANIZANDO A DECORAÇÃO PARA A SUA FESTA DE ANIVERSÁRIO, ELA PRECISA FAZER 6 ARRANJOS COM 5 BEXIGAS EM CADA UM. QUANTAS BEXIGAS ELA VAI PRECISAR?

NO ESPAÇO AO LADO FAÇA OS ARRANJOS E REGISTRE A QUANTIDADE DE BEXIGAS QUE CABELINHO VAI PRECISAR.



QUANTAS BEXIGAS? \_\_\_\_\_

**QUINTA-FEIRA**  
**DATA: 15/04**

**LEITURA: ATÉ AS PRINCESAS SOLTAM PUM – FAFÁ CONTA**

[HTTPS://YOUTU.BE/ELK7TBNZKC0](https://youtu.be/elk7tbnzkc0)

COMPLETE A TABELA ABAIXO COM OS NUMERAIS QUE ESTÃO FALTANDO.

1									
		13				18			
			24			27			30

**GÊNERO TEXTUAL: PARLENDA**

UM, DOIS, TRÊS, QUATRO,  
POR AQUI PASSOU UM \_\_\_\_\_.

UM, DOIS, TRÊS, QUATRO,  
PELA PORTA DO \_\_\_\_\_.



ESCREVA ESPONTANEAMENTE NAS LINHAS ABAIXO UMA PARLENDA QUE VOCÊ CONHECE.



**MEU CORPO E A SUA LOCALIZAÇÃO: DIREITA, ESQUERDA, À FRENTE E À TRÁS.**

VAMOS DANÇAR SEGUINDO OS MOVIMENTOS DA MÚSICA “A DANÇA DO CANGURU” – ALINE BARROS

[HTTPS://YOUTU.BE/J7I4EJAV5LK](https://youtu.be/J7I4EJAV5LK)

OBSERVE A IMAGEM ABAIXO E CIRCULE AS CRIANÇAS DE ACORDO COM OS COMANDOS:

- CIRCULE DE AZUL QUEM ESTÁ À ESQUERDA DE NINA.
- CIRCULE DE AMARELO QUEM ESTÁ À DIREITA DE LEO.
- CIRCULE VERDE QUEM ESTÁ ENTRE O LEO E A MANU.



**SEXTA-  
FEIRA  
DATA:16/04**

**LEITURA: SAPO NÃO QUER DORMIR – HISTÓRIAS INFANTIS**

[HTTPS://YOUTU.BE/6FGYRH53LRC](https://youtu.be/6FGYRH53LRC)

**OBJETOS E MATERIAIS:**

O QUE É ISSO?

DO QUE ISSO É FEITO?



**ESCREVA O NOME DOS OBJETOS NO LUGARES CORRESPONDENTE AO MATERIAL:**

VIDRO	MADEIRA	METAL	PLÁSTICO	BORRACHHA

**OBSERVE AS IMAGENS E RESPONDA AS PERGUNTAS:**



QUE OBJETOS SÃO ESSES?

1. O QUE HÁ EM COMUM ENTRES ELES?

2. QUAL É O TIPO DE MATERIAL USADO NA FABRICAÇÃO DE CADA UM DELES?

**LEIA E ESCREVA AS RESPOSTAS DAS ADIVINHAS.**

O QUE É, O QUE É?  
É BEM DOCINHO E  
É FABRICADO PELAS ABELHAS? \_\_\_\_\_



O QUE É, O QUE É?  
TEM COROA, MAS NÃO É REI



TEM ESCAMAS, MAS NÃO É PEIXE? \_\_\_\_\_

O QUE É, O QUE É?  
QUE CHEIRA CHULÉ? \_\_\_\_\_



O QUE É, O QUE É?  
TEM PERNAS  
MAS NÃO PODE ANDAR? \_\_\_\_\_

