



ANEXO II






















QUADRO DE ROTINAS DIÁRIAS

(ENSINO FUNDAMENTAL I E II, EDUCAÇÃO INTEGRAL, EJA I E II, CIER)

EMEF VIVA MAIS
ÁREA DE CONHECIMENTO: INTERDISCIPLINAR
PROFESSORA : PAULA 1º ANO A

OLÁ TURMINHA! ESPERO QUE TODOS ESTEJAM BEM! TIVEMOS UM PERÍODO DE DESCANSO E AGORA VAMOS RETOMAR NOSSAS ATIVIDADES !!!

SEMANA DE 12/04 A 16/04

Dia da semana	Rotina diária: descrição das atividades												
Segunda - feira Data:12/04	<p>LEITURA DIÁRIA: o Coelho sem orelhas https://www.youtube.com/watch?v=14c3ISU3s_k</p> <p>CONTE QUANTAS SÍLABAS TEM ESTAS PALAVRAS E PINTE AS BOLINHAS.</p> <table border="1"><tr><td> ○○○○○</td><td> ○○○○○</td><td> ○○○○○</td></tr><tr><td> ○○○○○</td><td> ○○○○○</td><td> ○○○○○</td></tr><tr><td> ○○○○○</td><td> ○○○○○</td><td> ○○○○○</td></tr><tr><td> ○○○○○</td><td> ○○○○○</td><td> ○○○○○</td></tr></table>	 ○○○○○	 ○○○○○	 ○○○○○	 ○○○○○	 ○○○○○	 ○○○○○	 ○○○○○	 ○○○○○	 ○○○○○	 ○○○○○	 ○○○○○	 ○○○○○
 ○○○○○	 ○○○○○	 ○○○○○											
 ○○○○○	 ○○○○○	 ○○○○○											
 ○○○○○	 ○○○○○	 ○○○○○											
 ○○○○○	 ○○○○○	 ○○○○○											

MATEMÁTICA

1 - OBSERVE A CASINHA E RESOLVA O QUE SE PEDE.



A) QUANTAS JANELAS TEM A CASINHA?

B) QUANTAS JANELAS TERIAM DUAS CASINHAS JUNTAS?

() 9 () 11

() 8 () 10

C) QUANTAS JANELAS ESTÃO DO LADO DIREITO DA PORTA?

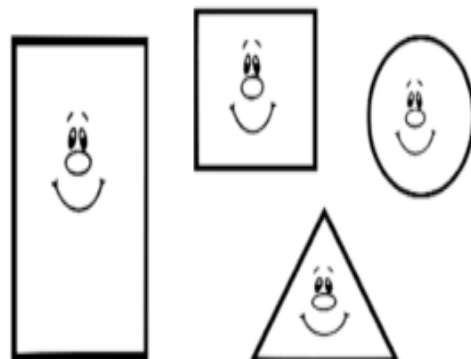
D) DESENHE MAIS DUAS JANELAS. QUANTAS SÃO AGORA?

E) AGORA, QUAL LADO TEM MAIS JANELAS?

() DIREITO

() ESQUERDO

F) QUAL FORMA SE PARECE COM O TELHADO DA CASINHA? CIRCULE.



LEITURA DIÁRIA: A ovelhinha que veio para o jantar

<https://www.youtube.com/watch?v=zOn1b8SplI4>

Terça-
feira

Data:13/04


COMPLETE AS PALAVRAS COM AS VOGAIS.



C _ S _




G _ T _



B _ N _ N _



R _ T _




V _ C _




C _ CH _ RR _



F _ Z _ ND _ R _



P _ DR _



G _ L _



M _ Ç _



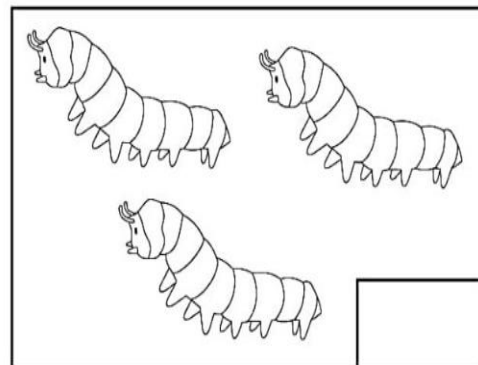
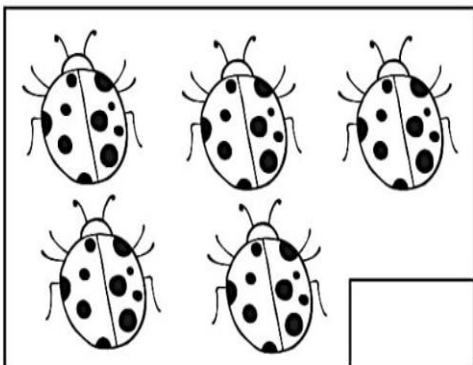
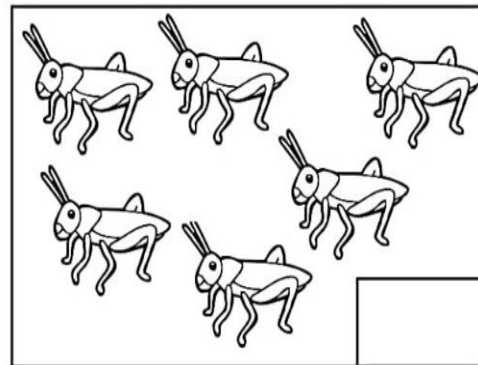
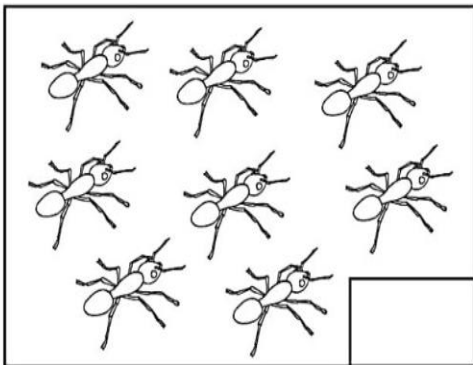
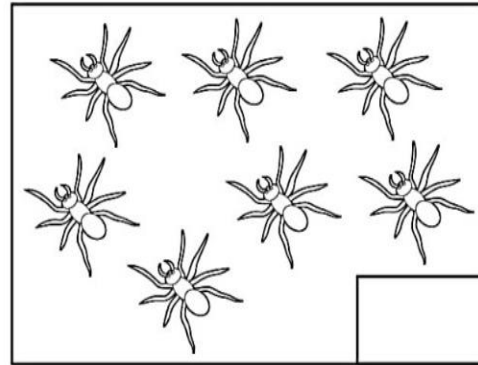

P _ DR _



M _ Ç _

VAMOS CONTAR?

CONTE A QUANTIDADE DE INSETOS E ESCREVA O NÚMERO CORRESPONDENTE:



AGORA PINTE DE AMARELO O QUADRADINHO QUE TEM MAIS INSETOS E DE AZUL O QUE TEM MENOS INSETOS:

LEITURA DIÁRIA: Papá, porque as zebras não andam de patins?

<https://www.youtube.com/watch?v=RyZzifFeatc>

COMPLETE AS PALAVRAS COM AS LETRAS INICIAIS



__ ASA




__ ATO



__ ANANA



__ ATO



__ ACA




__ ACHORRO




__ AZENDEIRO



__ EDRO



__ ALO



__ OÇA



__ ADRE




__ OÇO


Quarta-
feira

Data:14/04


VAMOS COLAR AS QUANTIDADES DE ESTRELAS DE ACORDO
COM OS NÚMEROS?



6




4




1



9



5



2




LEITURA DIÁRIA: Pê de Pai


<https://www.youtube.com/watch?v=T8rfpmvMRMo>


Quinta-
feira


Data:15/04

1. PINTE AS SÍLABAS QUE FORMAM O NOME DO DESENHO E ESCREVA A PALAVRA.

	GATO GA - TO					
	CA	GA	TE	TI	PO	GE TO

	GALO GA - LO					
	HA	TA	GA	GO	PO	LO NE

	VACA VA - CA					
	FA	GA	VA	TI	KA	GE CA

	CÃO					
	CA	GA	CHOR	TI	RO	GE

VAMOS ASSISTIR AO VÍDEO?



<https://www.youtube.com/watch?v=r1kmOlsCHP0>

APÓS ASSISTIR O VÍDEO RESPONDA ORALMENTE:

EU VI UM JACARÉ

DEITADO NA REDE.

O BOCÃO NÃO ME MORDEU


PORQUE ERA UM QUADRO NA PAREDE.

Faça perguntas que exijam reflexão sobre as sílabas:

- Que palavra formo se eu tirar 'PA' de PAREDE? _____
- Que palavra formo se eu tirar o 'RA' de 'BARATA'? _____
- Que palavra formo se eu tirar 'RE' JACARÉ? _____

Compare as palavras BARATA e BATATA. Reescreva a sílaba diferente. _____

Forme novas palavras excluindo a sílaba inicial.



=

GA

=



GALINHA

Forme novas palavras excluindo a sílaba mediana.



=

MI

=



CAMISA

Forme novas palavras excluindo a sílaba final.



=

CA

=



BONECA

1. AS IMAGENS MOSTRAM O TEMPO DA NATUREZA:

ESTAÇÕES DO ANO



A) RELACIONE AS IMAGENS COM SEUS SIGNIFICADOS:


QUENTE

FLORES E FOLHAS

FRIO

QUEDA DAS FOLHAS

B) EM QUAL ESTAÇÃO DO ANO NÓS ESTAMOS:



C) QUAL DESSAS ESTAÇÕES QUE VOCÊ GOSTA?

SOME AS QUANTIDADES E COLE O RESULTADO:

	+		=
	+		=
	+		=
	+		=
	+		=

