



ANEXO II

QUADRO DE ROTINAS DIÁRIAS

(ENSINO FUNDAMENTAL I E II, EDUCAÇÃO INTEGRAL, EJA I E II, CIER)

ESCOLA: EMEF "VIVA MAIS"

PROFESSOR (A): CÁSSIA

ANO/TURMA: 2º ANO A

REGISTRO QUINZENAL DA ROTINA DE ESTUDOS DOS ALUNOS.

OLÁ, TURMINHA! VAMOS A NOSSA SEMANA DE ATIVIDADES!

SEMANA DE 05/07 A 09/07

DIA DA SEMANA	ROTINA DIÁRIA: DESCRIÇÃO DAS ATIVIDADES
SEGUNDA FEIRA DATA:05/07	<p>LEITURA: POEMA "MINHA CAMA" DE SERGIO CAPPARELLI – CONTAÇÃO DALILA CONSTANTINO https://youtu.be/uXx7_GxWels</p> <p>LEIA O POEMA "MINHA CAMA" DE SERGIO CAPPARELLI E RESPONDA AS QUESTÕES:</p> <p style="text-align: center;">MINHA CAMA SÉRGIO CAPPARELLI</p> <p>UM HIPOPÓTAMO NA BANHEIRA MOLHA SEMPRE A CASA INTEIRA. A ÁGUA CAI E SE ESPALHA MOLHA O CHÃO E A TOALHA. E O HIPOPÓTAMO: NEM LIGO ESTOU LAVANDO O UMBIGO. E LAVA E NUNCA SOSSEGA, ESFREGA, ESFREGA E ESFREGA AS ORELHAS, O PEITO, O NARIZ, AS COSTAS DAS MÃOS, E DIZ: AGORA VOU DORMIR NA LAMA</p> <p>QUAL O TÍTULO DO POEMA? _____</p> <p>ESCREVA AS PARTES DO CORPO QUE O HIPOPÓTAMO LAVOU: _____ _____</p> <p>AMPLIANDO CONHECIMENTO: <u>LÍNGUA PORTUGUESA</u> - REALIZE AS ATIVIDADES DAS PÁGINAS 32- 33.</p>



CONTE AS MOEDAS QUE BERNARDO JUNTOU EM UMA SEMANA



ELE TROCOU ESSAS MOEDAS POR UMA ÚNICA NOTA, QUAL FOI ESSA NOTA?



AGORA RESPONDA, QUANTAS MOEDAS DE 1 REAL BERNARDO PRECISA PARA TROCAR POR UMA NOTA DE 20 REAIS? _____

AMPLIANDO CONHECIMENTO: MATEMÁTICA - REALIZE AS ATIVIDADES DAS PÁGINAS 28 - 29.



HOJE É DIA DE REALIZAR AS ATIVIDADES DE INGLÊS

**TERÇA-
FEIRA
DATA:06/07**

LEITURA: LOLO BARNABÉ -EVA FURNARI - VARAL DE HISTÓRIAS
<https://youtu.be/A7M1z0snvgw>

MELISSA ESCREVEU ALGUNS NÚMEROS NA LOUSA. ESCREVA ESSES NÚMEROS SEGUINDO A ORDEM CRESCENTE.

15 - 20 - 50 - 40 - 5
30 - 10 - 25 - 35 - 45


CIRCULE A IMAGEM QUE RIMA. DEPOIS, ESCREVA O NOME CORRESPONDENTE A FIGURA QUE VOCÊ ASSINALOU.




PASTEL



SOLDADO



CORAÇÃO





NO CADERNO ESCREVA O CABEÇALHO **EMEF “VIVA MAIS”**. **HORTOLÂNDIA, 06 DE JULHO DE 2021**. ESCOLHA 5 IMAGENS QUE ESTÃO NOS RETÂNGULOS ACIMA E CRIE UMA HISTÓRIA BEM LEGAL!

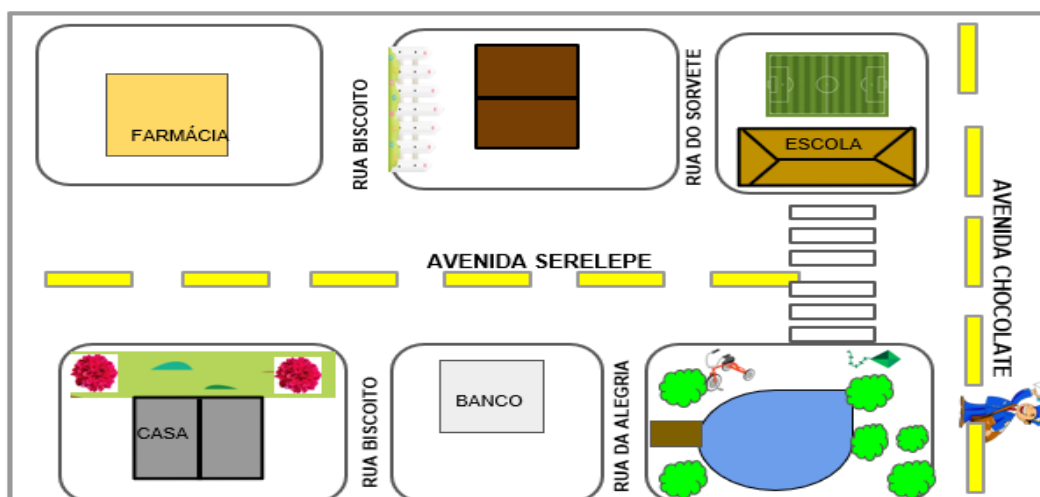
OBS.: GRAVE UM ÁUDIO E ENVIE PARA A PROFESSORA CONTANDO A SUA HISTÓRIA.

VAMOS AJUDAR O CARTEIRO A ENTREGAR SUAS CARTAS. LEIA COM ATENÇÃO AS DICAS E FAÇA OS TRAJETOS DE ACORDO COM AS CORES INDICADAS:

 VIRE NA RUA SERELEPE, SIGA EM FRENTE ATÉ A RUA BISCOITO E ENTREGUE A CARTA NA CASA DE CERCA BRANCA.

 DA RUA BISCOITO VOCÊ PRECISA IR ATÉ A ESCOLA ENTREGAR A CARTA PARA A DIRETORA.

 DA RUA DO SORVETE CAMINHE ATÉ A RUA DA ALEGRIA PARA DESCANSAR NO PARQUE.



AMPLIANDO CONHECIMENTO: GEOGRAFIA. REALIZE AS ATIVIDADES DAS PÁGINAS 22- 23.



TURMINHA, VAMOS MOVIMENTAR O CORPINHO?
HOJE É DIA DE REALIZAR AS ATIVIDADES DE EDUCAÇÃO FÍSICA

**QUARTA-
FEIRA-
DATA:07/07**


LEITURA: DOIS PASSARINHOS - HISTÓRIA PRA CONTAR USANDO AS MÃOS | -
FAFÁ CONTA


<https://youtu.be/d36AOM9FqG4>

PRODUÇÃO DE TEXTO:

ESCREVA UMA FRASE PARA CADA CENA E FORME UMA HISTÓRIA. DÊ UM TÍTULO À HISTÓRIA E UM NOME À GALINHA.







AMPLIANDO CONHECIMENTO: LÍNGUA PORTUGUESA – Unidade 2 –
OBSERVE AS IMAGENS DAS PÁGINAS 34 E 35. REALIZE AS ATIVIDADES DAS
PÁGINAS 36- 37.

SITUAÇÃO-PROBLEMA

ANA PREPAROU, 30 BRIGADEIROS, 50 BOLINHAS DE QUEIJO, 45 COXINHAS, 35 SANDUÍCHES PARA O PIQUENIQUE DA TURMA DO 2º ANO. ORGANIZE ESSAS QUANTIDADES NA TABELA. EM SEGUIDA, RESPONDA AS PERGUNTAS.

COMIDA	QUANTIDADE
SANDUÍCHE	
BOLINHA DE QUEIJO	
COXINHA	
BRIGADEIRO	

NO PIQUENIQUE ESTARÃO PRESENTES 15 CRIANÇAS, QUANTOS BRIGADEIROS CADA UMA PODERÁ COMER? _____

EXPERIÊNCIA: FLUTUA OU AFUNDA?

ASSISTA AO VÍDEO: EXPERIÊNCIA FLUTUA OU AFUNDA - COMO FAZER DO MUNDO DE KABOO

<https://youtu.be/mWMZ5Ev3-0>

MATERIAIS:

1 – BACIA COM A ÁGUA

2 – MATERIAIS DIVERSOS DISPONÍVEIS EM CASA DE BORRACHA, ALUMÍNIO, MADEIRA...

PARA FAZER ESSA ATIVIDADE VOCÊ VAI PRECISAR DE UMA BACIA E VÁRIOS OBJETOS E BRINQUEDOS DE DIFERENTES MATERIAIS, TAMANHOS E PESOS. JUNTO COM UM ADULTO FAÇA A EXPERIÊNCIA. UM DE UMA VEZ VAI FALAR SE O OBJETO AFUNDA OU FLUTUA, ANOTE EM UMA FOLHA TODA VEZ QUE VOCÊ ACERTAR.



AMPLIANDO CONHECIMENTO: CIÊNCIAS – O QUE É SAÚDE.

REALIZE AS ATIVIDADES DAS PÁGINAS 20 - 21 – 22 E 23.

QUINTA-
FEIRA
DATA:08/07

LEITURA: AS FAMÍLIAS DO MUNDINHO - VARAL DE HISTÓRIAS

<https://youtu.be/PAq8OTplqX8>

LEIA A TIRINHA ABAIXO E RESPONDA AS PERGUNTAS:



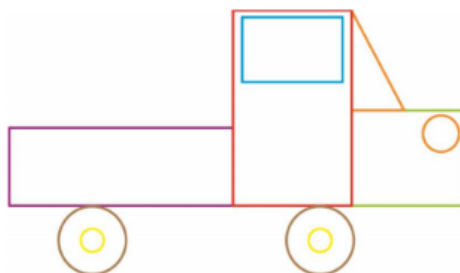
VOCÊ CONHECE OS PERSONAGENS? _____

EXPLIQUE COM SUAS PALAVRAS O QUE VOCÊ ENTENDEU DA TIRINHA:

O QUE A MAGALI ESTÁ CARREGANDO? _____

QUAL FOI A PERGUNTA QUE A MÔNICA FEZ PARA A MAGALI? _____

PAULO DESENHOU UM CARRO USANDO AS FORMAS GEOMÉTRICAS PLANAS.



ESCREVA O NOME E A QUANTIDADE DE CADA FORMA GEOMÉTRICA QUE PAULO USOU NESTE DESENHO.

AMPLIANDO CONHECIMENTO: **LIVRO EMAI MATEMÁTICA – UNIDADE 1.**

NA PÁGINA 11 ATIVIDADE 1.1.

NA PÁGINA 12 ATIVIDADE 1.2.

ATIVIDADE COMPLEMENTAR LIVRO DE HISTÓRIA PÁGINA 21 ATIVIDADE 4

AMPLIANDO CONHECIMENTO: HISTÓRIA.

REALIZE AS ATIVIDADES DAS PÁGINAS 20 - 21.

ENTREVISTA. NO CADERNO ESCREVA O CABEÇALHO **EMEF “VIVA MAIS”**.
HORTOLÂNDIA, 08 DE JULHO DE 2021. ESCREVA AS PERGUNTAS DA ENTREVISTA QUE ESTÃO NO LIVRO E ANOTE AS RESPOSTAS.

**SEXTA-
FEIRA
DATA:09/07**

LEITURA:

FERIADO



HOJE É DIA DE REALIZAR AS ATIVIDADES DE ARTE.