



ANEXO II

QUADRO DE ROTINAS DIÁRIAS

(ENSINO FUNDAMENTAL I E II, EDUCAÇÃO INTEGRAL, EJA I E II, CIER)

ESCOLA: EMEF "VIVA MAIS"

PROFESSOR (A): CÁSSIA

ANO/TURMA: 2º ANO A

REGISTRO QUINZENAL DA ROTINA DE ESTUDOS DOS ALUNOS.

OLÁ, TURMINHA! VAMOS A NOSSA SEMANA DE ATIVIDADES!

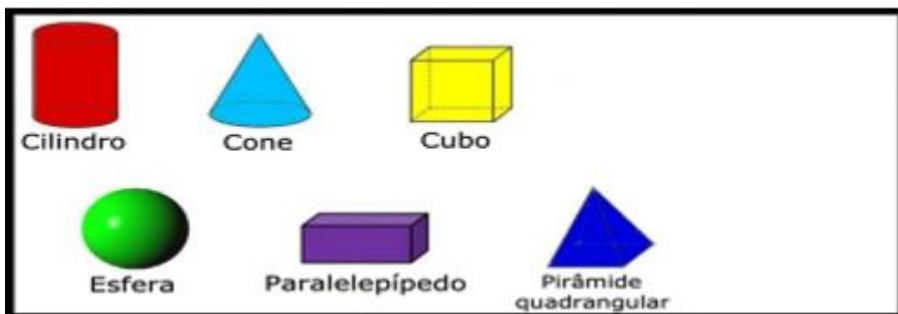
SEMANA DE 23/08 a 27/08

DIA DA SEMANA	ROTINA DIÁRIA: DESCRIÇÃO DAS ATIVIDADES										
SEGUNDA FEIRA DATA:23/08	<p>LEITURA: HUGO A MÁQUINA DE ABRAÇAR – SCOTT CAMPBELL https://youtu.be/GjbHMH1JJyw</p> <p>VAMOS TROCAR AS SÍLABAS DE LUGAR E DESCOBRIR NOVAS PALAVRAS? DEPOIS, ESCREVA AS PALAVRA, COMO NO EXEMPLO.</p> <table border="1"><tbody><tr><td>LOBO</td><td>BOLO</td></tr><tr><td>CEDO</td><td></td></tr><tr><td>CABO</td><td></td></tr><tr><td>DAVI</td><td></td></tr><tr><td>GOLA</td><td></td></tr></tbody></table> <p>ESCOLHA 3 PALAVRAS E FORME UMA FRASE.</p> <hr/> <hr/> <hr/> <hr/> <hr/> <hr/>	LOBO	BOLO	CEDO		CABO		DAVI		GOLA	
LOBO	BOLO										
CEDO											
CABO											
DAVI											
GOLA											


AMPLIANDO CONHECIMENTO: LÍNGUA PORTUGUESA - OBSERVAÇÃO DAS IMAGENS DO NOVO TEMA PÁGINAS 52-53. REALIZE AS ATIVIDADES DAS PÁGINAS 54-55.

ATIVIDADES DAS PÁGINAS 58-59-60-61 SERÃO REALIZADA NA AULA ON-LINE DE GRUPO 1 NA SEGUNDA-FEIRA E GRUPO 2 NA SEXTA-FEIRA

SÓLIDOS GEOMÉTRICOS



OBSERVE AS ILUSTRAÇÕES E ESCREVA COM QUAL SÓLIDO GEOMÉTRICO CADA OBJETO SE PARECE?

- A)  SE PARECE COM:..... B)  SE PARECE COM:.....
- C)  SE PARECE COM:..... D)  SE PARECE COM:.....
- E)  SE PARECE COM:..... F)  SE PARECE COM:.....

AMPLIANDO CONHECIMENTO: MATEMÁTICA - OBSERVAÇÃO DAS IMAGENS DO NOVO TEMA PÁGINAS 46-47. REALIZE AS ATIVIDADES DAS PÁGINAS 48-49-50-51-52.



HOJE É DIA DE REALIZAR AS ATIVIDADES DE INGLÊS

LEITURA: A FAMÍLIA DO MARCELO - RUTH ROCHA -
https://youtu.be/clav_AUUzto

TERÇA-
FEIRA
DATA:24/08

COMPLETE AS PALAVRAS COM AS SÍLABAS EM DESTAQUE.



CASA

_____BELO

_____MA

_____DEADO



CEBOLA

A_____ROLA

_____GO

_____DO



_____NEMA

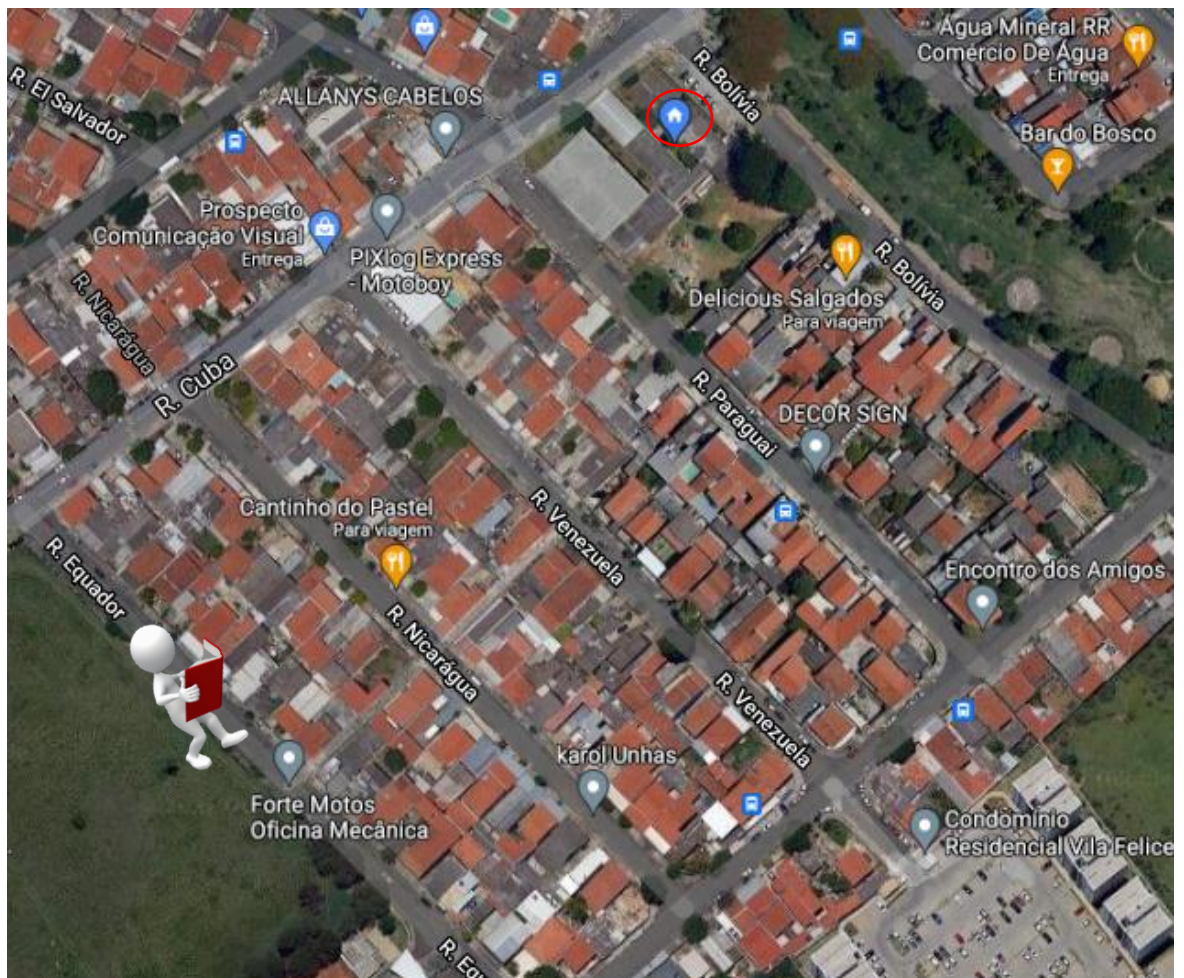
_____GARRA

PARE_ DO

AMPLIANDO CONHECIMENTO: LIVRO EMAI MATEMÁTICA - REALIZE AS ATIVIDADES DAS PÁGINAS 19-20-21.

O BAIRRO DA MINHA ESCOLA - LOCALIZANDO OS LUGARES

OBSERVE A IMAGEM DO BAIRRO DA ESCOLA. EM SEGUIDA, ENCONTRE A NOSSA ESCOLA NO MAPA.



AGORA, DESCREVA COM AS SUAS PALAVRAS O TRAJETO QUE O MENINO QUE ESTÁ NA RUA: EQUADOR PODE FAZER PARA CHEGAR NA ESCOLA VIVA MAIS.

VOCÊ PERCEBEU QUE AS RUAS NO ENTORNO DA NOSSA ESCOLA TÊM O NOME DE ALGUNS PAÍSES? _____

ESCREVA O NOME DESSAS RUAS:

AMPLIANDO CONHECIMENTO: GEOGRAFIA. REALIZE AS ATIVIDADES DAS PÁGINAS 38-39-40-41.



TURMINHA, VAMOS MOVIMENTAR O CORPINHO?
HOJE É DIA DE REALIZAR AS ATIVIDADES DE EDUCAÇÃO FÍSICA


**QUARTA-
FEIRA-
DATA:25/08**

LEITURA: BRUXA, BRUXA, VENHA À MINHA FESTA - BRINQUE-BOOK CONTA HISTÓRIAS


[HTTPS://YOUTU.BE/EH1H6AZQMIW](https://youtu.be/EH1H6AZQMIW)

DESENHE NO 1 CESTO **UMA DÚZIA** DE MAÇÃS E NO 2 CESTO **DUAS DÚZIAS** DE LARANJAS.

1



2



QUAL O TOTAL DE FRUTAS QUE VOCÊ DESENHOU? _____

AMPLIANDO CONHECIMENTO: MATEMÁTICA - REALIZE AS ATIVIDADES DAS PÁGINAS 58-59. **AS ATIVIDADES DAS PÁGINAS 55-56-57 SERÃO REALIZADAS NA AULA ON-LINE DE QUARTA-FEIRA.**

LEIA O TEXTO “O QUE É QUE AS PLANTAS TÊM” E RESPONDA AS PERGUNTAS:



ENTÃO...

O QUE É QUE AS PLANTAS TÊM?



UMA PLANTA NO SERTÃO
NAQUELE SOL DE RACHAR
O FRIO INTENSO PARECE SER IDEAL PARA UMA
ENQUANTO OUTRA GOSTA DA BEIRA DO MAR



UMA COM ESPINHOS
OUTRA COM GAVINHA
UMA SUPORTA FALTA D'ÁGUA
OUTRA MORRE SEM, COITADINHA...



AQUELA NAS GELEIRAS
PARECE MUITO FRIO AGUENTAR
MAS EU FICO É ME PERGUNTANDO
COMO É QUE ELAS CONSEGUEM SUPORTAR?

AUTORA: JAIANA RICHARDO

1- AS PLANTAS DESCRITAS ACIMA SÃO IGUAIS?

2- ESCREVA QUAIS SÃO AS DIFERENÇAS ENTRE AS PLANTAS?

AMPLIANDO CONHECIMENTO: Ciências – OBSERVE AS IMAGENS DAS PÁGINAS 42-43. REALIZE AS ATIVIDADES DAS PÁGINAS 44-45

QUINTA-
FEIRA
DATA:26/08

LEITURA: A PEQUENA TARTARUGA
VERDE - VARAL DE HISTÓRIAS

<https://youtu.be/C5z1SllVusI>



CONSTRUIR E QUE AJUDAM COM

REGRAS, PARA QUE TE QUERO?



OBSERVE AS ILUSTRAÇÕES ABAIXO COM ALGUNS COMBINADOS DA TURMA DO 2 ANO E RESPONDA AS QUESTÕES.



DE CONVIVÊNCIA SÃO UM CONJUNTO DE
M CONVIVER EM PAZ E EM HARMONIA

1- NA SUA OPINIÃO POR QUE OS COMBINADOS ACIMA SÃO IMPORTANTES?

2- ESCREVA OS 3 COMBINADOS QUE VOCÊ ACHA MAIS IMPORTANTE PARA UMA BOA CONVIVÊNCIA EM SALA DE AULA.

AMPLIANDO CONHECIMENTO: HISTÓRIA. OBSERVE AS IMAGENS DAS PÁGINAS 38-39. REALIZE AS ATIVIDADES DAS PÁGINAS 40-41-42-43.

NÚMEROS POR EXTENSO

0	ZERO	10	DEZ	20	VINTE
1	UM	11	ONZE	30	TRINTA
2	DOIS	12	DOZE	40	QUARENTA
3	TRÊS	13	TREZE	50	CINQUENTA
4	QUATRO	14	QUATORZE	60	SESSENTA
5	CINCO	15	QUINZE	70	SETENTA
6	SEIS	16	DEZESSEIS	80	OITENTA
7	SETE	17	DEZESSETE	90	NOVENTA
8	OITO	18	DEZOITO	100	CEM
9	NOVE	19	DEZENOVE	200	DUZENTOS

OBSERVE O EXEMPLO E ESCREVA POR EXTENSO O NOME DOS NÚMEROS.
EXEMPLO:

32= TRINTA E DOIS

A) 18 = _____

B) 35 = _____

C) 47 = _____

D) 30 = _____

E) 61 = _____

F) 46 = _____

G) 14 = _____


H) 59 = _____

l) 83=_____

**SEXTA-
FEIRA
DATA:27/08**

LEITURA: Pedro Vira Porco-Espinho - Leiturinhas
<https://youtu.be/7JfYq4su3Ns>

LEIA E ENUMERE AS FRASES



	MARINA CUIDA DO SEU GATO MIMI.
	O LOBO MAU FICOU FURIOSO.
	MAGALI CORTA A LARANJA.
	A SEREIA MORA NO FUNDO DO MAR.
	A FADA LEVA UMA FLOR.



HOJE É DIA DE REALIZAR AS ATIVIDADES DE ARTE.