

**ANEXO II**  
**QUADRO DE ROTINAS DIÁRIAS**  
**(Ensino Fundamental I e II, Educação Integral, EJA I e II, CIER)**  
**Registro quinzenal da rotina de estudos dos alunos.**

**Escola:** EMEF. VIVA MAIS

**Professor (a):** Marta e Rita

**Ano/turma:** 4º ano A e B

**Realizar o Cabeçalho com data todos os dias, não esqueça tá!**

<b>DIA DA SEMANA</b>	<b>ROTINA DIÁRIA: DESCRIÇÃO DAS ATIVIDADES: 20 A 24 DE SETEMBRO</b>
SEGUNDA-FEIRA 20/09	LEITURA COMPARTILHADA: O CÃO E O OSSO PORTUGUÊS: INTERPRETAÇÃO
TERÇA-FEIRA 21/09	LEITURA COMPARTILHADA: O JABUTI E A FRUTA (REALIZADA NO LIVRO DE PORTUGUÊS PÁGINA 209) MATEMÁTICA: ATIVIDADES ENVOLVENDO O SISTEMA MONETÁRIO HOJE TEM EDUCAÇÃO FÍSICA COM A PROF. LILIAN!! VERIFIQUE O QUE ELA PREPAROU !!
QUARTA-FEIRA 22/09	LEITURA COMPARTILHADA: O GRANDE HEROI REFLEXÃO E ATIVIDADES SOBRE A TEMÁTICA SITUAÇÕES PROBLEMAS SOLTE SUA CRIATIVIDADE NA AULA DE ARTES COM AS ATIVIDADES PREPARADAS PELO PROFESSOR RICARDO.
QUINTA-FEIRA 23/09	LEITURA COMPARTILHADA: MULHER MARAVILHA ORTOGRAFIA
SEXTA-FEIRA: 24/09	LEITURA COMPARTILHADA: CAIO ( LIVRO DE PORTUGUES: PÁG. 176 E 177) SITUAÇÕES PROBLEMAS PRODUÇÃO TEXTUAL

*COM GRANDE ALEGRIA RETORNAMOS AS ATIVIDADES DE FORMA PRESENCIAL, PORÉM CONTINUAMOS NO ENSINO REMOTO TAMBÉM.*

*SENDO DE GRANDE IMPORTÂNCIA O SEU COMPROMISSO EM REALIZAR AS ATIVIDADES NESTE MOMENTO.*

*LEMBRETE IMPORTANTE: NOSSO DIA DE AULA REMOTA SERÁ TODA SEXTA FEIRA :)*


LÍNGUA PORTUGUESA/CIÊNCIAS

Leia

O Cão e o Osso

Um dia, um cão, carregando um osso na boca, ia atravessando uma ponte. Olhando para baixo, viu sua própria imagem refletida na água.

Pensando ver outro cão, cobiçou-lhe logo o osso que este tinha na boca, e pôs-se a latir. Mal, porém, abriu a boca, seu próprio osso caiu na água e perdeu-se para sempre.



Moral da história: Mais vale um pássaro na mão do que dois voando.

Marque o tipo de gênero textual é essa história.

( ) Poema      ( ) Conto de Fada      ( ) Fábula

O assunto do texto é:

- ( ) O cão queria pular a ponte.
- ( ) O cão conversava com o outro cachorro.
- ( ) O cão queria ficar com dois ossos.

A finalidade do texto é:

- ( ) Convidar o cão para comer juntos.
- ( ) Anunciar a venda do osso.
- ( ) Ensinar uma lição moral.

Escreva o que você compreendeu sobre a moral da história.

---

---

---























---

**MATEMÁTICA**

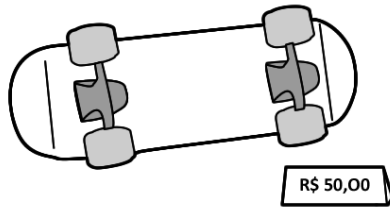
Leitura : O Jabuti e a fruta - Ana Maria Machado (Livro de Português , pág. 209)

# Sistema monetário

Dona Mariquinha está fazendo uma liquidação na sua loja e colocou vários produtos em promoção. Pinte as notas que você precisa para fazer as compras.

 <p>R\$ 85,00</p>	     
<p>R\$ 17,00</p> 	    
<p>R\$ 35,00</p> 	   
<p>R\$ 7,00</p> 	  

1) OBSERVE O VALOR DOS OBJETOS ABAIXO:



2) AGORA, FAÇA O QUE SE PEDE:

A. VOCÊ QUER COMPRAR A BOLA E O SKATE. CIRCULE AS NOTAS QUE VOCÊ PRECISARÁ USAR PARA COMPRAR OS OBJETOS:



B. QUANTO VOCÊ GASTOU PARA COMPRÁ-LOS?

---

---

C. SE VOCÊ FOSSE PAGAR COM UMA NOTA DE R\$ 100,00, QUANTO RECEBERIA DE TROCO?

---

---

### DESPESAS DA FAMÍLIA

• Observe:

Mês <u>agosto</u> despesas	
Aluguel.....	R\$ 450,00
Supermercado.....	R\$ 170,00
Luz.....	R\$ 54,00
Condomínio.....	R\$ 80,00
Telefone.....	R\$ 76,00
Escola.....	R\$ 300,00
Diversos.....	R\$ 180,00



Faça você

- a) Qual a maior despesa dessa família? \_\_\_\_\_
- b) Qual é a menor? \_\_\_\_\_
- c) Qual é o gasto total em aluguel, condomínio, telefone e supermercado?  
\_\_\_\_\_
- d) Com R\$ 800,00 por mês consegue-se pagar essa despesa? \_\_\_\_\_

Cálculos:



Leitura: O grande herói - Pedro Bandeira

**O grande herói**

A história de um herói,  
hoje eu quero lhes contar.  
É um homem destemido,  
quando é hora de lutar!

É um herói que salva todos  
No incêndio lá do hotel.  
Ele enfrenta até leão,  
tigre, onça e cascavel!

É um soldado corajoso,  
na defesa nacional.  
Não tem medo de injeção,  
muito menos de hospital!

Você pode acreditar  
em tudo o que eu estou falando:  
esse herói sempre sou *eu*,  
toda vez que estou sonhando!

BANDEIRA, Pedro. **Mais respeito, eu sou criança!**  
São Paulo, Moderna, 2002, p. 15.

Conversando sobre o tema do texto:

- A) Neste tempo difícil que passamos tivemos que aprender a enfrentar muitos desafios e viramos grandes heróis. Pense na sua trajetória e o quanto fomos vitoriosos.
- B) Que tipo de herói o texto está se referindo?
- C) O que você já fez na sua vida que foi um ato heroico ou você já viu ou ficou sabendo de alguém que fez um ato assim?
- D) Se você tivesse que escolher ser um herói com super poderes o que gostaria de ser?
- E) Desenhe este herói.

## MATEMÁTICA

Leia, resolva e marque a resposta certa:

Paulo, José e Joana foram ao shopping. Observe os preços dos brinquedos de que mais gostaram.



**A)** Paulo tem 52 reais. Pode comprar dois desses brinquedos. Quais são os dois brinquedos que ele pode comprar?

- O carrinho e a bola.
- A boneca e a bola.
- O carrinho e a boneca.

**B)** Joana tem uma nota de 50 reais, uma de 20 reais e uma de 10 reais. Quanto Joana tem?

- 70 reais.
- 60 reais.
- 80 reais.

**C)** Joana quer comprar 2 bonecas com o dinheiro que tem. Quanto receberá de troco se comprar as bonecas?

- 10 reais.
- Não terá troco a receber.
- 20 reais.

**D)** José tinha 10 reais. Ele queria comprar uma bola para dar de presente a sua irmã. Quanto falta para poder comprar a bola?

- 1 real.
- 2 reais.
- 3 reais.

Leitura Compartilhada: Mulher Maravilha

## Mulher Maravilha, a soma das deusas.

Puxa! O mundo só tinha super-heróis. Batman, Homem Aranha, Super-Homem e tantos outros brilhavam na defesa do bem. Cadê mulher? Não havia nenhuma. As deusas do Olimpo decidiram criar uma. Hipólita, a rainha das amazonas, deu à luz uma menina pra lá de especial.

Ela tinha as qualidades das deusas gregas: a beleza de Vênus, a inteligência de Atenas, a nutrição de Demeter, a coragem de Diana. Show! Só um nome combinava com criatura tão excepcional. É Mulher Maravilha.

A garota veio ao mundo com a missão de propagar a paz. Defender a verdade. Também defender a vida na luta entre os homens e os deuses. A tarefa é fácil. Ela carrega um laço dourado que parece chicote. Com ele obriga todos a dizer a verdade. Por isso o laço da super-heroína se chama laço da verdade.

Dad Squarisi



### Nascer

A grávida espera nove meses para ver o bebê. A criança nasce. E a mãe? A mãe dá à luz.

### Você

Complete a frase com a expressão dar à luz + a resposta da pergunta entre parênteses:

- a) Hipólita, a rainha das amazonas, \_\_\_\_\_  
\_\_\_\_\_. (menino ou menina?)
- b) Minha mãe \_\_\_\_\_  
filhos. (quantos?)

### INTERPRETAÇÃO:

LEIA O TEXTO E RESPONDA EM SEU CADERNO.

- A) Você já ouviu falar da Mulher Maravilha? Já assistiu o filme dela?
- B) Quais são os poderes que ela tem?
- C) Qual é a sua missão?
- D) Que instrumento a Mulher Maravilha utiliza ? E o que ele faz?
- E) E você o que achou da história dela?

## Ortografia do R e RR

Hoje vamos revisar a ortografia do R e RR. Leia com atenção cada palavra e você vai se sair bem nessa missão. Bons estudos!



### Complete as palavras com R ou RR:

a) Ama\_\_ado

b) Pe\_\_uca

c) Espe\_\_ando

d) \_\_aivoso

e) \_\_olo

f) Co\_\_eto

g) Xíca\_\_a

h) Ciga\_\_a

i) Ca\_\_acol

j) Ga\_\_oto

k) Tesou\_\_a

l) Cou\_\_o

m) Ca\_\_eca

n) Besou\_\_o

m) Pa\_\_aíso

o) A\_\_ogante

p) Fe\_\_ugem

q) Fe\_\_o

r) Ba\_\_iga

s) Gue\_\_a

t) Abo\_\_ecido

u) A\_\_asado

v) A\_\_ependido

w) Ma\_\_ido



Espero vocês para novas aventuras!

Depois de completar escolha, quatro palavras e forme frases com elas no caderno.



LEITURA COMPARTILHADA: CONTO DE SUSPENSE: CAIO (PÁGINA 176 E 177 DO LIVRO DE PORTUGUÊS)

MATEMÁTICA

PROBLEMINHAS.



1. Numa quadra de futebol havia 136 torcedores. Chegaram mais 237. Quantos torcedores ficaram.

2 Mário tem 15 bolinhas de gude e Miguel tem o triplo dessa quantidade. Quantas bolinhas de gude Miguel possui?

3. Leandro vende salgados na feira. Veja a tabela de vendas da semana:

Tipo de salgado	Quinta - feira	Sexta - feira	Sábado	Domingo
coxinha	86	34	74	126
pastel	77	94	119	45
quibe	80	32	49	97

- Quantos quibes Leandro vendeu no sábado?
- Quantos salgados ele vendeu na sexta - feira?
- Qual dia Leandro vendeu mais salgado? E menos?
- Quantos pastéis ele vendeu ao todo no sábado e domingo?
- Qual salgado mais vendido na semana?

Tia Betânia pesquisou o preço de uma bicicleta em várias lojas. Em duas delas ela encontrou a bicicleta que desejava comprar.

Lojas **Brasil**

5x de R\$ 47,00



Lojas **América**

7x de R\$ 36,00



a) Qual é o preço da bicicleta em cada uma dessas lojas?

(     ) Lojas Brasil R\$ 235,00 e Lojas América R\$ 252,00.

(     ) Lojas Brasil R\$ 230,00 e Lojas América R\$ 242,00.

b) Em que loja a bicicleta é mais cara?

(     ) Lojas Brasil

(     ) Lojas América

Quanto a mais?

(     ) R\$ 27,00

(     ) R\$7,00

(     ) R\$ 17,00

