



**Escola: EMEF. VIVA MAIS**

**Professor (a): Lidiane e Jane**

**Ano/turma: 3º ano A e B**

<b>Dia da Semana</b>	<b>Rotina diária: descrição das atividades</b>
<b>Segunda feira 27/09</b>	<b>Leitura diária:</b> A PRINCESA E A ERVILHA <a href="https://www.youtube.com/watch?v=8jvvFbDPWrI">https://www.youtube.com/watch?v=8jvvFbDPWrI</a> PORTUGUÊS: POEMA, RIMAS, ESTROFES E VERSOS, SEPARAÇÃO SILÁBICA MATEMÁTICA: INGLÊS: ATIVIDADES NO BOLG
<b>Terça feira 28/09</b>	<b>Leitura diária:</b> MÃES DE TODOS OS TIPOS <a href="https://drive.google.com/file/d/1lh5MZhlv4QNTpGYbFSmgnY58j8XCOBtQ/view?usp=sharing">https://drive.google.com/file/d/1lh5MZhlv4QNTpGYbFSmgnY58j8XCOBtQ/view?usp=sharing</a> PORTUGUÊS: POEMA, RIMAS E INTERPRETAÇÃO MATEMÁTICA: ARTES: ATIVIDADES NO BOLG
<b>Quarta feira 29/09</b>	<b>Leitura diária:</b> JOÃO E O PÉ DE FEIJÃO <a href="https://www.youtube.com/watch?v=bLvAktUZQkM">https://www.youtube.com/watch?v=bLvAktUZQkM</a> PORTUGUÊS: SEGUIMENTAÇÃO TEXTUAL, LEITURA E PRODUÇÃO TEXTUAL MATEMÁTICA:
<b>Quinta feira 30/09</b>	<b>Leitura diária:</b> AS COISAS QUE A GENTE FALA <a href="https://www.youtube.com/watch?v=438yINgj1qE">https://www.youtube.com/watch?v=438yINgj1qE</a> CIÊNCIAS: POLUIÇÃO VISUAL E AUDITIVA EDUCAÇÃO FÍSICA:
<b>Sexta feira 01/09</b>	<b>Leitura diária:</b> O RATO VOLTA A CIDADE <a href="https://www.ufrgs.br/comacesso/wp-content/uploads/2020/04/FA%CC%81BULARato-Final.pdf">https://www.ufrgs.br/comacesso/wp-content/uploads/2020/04/FA%CC%81BULARato-Final.pdf</a> HISTÓRIA: RECURSOS NATURAIS RENOVÁVEIS E NÃO RENOVÁVEIS MATEMÁTICA:



HORTOLÂNDIA, 27 DE SETEMBRO DE 2021.

NOME COMPLETO: \_\_\_\_\_

PROFESSOR (A): \_\_\_\_\_ 3º ANO \_\_\_\_\_

**OLÁ QUERIDOS ALUNOS!  
VAMOS AOS ESTUDOS DA SEMANA.**

**PORTUGUÊS**

**AS BORBOLETAS**

BRANCAS  
AZUIS  
AMARELAS  
E PRETAS  
BRINCAM  
NA LUZ  
AS BELAS  
BORBOLETAS.



BORBOLETAS  
BRANCAS  
SÃO ALEGRES E  
FRANCAS.

BORBOLETAS AZUIS  
GOSTAM MUITO DE LUZ.

AS AMARELINHAS  
SÃO TÃO BONITINHAS!

E AS PRETAS, ENTÃO...  
OH, QUE ESCURIDÃO!



VINÍCIUS DE MORAES  
RIO DE JANEIRO , 1970

**PINTE AS PALAVRAS QUE RIMAM COM BORBOLETA**

CAMISA	MULETA	BONECA	MALETA
CANETA	ROLETA	BOLSA	LÁPIS
CUECA	NAVIO	CHUPETA	JANELA

**SEPARE E CONTE AS SÍLABAS**

PRETAS \_\_\_\_\_

LUZ \_\_\_\_\_

ALEGRES \_\_\_\_\_

BONITINHAS \_\_\_\_\_



## ORDENE AS SÍLABAS FORMANDO PALAVRAS

LE	TA	BO	BOR	
MA	A	LAS	RE	
DÃO	ES	RI	CU	

## LIGUE:

BORBOLETAS BRANCAS

SÃO TÃO BONITINHAS.

BORBOLETAS AZUIS

OH, QUE ESCURIDÃO!

BORBOLETAS PRETAS

GOSTAM MUITO DE LUZ.

BORBOLETAS AMARELAS

SÃO ALEGRES E FRANCAS.

## FORME PALAVRAS COM AS SÍLABAS INICIAIS:

VER \_\_\_\_\_

RO \_\_\_\_\_

PRE \_\_\_\_\_

CIN \_\_\_\_\_


LA \_\_\_\_\_



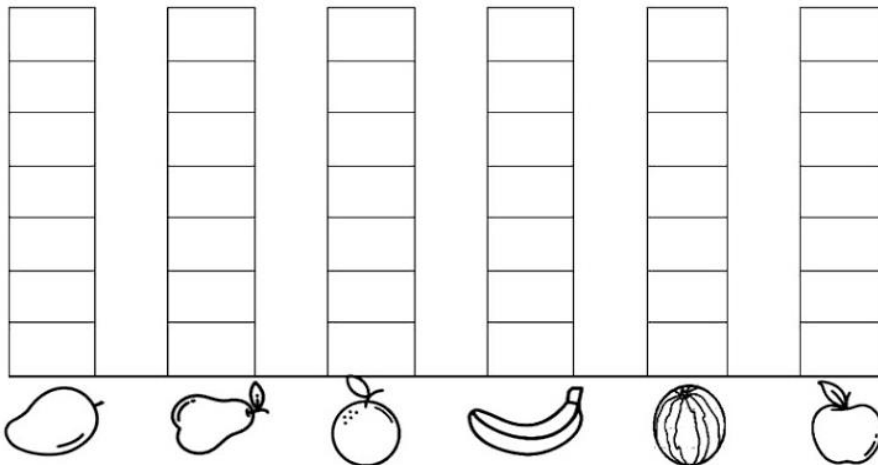
## CAÇA CORES:

J	P	A	M	A	R	E	L	O	G	C	U
M	R	F	E	F	T	M	A	R	R	O	M
V	E	R	D	E	V	D	R	B	E	A	I
H	T	B	V	P	B	Y	A	Z	H	Ç	T
R	O	S	A	X	O	M	N	C	L	C	V
N	R	P	O	A	C	H	J	I	Ç	D	X
R	X	O	G	N	B	R	A	N	C	O	G
B	A	Z	U	L	P	K	N	Z	X	S	S
V	E	R	M	E	L	H	O	A	R	J	N

AMARELO – VERDE – AZUL – MARROM – ROSA  
BRANCO – VERMELHO – PRETO – LARANJA – CINZA



**A) CONTE AS FRUTAS E PINTE O GRÁFICO. DEPOIS RESPONDA AS QUESTÕES PROPOSTAS.**



**B) QUAL FRUTA COMPREI MAIOR QUANTIDADE?**

( ) MANGA.      ( ) LARANJA.      ( ) MELANCIA.      ( ) BANANA.

**C) O QUE COMPREI EM MENOR QUANTIDADE: PÊRAS OU MAÇÃS?**

**D) QUAIS FRUTAS COMPREI EM QUANTIDADES IGUAIS?**

( ) BANANA E LARANJA.      ( ) LARANJA E MANGA.  
( ) BANANA E MANGA.      ( ) MAÇÃ E PÊRA.

### **MATEMÁTICA**

OBSERVE O QUADRO ABAIXO COM AS FRUTAS QUE COMPREI NA FEIRA E DEPOIS PREENCHA O GRÁFICO.



HORTOLÂNDIA, 28 DE SETEMBRO DE 2021.

NOME COMPLETO: \_\_\_\_\_

PROFESSOR (A): \_\_\_\_\_ 3º ANO \_\_\_\_\_

## PORTUGUÊS

1- Leia o poema: A foca – Vinícius de Moraes

### A FOCA

Vinícius de Moraes

QUER VER A FOCA  
FICAR FELIZ?  
É PÔR UMA BOLA  
NO SEU NARIZ.

QUER VER A FOCA  
BATER PALMINHA?  
É DAR A ELA  
UMA SARDINHA.

QUER VER A FOCA  
FAZER UMA BRIGA?  
É ESPETAR ELA  
BEM NA BARRIGA.



VAMOS BRINCAR  
DE RIMA

FELIZ - NARIZ  
PALMINHA - SARDINHA  
BRIGA - BARRIGA

AGORA É VOCÊ:

BIFÃO \_\_\_\_\_

FOGÃO \_\_\_\_\_

FEIA \_\_\_\_\_

CAFÉ \_\_\_\_\_

FICA \_\_\_\_\_

FACADA \_\_\_\_\_

1) Este texto é:

- piada.
- poesia.
- receita.

2) A foca fica feliz quando:

- alguém põe a bola no seu nariz.
- brincam com ela de espetar sua barriga.
- ela come sardinha.

3) Quando a foca ganha uma sardinha ela:

- bate palminha.
- fica feliz.
- pede mais.




## MATEMÁTICA

- 4- Escolha 3 cores de lápis de cor e pinte cada estrofe do poema de uma cor. (escolha cores claras para ser possível ler depois).

## MATEMÁTICA

- Observe o gráfico que mostra o animal preferido pelos alunos do 2º ano:



- De acordo com o gráfico, complete a tabela abaixo, escrevendo o nome dos animais e sua respectiva quantidade:

NOME DO ANIMAL	QUANTIDADE
Abelha	
Borboleta	
Cachorro	
Cavalo	
Joaninha	
Vaca	

- Qual foi o animal mais votado? \_\_\_\_\_
- Qual foi o animal menos votado? \_\_\_\_\_
- Quantos votos teve o cavalo? \_\_\_\_\_
- Qual animal teve 7 votos? \_\_\_\_\_





## MATEMÁTICA

1-OBSERVE QUANTOS DIAS TEM A CADA MÊS E PREENCHA A TABELA ABAIXO

- janeiro- 31 dias
- fevereiro-28 ou 29 dias
- março-31 dias
- abril- 30 dias
- maio- 31 dias
- Junho-30 dias
- julho-31 dias
- agosto- 31 dias
- setembro- 30 dias
- outubro- 31 dias
- novembro- 30 dias
- dezembro- 31 dias



ME AJUDE A ORGANIZAR OS MESES DO ANO NA TABELA ABAIXO.

NOVEMBRO	JANEIRO	MAIO	JUNHO
JULHO	AGOSTO	DEZEMBRO	FEVEREIRO
MARÇO	OUTUBRO	ABRIL	SETEMBRO

28 ou 29 DIAS	30 DIAS	31 DIAS

nova  
escola

### RESPONDA NO CADERNO

- QUAL MÊS QUE TEM MENOS DIAS?
- QUAIS OS MESES TEM 30 DIAS?
- QUAIS OS MESES TEM 31 DIAS?
- QUANTOS MESES TEM EM UM ANO?
- QUANTOS DIAS TEM O MÊS DE AGOSTO?
- QUANTOS DIAS TEM MAIO E SETEMBRO JUNTOS?





HORTOLÂNDIA, 30 DE SETEMBRO DE 2021.

NOME COMPLETO: \_\_\_\_\_

PROFESSOR (A): \_\_\_\_\_ 3º ANO \_\_\_\_\_

## CIÊNCIAS

### **PESQUISANDO**



**1** PROCURE, NO DICIONÁRIO, O SIGNIFICADO DA PALAVRA POLUIÇÃO E ESCREVA NO QUADRO O QUE VOCÊ ENTENDEU.

POLUIÇÃO É _____ _____ _____ _____
---



**2** AGORA, RESPONDA:

A) NA CIDADE ONDE VOCÊ MORA EXISTE POLUIÇÃO?

SIM

NÃO

B) QUE TIPO DE POLUIÇÃO?  AMBIENTAL.  VISUAL.  SONORA.

C) ESCREVA ABAIXO EXEMPLOS DE:

POLUIÇÃO AMBIENTAL	POLUIÇÃO VISUAL	POLUIÇÃO SONORA

REALIZE AS ATIVIDADES DO LIVRO DE CIÊNCIAS PÁGINAS 60 E 61



HORTOLÂNDIA, 01 DE SETEMBRO DE 2021.

NOME COMPLETO: \_\_\_\_\_

PROFESSOR (A): \_\_\_\_\_ 3º ANO \_\_\_\_\_

## HISTÓRIA

1- .



2- Agora responda:

A) Quais são os recursos naturais?

\_\_\_\_\_

B) O que são recursos naturais renováveis?

\_\_\_\_\_

C) O que são recursos naturais **não** renováveis?

\_\_\_\_\_

REALIZE AS ATIVIDADES DO LIVRO DE [GEOGRAFIA 92,93,94 E 95](#)

HORTOLÂNDIA, 01 DE SETEMBRO DE 2021.

NOME COMPLETO: \_\_\_\_\_



PROFESSOR (A): \_\_\_\_\_ 3º ANO \_\_\_\_\_

## HISTÓRIA

### ORIGEM DA PALAVRA QUILOMBO

A palavra quilombo tem origem nos termos *kilombo* (kimbundo) ou *ochilombo* (umbundo), línguas faladas ainda hoje por povos bantos que habitam a Angola.

Originalmente, a palavra designava apenas um lugar de pouso utilizado por populações nômades ou em deslocamento.

No Brasil, o termo **quilombo** ganha o sentido conhecido até hoje de comunidades autônomas de escravos e uma das formas de resistência dos negros no Brasil à escravatura.

Faça como o exemplo  
e escreva palavras da  
mesma família.



SOMOS TODOS DA MESMA FAMÍLIA!

QUILOMBO	QUILOMBOLA
HABITAR	
ESCRAVO	
LÍNGUA	
POVO	

REALIZE A LEITURA E ATIVIDADES DO LIVRO DE HISTÓRIA PÁGINAS 80-81.