



Professoras: Maura, Kétula e Gilmara.

Ano: 2021 Ano/Turma: 5º Anos A, B e C.

Atividades da Semana de 17/05/2021 a 21/05/2021

5º Anos A, B e C.

| Dia da semana | Rotina diária: descrição das atividades |
|------------------------------|--|
| Segunda-feira Data: 17/05 | Leitura Diária: Banho é bom – Zis – Canção para crianças Ciências: Higiene pessoal e o uso da água Acesse o link: https://www.youtube.com/watch?v=LeP2ClepzYQ&list=PLpS-jY4fB7cVImRWNg3lx4V9Fh6Zq16CO&index=6 |

Ciências:

Olá crianças! Tudo bem? Vimos ao longo do nosso estudo na disciplina de Ciências que a água é um elemento natural que está presente nos alimentos, compõe a alimentação balanceada e vimos também que 80% dos casos de dengue estão nas casas devido a quantidade de recipientes que deixamos abertos com água parada.

Hoje iremos estudar um pouquinho sobre o uso da água na nossa higiene pessoal. Veja algumas dicas no poema abaixo:

HIGIENE PESSOAL

(Solange Valadares)

Para ter boa **SAÚDE**
Devemos do **CORPO** cuidar
Tomar banho diariamente
E roupas limpas usar.

Manter as **MÃOS** bem lavadas
E as **UNHAS** sempre cortadas
Lavar frutas e verduras
Antes de serem usadas.

Comer sempre na hora certa
E os **DENTES** escovar
Ao **DORMIR**, ao acordar
E depois de se alimentar.

Sempre **ESPORTES** praticar
E bem cedo levantar
Beber **ÁGUA** filtrada
Para as doenças evitar.

Disponível em: <https://br.pinterest.com/pin/505740233148637881/> Acesso em 26/04/2021

VOCÊ SABIA QUE...


Para termos uma boa qualidade de vida e realizar algumas ações em prol da nossa higiene pessoal é essencial o uso da água, mas algumas dessas atividades podem gastar muita água se não forem realizadas com atenção! **POR EXEMPLO:**



- Um banho de 15 minutos gasta 120 litros de água, enquanto um banho de 5 minutos gasta 30 litros de água.
- Escovar os dentes com a torneira aberta gasta 18 litros de água. Ao fechar a torneira o gasto cai para 2 litros.
- Uma lavadora de 5 quilogramas consome 135 litros de água a cada uso. Só use a máquina de lavar roupas quando estiver completamente cheia.

Fonte: Buriti mais: ciências: manual do professor/5º ano

ATIVIDADE: COPIE AS PERGUNTAS E RESPONDA NO CADERNO.



1. OBSERVE A IMAGEM. NA SUA OPINIÃO LAVAR AS MÃOS SALVA VIDAS POR QUÊ?
2. NO BRASIL TEMOS O HÁBITO DE TOMAR BANHO DIARIAMENTE PESQUISE NA INTERNET A ORIGEM DESSE COSTUME.
3. PENSE EM UMA FORMA DE ECONOMIZAR ÁGUA AO REALIZAR SUA HIGIENE PESSOAL (BANHO, ESCOVAR OS DENTES, LAVAR AS MÃOS, ETC.) E REGISTRE EM SEU CADERNO.
4. LOCALIZE NO DIAGRAMA ABAIXO AS PALAVRAS DESTACADAS NO POEMA E ESCREVA EM SEU CADERNO.

| | | | | | | | | | | | |
|---|---|---|---|---|---|---|---|---|---|---|---|
| S | A | Ú | D | E | V | U | N | H | A | S | C |
| M | W | D | E | N | T | E | S | T | B | C | O |
| Ã | B | J | Á | G | U | A | W | R | V | N | R |
| O | Q | L | R | T | D | O | R | M | I | R | P |
| S | E | S | P | O | R | T | E | S | B | K | O |

Dia da semana

Rotina diária: descrição das atividades

Terça-feira

Leitura Diária: Não me toca, seu boboca – Andrea Viviana Taubman

Data: 18/05

Acesse o link: <https://www.youtube.com/watch?v=9wXC-Yjr9IU>

Português: 18 de maio – Dia do “FAÇA BONITO”

Português

Olá crianças, tudo bem? Vocês sabem o que é celebrado no dia 18 de maio?

18 de MAIO é o dia do “FAÇA BONITO”

Vocês sabiam que...

“É dever da família, da sociedade e do Estado assegurar à criança e ao adolescente, com absoluta prioridade, o direito à vida, à saúde, à alimentação, à educação, ao lazer, à profissionalização, à cultura, à dignidade e à convivência familiar e comunitária, além de **colocá-los a salvo de toda forma de negligência, discriminação, exploração, violência, crueldade e opressão.**” (Art. 227 da Constituição).

No dia 18 de maio, celebramos o Dia Nacional de Combate ao Abuso e à Exploração Sexual de Crianças e Adolescente, que tem como objetivo mobilizar, sensibilizar, informar e convocar toda a sociedade a partir da luta em defesa dos direitos sexuais de crianças e adolescentes. A data foi instituída pela Lei 9.970, de 17 de maio de 2000.

Desde então, entidades ligadas à defesa dos direitos das crianças e adolescentes promovem atividades em todo o país para conscientizar a sociedade e as autoridades sobre a gravidade da violência sexual. Todos os anos, o Comitê de Enfrentamento à Violência Sexual realiza a campanha “Faça Bonito. Proteja nossas Crianças e Adolescentes” com o objetivo de mobilizar a sociedade.

Disponível em:

<https://www.independencia.ce.gov.br/informa.php?id=27>


Para compreender melhor a importância desse assunto acesse os links abaixo:

➤ <https://www.youtube.com/watch?v=MekZv4XOkk0>

Após a leitura da história de Pipo e Fifi você saberá identificar os toques do **sim** e do **não**. Fique ligado! Seu corpo é muito especial! Além dos cuidados com a higiene pessoal, você tem todo o direito de dizer: **NÃO!** Quando precisar de ajuda procure alguém em quem possa **CONFIAR!!!**

ATIVIDADE: OBSERVE O FOLHETO AO LADO E RESPONDA AS QUESTÕES 1.2.3 e 4.

- 1) O QUE É CELEBRADO NO DIA 18 DE MAIO?**
- 2) QUAL É O SÍMBOLO DA CAMPANHA “FAÇA BONITO”**
- 3) QUAL É O NÚMERO UTILIZADO PARA O DISQUE DENÚNCIA?**
- 4) ELABORE O SEU FOLHETO (CONFORME O FOLHETO AO LADO) REFERENTE À PROTEÇÃO DAS CRIANÇAS E ADOLESCENTES FRENTE ABUSO SEXUAL. USE SUA CRIATIVIDADE!**
- 5) ESCREVA UM EXEMPLO DE TOQUE DO NÃO!**
- 6) DESENHE EM SEU CADERNO UMA PESSOA ESPECIAL NA QUAL VOCÊ CONFIA.**



| Dia da semana | Rotina diária: descrição das atividades |
|-----------------------------|---|
| Quarta-feira Data: 19/05 | FERIADO!!! |

| Dia da semana | Rotina diária: descrição das atividades |
|-----------------------------|---|
| Quinta-feira Data: 20/05 | <p>Leitura Diária: – A rua do Marcelo – Ruth Rocha</p> <p>https://pt.slideshare.net/GilceSousa/a-rua-do-marcelo-ruth-rocha-editora-salamandra</p> <p>História/Geografia: A história da cidade de Hortolândia e sua localização</p> <p>Língua Inglesa: Personal pronoun and verb to be (Pronomes pessoais e verbo ser e estar) - página 17.</p> |

História/Geografia

Olá crianças! Tudo bem? No dia 19/05 a cidade de Hortolândia completou 30 anos



Vocês



sabem como tudo isso



começou?

Os primeiros capítulos da história de Hortolândia têm início entre os séculos XVIII e XIX, com o cultivo de café e algodão nas terras que, à época, eram conhecidas como bairro Jacuba. O nome, que em tupi-guarani significa “água quente” (y-acub), baseia-se em um pirão feito com farinha de mandioca, cachaça, açúcar e mel, muito apreciado por viajantes que passavam pela região.

Em 1872, com a inauguração da estação ferroviária de Campinas, o local passa a integrar o caminho dos trens. A Estação Jacuba só vem depois, sendo instalada em 1917, exatamente onde funcionava, desde 1896, o ponto telegráfico. Em 1947, surge o primeiro loteamento, o Parque Ortolândia, pertencente a João Ortolan. O empreendimento começa a trazer urbanização para o que viria a ser a cidade.

Fonte: <https://cidades.ibge.gov.br/brasil/sp/hortolandia/historico>

Mas só foi em **19 de maio de 1991**, por meio de plebiscito, que a maior parte dos eleitores votaram a favor da emancipação. Surge, assim, o município de Hortolândia.

Quer entender um pouquinho melhor essa história? Clic no link abaixo e assista ao vídeo que foi gravado em 2019. Prepare-se para essa viagem no tempo!

- <https://www.youtube.com/watch?v=qg655AxdTr4>

Interessante não é mesmo? Mas ainda não acabou!!!

Vamos conhecer agora os símbolos oficiais da nossa cidade?

SÍMBOLOS DO MUNICÍPIO

A lei nº 10, de 26 de março de 1993, promulgada pelo então prefeito, Luís Antônio Dias da Silva, institui o **brasão** de armas do município de Hortolândia.


Você pode conferir o que significa cada detalhe do brasão no site:

<https://leismunicipais.com.br/a/sp/h/hortolandia/lei-ordinaria/1993/1/10/lei-ordinaria-n-10-1993-institui-o-brasao-de-armas-do-municipio-de-hortolandia-conforme-especifica>



Outro símbolo bem mais conhecido é a **bandeira** municipal, que foi hasteada pela primeira vez, na data de comemoração oficial do novo município, 19 de maio de 1993.

A bandeira de Hortolândia que ostenta o brasão municipal ao centro e cujo design foi feito pela professora Terezinha França de Mendonça Duarte, é composta em três cores, fundo amarelo, suas listras em diagonal, em ambos os lados em verde e azul celeste.



E o **hino** municipal com letra e música de David Wesley Silva e Maurício Viotto Junior. Acesse o link ao lado.

https://www.youtube.com/watch?v=7_6Lv7MTZ3Q

ATIVIDADES: COPIE AS QUESTÕES E RESPONDA NO CADERNO:

- 1) Desenhar os símbolos oficiais do município, **brasão e bandeira**, da melhor maneira que conseguir, com bastante atenção às cores.
- 2) Copiar a letra do hino municipal, prestando atenção aos versos e estrofes (Pesquise na internet).
- 3) Observe o mapa da região metropolitana de Campinas, da qual nosso município faz parte, e responda as questões.



- Eu moro no município de _____
- Que fica localizado no estado de _____
- Na Região _____
- Meu país se chama _____
- Quantos municípios fazem parte da Região Metropolitana de Campinas?
- Quais municípios fazem divisa com Hortolândia?
- Qual o nome do atual prefeito de Hortolândia?
- Desenhe o seu lugar preferido no município de Hortolândia.

| Dia da semana | Rotina diária: descrição das atividades |
|-----------------------------------|---|
| Sexta-feira Data: 21/05 | Leitura Diária: Otimismo – Janaina Alves Brejo – Coleção: O que cabe no meu mundo II https://drive.google.com/file/d/1GZzAD903CHi6qPEDV_ytgR7Z85NMM7_I/view Matemática: Leitura e escrita dos numerais Português: Produção de frases Projeto: “Bem me quer, paz se quer”: Acesse o Blog Educacional na aba quer saber mais. |

Matemática/Português

HORTOLÂNDIA

ACESSE O LINK ABAIXO PARA CONFERIR OS DADOS DO IBGE:

<https://cidades.ibge.gov.br/brasil/sp/hortolandia/panorama>

- A população de Hortolândia no ano de 2010 era de **192.692** pessoas.
- A população no ano de 2020 foi estimada em **234. 259** pessoas

AGORA RESPONDA EM SEU CADERNO:

- 1) O crescimento populacional da cidade em relação aos dois anos de referência, aumentou ou diminuiu?
- 2) Qual foi a diferença populacional entre esses dois anos de referência? Faça o cálculo como parte do registro.
- 3) Escreva os números por extenso.
 - a) 192.692 -
 - b) 234.259 –
- 4) Observe as imagens abaixo e escreva em seu caderno uma frase para cada ilustração a partir da seguinte expressão:

“Como Eu me sinto quando visito.... ou visitava o”

SHOPPING DE HORTOLÂNDIA



CENTRO DE MEMÓRIA DA CIDADE DE HORTOLÂNDIA.

