

EMEIEF "BAIRRO TRÊS CASAS"






HORTOLÂNDIA, 07 DE JUNHO DE 2021

NOME COMPLETO: _____

PROFESSOR (A): _____ 3 ANO _____

PORTUGUÊS

Treinando a letra cursiva:



1. LEIA A FÁBULA E FAÇA OS EXERCÍCIOS :



Adoro fábulas!



Um pastor cuidava de seu rebanho perto de um povoado. Ele gostava de mentir de vez em quando gritando:

— Socorro! Um lobo vai comer minhas ovelhas. Socorro!

Os vizinhos largavam o trabalho e saíam correndo para ajudar. Encontravam o pastor dando risadas.

Um dia, apareceu um lobo de verdade. O pastor gritou desesperado, mas os vizinhos acharam que era mentira e nem deram atenção. Nesse dia, o lobo acabou com o rebanho do pastorzinho.

Fábula de Esopo (texto adaptado)

1) Crie um título para a fábula :

R: _____

2) Qual era o animal que o pastor cuidava ?

R: _____

3) Em que lugar o pastor cuidava do seu rebanho?

R: _____

4) O que ele gritava quando mentia que o lobo estava atacando as suas ovelhas ?

R: _____

EMEIEF "BAIRRO TRÊS CASAS"

HORTOLÂNDIA, 08 DE JUNHO DE 2021

NOME COMPLETO: _____

PROFESSOR (A): _____ 3 ANO _____

HISTÓRIA

Uma questão de espaço

Há muito tempo, a necessidade de abrigo e segurança levou os seres humanos a usar as cavernas para se proteger do frio e dos animais. Milhares de anos depois, os seres humanos começaram a construir casas e ali reuniam grupos de pessoas, que podiam ser familiares, parentes ou amigos para morar e conviver.

Assim, em nossas moradias, convivemos com a família e recebemos visitas de amigos e de vizinhos. Enquanto estamos em casa, no nosso espaço doméstico, comemos, conversamos, dormimos, estudamos e nos divertimos.

Você já observou a divisão de sua casa? Ela pode ter um ou mais cômodos: quarto, sala, banheiro, cozinha e área de serviço. Há casas que têm jardim e quintal. Todos os moradores podem cuidar da limpeza e organização do lar. Cada um pode se responsabilizar por alguma tarefa da casa.

ATIVIDADES

a) Desenhe a fachada (frente) do seu lar.



b) Explique como é sua moradia e com quem você mora.

R: _____

EMEIEF "BAIRRO TRÊS CASAS"

HORTOLÂNDIA, 09 DE JUNHO DE 2021

NOME COMPLETO: _____

PROFESSOR (A): _____ 3 ANO _____

GEOGRAFIA

As paisagens são transformadas

As paisagens são transformadas constantemente. Estas transformações são causadas pela própria natureza e pelas pessoas.

A natureza transforma a paisagem: a ação do vento e da água, as erupções vulcânicas e os terremotos, por exemplo, modificam as paisagens.

O vento e a água desgastam os materiais que compõem as rochas da superfície terrestre. Os materiais originados desse processo acumulam-se em outros pontos da superfície. O vento e a água levam milhares de anos para alterar a paisagem.

OBSERVE A IMAGEM ABAIXO E RESOLVA AS QUESTÕES.



Fonte: <https://www.eduardo-monica.com/new-blog/pedra-furada-jericoacoara>

a) No município de Hortolândia há paisagens parecidas com a mostrada acima? Qual o principal elemento da paisagem da imagem acima que não existe na sua cidade?

R: _____

b) Quais elementos da natureza desgastaram a rocha da imagem acima?

R: _____

EMEIEF "BAIRRO TRÊS CASAS"

HORTOLÂNDIA, 10 DE JUNHO DE 2021

NOME COMPLETO: _____

PROFESSOR (A): _____ 3 ANO _____

MATEMÁTICA

SISTEMA MONETÁRIO

QUANDO COMPRAMOS OU VENDEMOS ALGUMA COISA, USAMOS DINHEIRO.

TODO PAÍS TEM O SEU DINHEIRO.



O NOSSO DINHEIRO É O **REAL**.

O SÍMBOLO DO REAL É **R\$**.

1 REAL EQUIVALE A **100 CENTAVOS**.

O NOSSO DINHEIRO PODE SER ENCONTRADO EM **MOEDAS** E **CÉDULAS** (NOTAS).

RESOLVA AS ATIVIDADES:

ATIVIDADE 1: FAÇA OS CÁLCULOS E DESCUBRA QUANTO A MAGALI IRÁ GASTAR EM SUAS COMPRAS. AH , NÃO SE ESQUEÇA DE PINTAR O DESENHO:

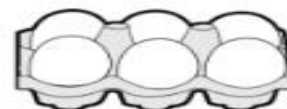
ENQUANTO ESCOLHIA AS VERDURAS, A MÃE DA MAGALI PEDIU PARA ELA COMPRAR ALGUMAS FRUTAS. VAMOS AJUDAR A MAGALI A CALCULAR QUANTO ELA VAI GASTAR?

LISTA
3 MELÕES
5 DÚZIAS DE BANANAS
12 MAÇÃS
TOTAL: ?



FAÇA AQUI SEUS CÁLCULOS , PARA QUE SEU(SUA) PROFESSOR(A) POSSA CORRIGIR:

ATIVIDADE 2: DESCUBRA QUAL O TROCO VOCÊ IRÁ RECEBER AO PAGAR AS COMPRAS E REGISTRE OS RESULTADOS.



	1 KG FEIJÃO	1 KG ARROZ	1 LITRO DE LEITE	MEIA DÚZIA DE OVOS
VALOR	R\$ 6,00	R\$ 9,00	R\$ 3,00	R\$ 2,00
PAGAMENTO	R\$ 10,00	R\$ 20,00	R\$ 5,00	R\$ 2,00
OPERAÇÃO	10 - 6	___ - ___	___ - ___	___ - ___
TROCO	R\$ 4,00			

ATIVIDADE 3: ESCREVA POR EXTENSO, E EM ORDEM CRESCENTE, OS VALORES DE CADA MOEDA E CÉDULA DO NOSSO SISTEMA MONETÁRIO. COMO NO EXEMPLO:

R\$ 00,01 – UM CENTAVO - R\$ 00,05 – CINCO CENTAVOS - R\$ 00,10 _____

EMEIEF "BAIRRO TRÊS CASAS"

HORTOLÂNDIA, 11 DE JUNHO DE 2021

NOME COMPLETO: _____

PROFESSOR (A): _____ 3 ANO _____

CIÊNCIAS

1) Leia o texto e depois responda as questões. É sempre bom ler mais de uma vez para fixar o aprendizado.

Os animais – RESPIRAÇÃO

Por meio da respiração, o organismo capta o **gás oxigênio** e elimina o **gás carbônico**.

Os animais podem respirar o **gás oxigênio presente no ar, no solo ou misturado na água**. Sem esse gás, os animais morrem. O corpo dos animais apresenta estruturas diferentes para a respiração.

- Animais como gatos, golfinhos, tartarugas e pássaros respiram por meio dos **pulmões**. Os pulmões são órgãos internos com pequenos compartimentos onde ocorrem a absorção de **gás oxigênio e a eliminação de gás carbônico**, chamada de **trocas gasosas**.

- Na maioria dos peixes, a água entra pela boca e passa por **brânquias**, estruturas que captam o gás oxigênio misturado na água e liberam o gás carbônico produzido pelo organismo.



Os peixes respiram o gás oxigênio presentes na água.



O peixe-boi é um animal aquático e tem pulmão, por isso, ele coloca a cabeça para fora da água para respirar.



As minhocas respiram por meio da pele, por isso elas têm a pele úmida.

a) Qual é o gás absorvido na respiração dos animais?

R

b) Qual é o gás eliminado do organismo dos animais durante a respiração?

R

c) Cite dois exemplos de animais que possuem pulmão.

R

d) Cite dois exemplos de animais que vivem na água, mas que tiram a cabeça da água para respirar.

R

