



ATIVIDADES PARA A SEMANA DE 20 A 24 DE SETEMBRO

EMEIEF JARDIM SANTA ESMERALDA

PROFESSORAS: JOSIANE e ISABELA

ANO/TURMA: 1º ANO A e B

DIA DA SEMANA	ROTINA DIÁRIA - DESCRIÇÃO DAS ATIVIDADES
SEGUNDA-FEIRA 20/09/2021	<p>LEITURA DIÁRIA: NÚMEROS ORDINAIS ACESSAR LINK : https://www.youtube.com/watch?v=RxfN5QFdKg</p> <p>ATIVIDADE: DESAFIO MATEMÁTICO – SEGUIR AS DICAS PARA DESCOBRIR O NOME DOS MESES QUE ACONTECEM AS MUDANÇAS DE ESTAÇÃO DO ANO - JOGO ON LINE - NÚMEROS ORDINAIS. (MAT. / GEO.)</p> <p>AULA DE INGLÊS: ACESSAR O <u>BLOG</u> PARA VERIFICAR AS ATIVIDADES. (1º ANO A e B)</p>
TERÇA-FEIRA 21/09/2021	<p>LEITURA DIÁRIA: A ÁRVORE GENEROSA ACESSAR O LINK: https://www.youtube.com/watch?v=l3swWsXUCXs</p> <p>ATIVIDADE: CRUZADINHA DA ÁRVORE – DESENHAR UMA ÁRVORE E ESCREVER O NOME DE SUAS PARTES. (CIÊN./ L. PORT.)</p>
QUARTA-FEIRA 22/09/2021	<p>LEITURA DIÁRIA: A PRIMAVERA DA LAGARTA ACESSAR O LINK: https://www.youtube.com/watch?v=VCDfPzUtE-Q</p> <p>ATIVIDADE: POEMA LEILÃO DE JARDIM – ENCONTRAR NAS DUAS COLUNAS AS PALAVRAS QUE RIMAM E COPIAR UMA AO LADO DA OUTRA. (LÍNG. PORT.)</p> <p>EDUCAÇÃO FÍSICA: ACESSAR O <u>BLOG/ WHATSAPP</u> PARA VERIFICAR AS ATIVIDADES. (1º ANO A e B)</p>
QUINTA-FEIRA 23/09/2021	<p>LEITURA DIÁRIA: VÍDEO MUSICAL – LETRA P ACESSAR LINK: https://www.youtube.com/watch?v=Sy5Nix7RsMk</p> <p>ATIVIDADE: TRABALHAR A LETRA P – CIRCULAR A LETRA P NO TEXTO, LOCALIZAR E CIRCULAR A PALAVRA QUE CORRESPONDE AO DESENHO. (LÍNG. PORT.)</p> <p>AULA DE ARTE: ACESSAR O <u>BLOG/ WHATSAPP</u> PARA VERIFICAR AS ATIVIDADES. (1º ANO B).</p>
SEXTA-FEIRA 24/09/2021	<p>LEITURA DIÁRIA: QUEM SOLTOU O PUM? ACESSAR LINK: https://www.youtube.com/watch?v=hmqEqUXrdqg</p> <p>ATIVIDADE: SITUAÇÃO PROBLEMA DE ADIÇÃO E ESCRITA DE NUMERAL ATRAVÉS DE REPRESENTAÇÃO COM MATERIAL DOURADO. (MAT.)</p> <p>AULA DE ARTE: ACESSAR O <u>BLOG/ WHATSAPP</u> PARA VERIFICAR AS ATIVIDADES. (1º ANO A).</p> <p>-</p>

E.M.E.I.E.F. “JARDIM SANTA ESMERALDA”



IMAGEM EXTRAÍDA DE: br.freepik.com – ACESSO EM: 16/09/2021

ATIVIDADE DOMICILIAR – SEMANA DE 20 A 24/09/2021

PROFESSORAS: JOSIANE e ISABELA

1º ANO A e B

SENHORES PAIS

AS ATIVIDADES NESTE CANAL SÃO POSTADAS QUINZENALMENTE.

AS CRIANÇAS DO 1º ANO ESTÃO EM PROCESSO DE CONSTRUÇÃO DE ESCRITA E PRECISAM DE AUXÍLIO E ORIENTAÇÃO PARA REALIZAR AS ATIVIDADES.

PEDIMOS QUE PROCUREM AJUDÁ-LAS, SEMPRE QUE POSSÍVEL, NO MESMO HORÁRIO PARA CRIAR UMA ROTINA DE ESTUDOS COM A CRIANÇA.

AS ATIVIDADES DEVEM SER INICIADAS COM O CABEÇALHO E FEITAS DO CADERNO “DIARIAMENTE”.

PEDIMOS QUE REALIZEM AS ATIVIDADES COM CAPRICO E ATENÇÃO.

COM CARINHO, DESDE JÁ, AGRADECEMOS A COLABORAÇÃO.

JOSIANE E ISABELA



2ª FEIRA – 20/09/2021 – MATEMÁTICA / GEOGRAFIA

HORA DA HISTÓRIA: NÚMEROS ORDINAIS

POR REH SILVA - ACESE: <https://www.youtube.com/watch?v=RxfN5QFdkg>



DESAFIO: (NÚMEROS ORDINAIS, MESES E ESTAÇÕES DO ANO)

- OBSERVE O CALENDÁRIO DO ANO DE 2021, SIGA AS DICAS E DESCUBRA EM QUAIS MESES DO ANO ACONTECEM AS MUDANÇAS DE ESTAÇÃO DO ANO.

DICAS:

- * O ANO POSSUI DOZE MESES.
- * NO TERCEIRO (3º) MÊS DO ANO INICIOU O OUTONO.
- * NO SEXTO (6º) MÊS DO ANO INICIOU O INVERNO.
- * NO NONO (9º) MÊS DO ANO INICIARÁ A PRIMAVERA.
- * E O VERÃO INICIARÁ NO DÉCIMO SEGUNDO (12º) MÊS DO ANO.

OBS: NÃO SE ESQUEÇA DE ESCREVER EM SEU CADERNO O NOME DO MÊS E A ESTAÇÃO DO ANO.



VAMOS DESCONTRAIR? **JOGO ON LINE: NÚMEROS ORDINAIS**



<https://br.ixl.com/math/pr%C3%A9-escola/n%C3%BAmoros-ordinais> – em 16/09/21

3ª FEIRA – 21/09/2021 – CIÊNCIAS / LÍNGUA PORTUGUESA

HORA DA HISTÓRIA: A ÁRVORE GENEROSA

CANAL BISNAGAS KIDS - ACESSO: <https://www.youtube.com/watch?v=l3swWsXUCXs>



IMAGEM EXTRAÍDA DE: www.youtube.com. – ACESSO EM 16/09/2021.

- **DESAFIO DA ÁRVORE:** LOCALIZE E CIRCULE O NOME DE TODAS AS COISAS QUE A ÁRVORE NOS DÁ!

21 DE SETEMBRO DIA DA ÁRVORE



IMAGEM EXTRAÍDA DE: www.lereaprender.com.br – ACESSO EM 16/09/2021.

- NESTE DIA TÃO ESPECIAL, DESENHE UMA LINDA ÁRVORE EM SEU CADERNO E ESCREVA OS NOMES DAS PARTES DELA: RAIZ, CAULE OU TRONCO, FOLHA, FLOR E FRUTO.

4ª FEIRA – 22/09/2021 – LÍNGUA PORTUGUESA

HORA DA HISTÓRIA: A PRIMAVERA DA LAGARTA – RUTH ROCHA

O CANAL DA EAPE - ACESSE: <https://www.youtube.com/watch?v=VCDfPzUtE-Q>



IMAGEM EXTRAÍDA DE: www.youtube.com.br – ACESSO EM 16/09/2021

- HOJE COMEÇA A **“PRIMAVERA”**, A ESTAÇÃO DAS FLORES. PEÇA AJUDA A UM ADULTO PARA LER ESTE LINDO POEMA:

LEILÃO DE JARDIM

CECÍLIA MEIRELES

QUEM ME COMPRA UM JARDIM COM FLORES?
BORBOLETAS DE MUITAS CORES,...
LAVADEIRAS E PASSARINHOS,
OVOS VERDES E AZUIS NOS NINHOS?

QUEM ME COMPRA ESTE CARACOL?
QUEM ME COMPRA UM RAIOS DE SOL?
UM LAGARTO ENTRE O MURO E A HERA,
UMA ESTÁTUA DA PRIMAVERA?

QUEM ME COMPRA ESTE FORMIGUEIRO?
E ESTE SAPO, QUE É JARDINEIRO?
A CIGARRA E A SUA CANÇÃO?
E O GRILINHO DENTRO DO CHÃO?
(ESTE É O MEU LEILÃO).



IMAGEM EXTRAÍDA DE: www.educacaoetransformacao.com.br - ACESSO EM 16/09/2021

- NO POEMA ACIMA HÁ MUITAS PALAVRAS QUE RIMAM. ENCONTRE AS PALAVRAS QUE RIMAM NAS DUAS COLUNAS E ESCREVA-AS NO CADERNO, UMA AO LADO DA OUTRA.

EXEMPLO: FLORES – CORES

FLORES

JARDINEIRO

PASSARINHOS

PRIMAVERA

CARACOL

VIOLETA

HERA

CORES

FORMIGUEIRO

NINHOS

CANÇÃO

SOL

BORBOLETA

CHÃO



5ª FEIRA – 23/09/2021 – LÍNGUA PORTUGUESA

HORA DA HISTÓRIA: VÍDEO MÚSICAL - LETRA P

CRIANÇAS INTELIGENTES – ACESSO: <https://www.youtube.com/watch?v=Sy5Nix7RsMk>


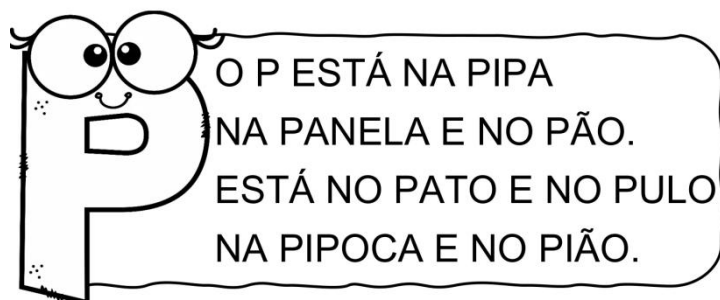


IMAGEM EXTRAÍDA DE: www.youtube.com. – ACESSO EM 17/09/2021.

E HOJE VAMOS EXPLORAR A LETRA **P** DO NOSSO ALFABETO. VAMOS LÁ?
LEIA O TEXTO E CIRCULE AS PALAVRAS INICIADAS COM A LETRA P.



1. CIRCULE A PALAVRA DE ACORDO COM O NOME DE CADA FIGURA.

LETRA P

	PAVIO PIANO PIPOCA		PARTE PORTA PORCO
	PACOTE PETECA PANELA		TIÃO LIMÃO PIÃO
	PENA PELE PEGA		POTE PIPA PATO
	PETECA PENA PENTE		PENA PEIXE FEIXE
	PIPOCA PIPA PIANO		CÃO MÃO PÃO

IMAGEM EXTRAÍDA DE: www.indagacao.com.br – ACESSO EM 17/09/2021.

6ª FEIRA – 24/09/2021 – MATEMÁTICA

HORA DA HISTÓRIA: QUEM SOLTOU O PUM?

FAFÁ CONTA: – ACESSO: <https://www.youtube.com/watch?v=hmqEqUXrdqg>



IMAGEM EXTRAÍDA DE: www.youtube.com – ACESSO EM 16/09/2021

- RESOLVA EM SEU CADERNO:

SITUAÇÃO PROBLEMA

MAGALI DESENHOU PARA SUA PROFESSORA 4 ABACAXIS E 3 MELANCIAS. QUANTAS FRUTAS ELA DESENHOU?

ROSINHA ENCONTROU UM NINHO COM 3 PASSARINHOS. CHEGARAM MAIS 6. QUANTOS PASSARINHOS TEM NO TOTAL?

NO SÍTIO DE CHICO BENTO TEM 5 GALINHAS E 3 VACAS. QUANTOS ANIMAIS ELE TEM AO TODO?

MAGALI PLANTOU PELA MANHÃ NO SEU JARDIM 6 FLORES E A TARDE MAIS 3. QUANTAS FLORES TEM NO JARDIM DELA?

IMAGEM EXTRAÍDA DE: www.danieducar.com.br – ACESSO EM 16/09/2021

- ESCREVA O NUMERAL DE ACORDO COM A REPRESENTAÇÃO DO MATERIAL DOURADO:

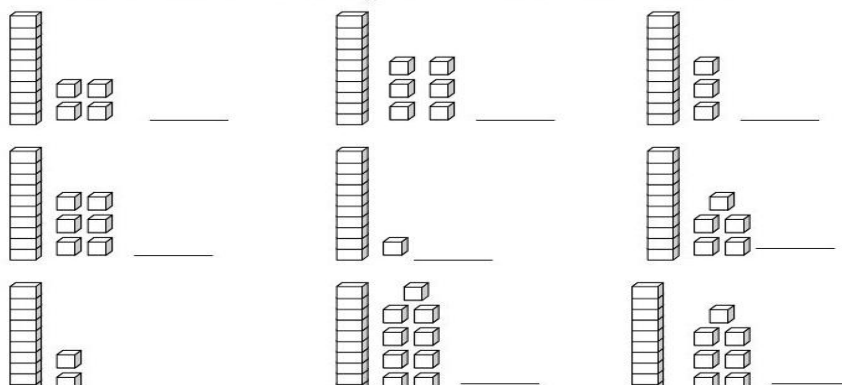


IMAGEM EXTRAÍDA DE: www.atividadespedagogicas.net – ACESSO EM 16/09/2021



ATIVIDADES PARA A SEMANA DE 27 DE SETEMBRO A 01 DE OUTUBRO

EMEIEF JARDIM SANTA ESMERALDA

PROFESSORAS: JOSIANE e ISABELA

ANO/TURMA: 1º ANO A e B

DIA DA SEMANA	ROTINA DIÁRIA - DESCRIÇÃO DAS ATIVIDADES
SEGUNDA-FEIRA 27/09/2021	<p>LEITURA DIÁRIA: A HISTÓRIA DA LETRA Q ACESSAR LINK : https://youtu.be/Kguhnescmis</p> <p>ATIVIDADE: IDENTIFICAR E CIRCULAR OS OBJETOS COM Q, COMPLETAR AS PALAVRAS. (LÍNGUA PORTUGUESA)</p> <p>AULA DE INGLÊS: ACESSAR O <u>BLOG</u> PARA VERIFICAR AS ATIVIDADES. (1º ANO A e B)</p>
TERÇA-FEIRA 28/09/2021	<p>LEITURA DIÁRIA: NÚMEROS DO NOSSO DIA A DIA. ACESSAR O LINK: https://youtu.be/RlF9cDqSjrk</p> <p>ATIVIDADE: IDENTIFICAR OS NÚMEROS E COMPARAR QUANTIDADES. (MATEMÁTICA)</p>
QUARTA-FEIRA 29/09/2021	<p>LEITURA DIÁRIA: QUEM SOU EU? E A MÚSICA DO MAPA ACESSAR O LINK: https://youtu.be/FeVdzCncAf8 E https://youtu.be/9GG_MCbwwCk</p> <p>ATIVIDADE: OBSERVAR O MAPA DE PLANTA BAIXA E RESPONDER AS QUESTÕES. (GEOGRAFIA)</p> <p>EDUCAÇÃO FÍSICA: ACESSAR O <u>BLOG/ WHATSAPP</u> PARA VERIFICAR AS ATIVIDADES. (1º ANO A e B)</p>
QUINTA-FEIRA 30/09/2021	<p>LEITURA DIÁRIA: PROFISSIONAIS QUE TRABALHAM NA ESCOLA ACESSAR LINK: https://youtu.be/DjVi5Eg6dMk</p> <p>ATIVIDADE: LIGUE OS PROFISSIONAIS À SUA FUNÇÃO.(HISTÓRIA)</p> <p>AULA DE ARTE: ACESSAR O <u>BLOG/ WHATSAPP</u> PARA VERIFICAR AS ATIVIDADES. (1º ANO B).</p>
SEXTA-FEIRA 01/10/2021	<p>LEITURA DIÁRIA: CONSUMO CONSCIENTE ACESSAR LINK: https://youtu.be/h-SJQalRANG</p> <p>ATIVIDADE: ASSINALAR AS CENAS CORRETAS E IDENTIFICAR O QUE PODE SER RECICLADO DE ACORDO COM AS LIXEIRAS. (CIÊNCIAS)</p> <p>AULA DE ARTE: ACESSAR O <u>BLOG/ WHATSAPP</u> PARA VERIFICAR AS ATIVIDADES. (1º ANO A).</p>

E.M.E.I.E.F. “JARDIM SANTA ESMERALDA”



IMAGENS EXTRAÍDA DE: GALERIA.COLORIR.COM – ACESSO EM: 18/09/2021

ATIVIDADE DOMICILIAR – SEMANA DE 27 DE SETEMBRO A 01 DE OUTUBRO

PROFESSORAS: JOSIANE e ISABELA

1º ANO A e B

SENHORES PAIS

AS ATIVIDADES NESTE CANAL SÃO POSTADAS QUINZENALMENTE.

AS CRIANÇAS DO 1º ANO ESTÃO EM PROCESSO DE CONSTRUÇÃO DE ESCRITA E PRECISAM DE AUXÍLIO E ORIENTAÇÃO PARA REALIZAR AS ATIVIDADES.

PEDIMOS QUE PROCUREM AJUDÁ-LAS, SEMPRE QUE POSSÍVEL, NO MESMO HORÁRIO PARA CRIAR UMA ROTINA DE ESTUDOS COM A CRIANÇA.

AS ATIVIDADES DEVEM SER INICIADAS COM O CABEÇALHO E FEITAS DO CADERNO “DIARIAMENTE”.

PEDIMOS QUE REALIZEM AS ATIVIDADES COM CAPRICO E ATENÇÃO.

COM CARINHO, DESDE JÁ, AGRADECEMOS A COLABORAÇÃO.

JOSIANE E ISABELA



2ª FEIRA – 27/09/2021 – PORTUGUÊS

HORA DA HISTÓRIA: A HISTÓRIA DA LETRA Q

ACESSE: <https://youtu.be/Kguhnescmis>



IMAGEM DE RETIRADA DE YOUTUBE.COM/ACESSO EM 17/09/2021

AGORA QUE JÁ CONHECEU MELHOR A LETRA Q, REGISTRE O QUE SE PEDE ABAIXO.







LETRA INICIAL

PINTE AS FIGURAS QUE COMEÇAM COM A LETRA INDICADA NA PÁGINA E ESCREVA SEUS NOMES NAS LINHAS.





COMPLETE OS QUADRINHOS COM AS SILABAS QUA, QUE, QUI. DEPOIS, ESCREVA A PALAVRA AO LADO.

TAN			
BI	NI		
LE			
	A	BO	
	TRO		
A		RIO	



De olho na Consoante Q

**NO QUADRO LÁ DA ESCOLA
 MINHA PRÓ ESCREVE ASSIM
 AMO MUITO CADA UM
 VOCÊS SÃO TUDO PRA MIM.**

GI BARBOSA



Q q

Q q



1. AS CONSOANTES ESCAPARAM DAS PALAVRAS. ENCONTRE-AS E COMPLETE.



_____ UEIJO



LE _____ UE



_____ UADRADO

2. RECORTE E COLE 3 PALAVRAS ONDE APARECE A CONSOANTE Q.

3ª FEIRA – 28/09/2021 – MATEMÁTICA

HORA DA HISTÓRIA: NÚMEROS NO NOSSO DIA A DIA.

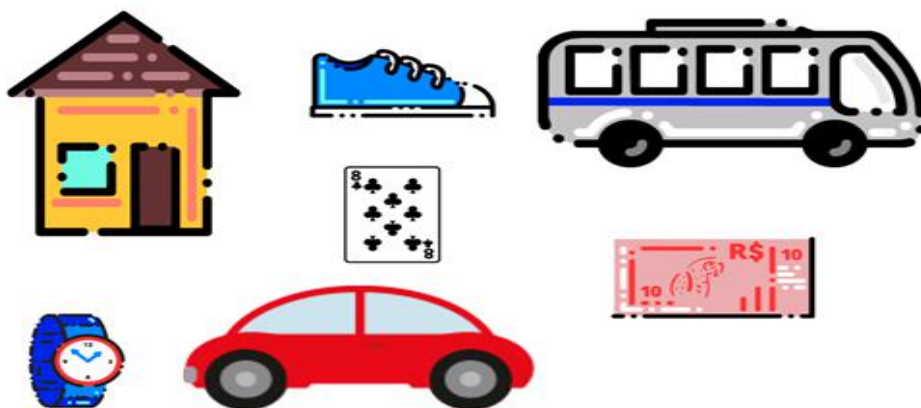
ACESSE: <https://youtu.be/RIF9cDqSjrk>

IMAGEM RETIRADA DE YOUTUBE.COM/ACESSO EM 17/09/2021



AGORA É COM VOCÊ!!!!

ASSINALE AS FIGURAS QUE USAM NÚMEROS COM A FUNÇÃO DE IDENTIFICAR OU CODIFICAR.



CHEGOU A HORA DE ESTIMAR. VAMOS LÁ?

JOÃO COLECIONA CARRINHOS, MARIA COLECIONA BONECAS E JUCA COLECIONA MOEDAS. RESPONDA:

- 1- QUEM TEM A MAIOR COLEÇÃO? _____
- 2- QUEM TEM A MENOR COLEÇÃO? _____
- 3- DE QUANTOS CARRINHOS JOÃO PRECISA PARA QUE SUA COLEÇÃO TENHA A MESMA QUANTIDADE DA COLEÇÃO DE JUCA? _____



TOTAL: _____



TOTAL: _____



TOTAL: _____

IMAGEM RETIRADA DE ESCOLAEDUCAÇÃO.COM.BR/ACESSO EM 17/09/2021

4ª FEIRA – 29/09/2021 – GEOGRAFIA

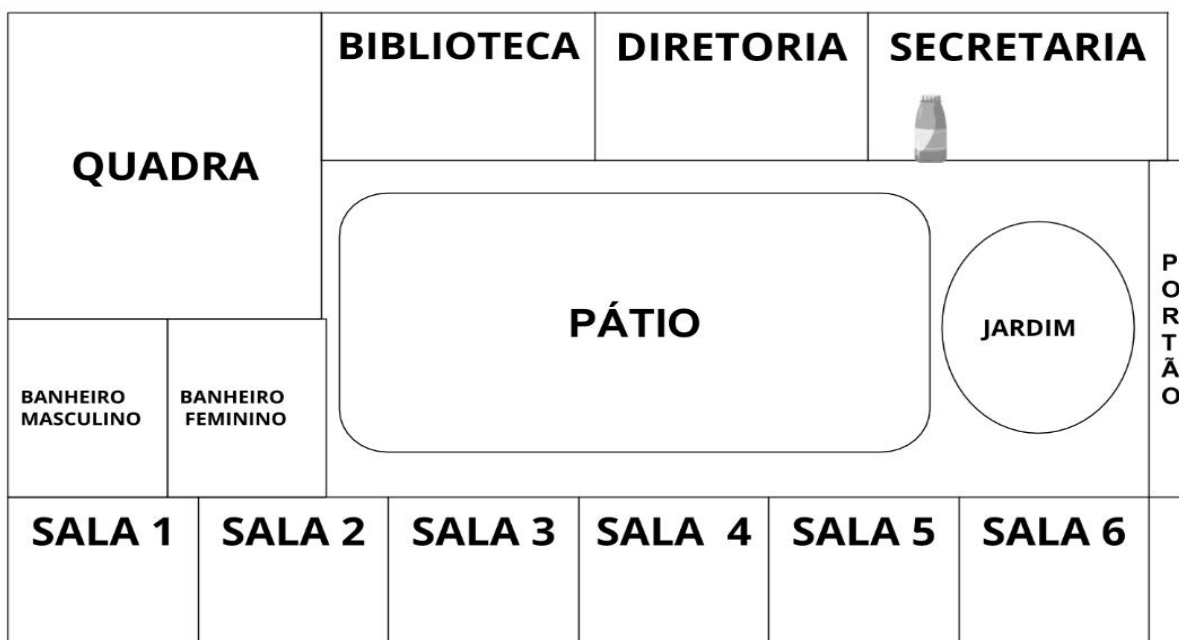
HORA DA HISTÓRIA: QUEM EU SOU? E A MÚSICA DO MAPA

ACESSE: <https://youtu.be/FeVdzCncAf8> E https://youtu.be/9GG_MCbwwCk



IMAGEM RETIRADA DE YOUTUBE.COM/ACESSO EM 17/09/2021

OBSERVE ESSA REPRESENTAÇÃO DA ESCOLA DE FERNANDA



PROBLEMATIZANDO:

- A) QUANTOS ESPAÇOS DIFERENTES HÁ NESTA ESCOLA? _____
- B) HÁ QUANTAS SALAS DE AULA? _____
- C) O JARDIM ESTÁ REPRESENTADO POR QUAL FORMA GEOMÉTRICA?


- D) E A QUADRA DA ESCOLA, QUAL FOI A FORMA GEOMÉTRICA UTILIZADA PARA SUA REPRESENTAÇÃO? _____

E) ESSA ESCOLA SE PARECE COM A SUA? POR QUÊ? _____

F) FERNANDA, PERDEU SUA GARRAFINHA DE ÁGUA, EM QUAL LOCAL DA ESCOLA ELA ESTÁ? _____

G) DIGA VERBALMENTE COMO FERNANDA, QUE ESTÁ NA SALA 01 DEVE FAZER PARA CHEGAR À SECRETARIA E PEGAR SUA GARRAFINHA. (AS CRIANÇAS QUE ESTÃO REMOTO EM CASA NESTA QUESTÃO DEVERÁ GRAVAR UM ÁUDIO E ENVIAR A PROFESSORA ATRAVÉS DO GRUPO DE WHATSAPP).

H) AGORA NO ESPAÇO ABAIXO DESENHE UM LOCAL DE SUA ESCOLA



5ª FEIRA – 30/09/2021 – HISTÓRIA

HORA DA HISTÓRIA: PROFISSIONAIS QUE TRABALHAM EM UMA ESCOLA.

ACESE: <https://youtu.be/DjVi5Eg6dMk>



IMAGEM RETIRADA DE YOUTUBE.COM/ACESSO EM 18/09/2021

VOCÊ SABE QUAIS SÃO AS PROFISSÕES DAS PESSOAS QUE TRABALHAM NA SUA ESCOLA?

1. VOCÊ SABIA QUE ALÉM DO SEU PROFESSOR, TEM OUTRAS PESSOAS QUE TRABALHAM NA ESCOLA? LIGUE COM O DEDINHO A PROFISSÃO QUE REPRESENTA O DESENHO.



IMAGEM RETIRADA DE LIVESWORKSHEETS/ACESSO EM 18/09/2021

6ª FEIRA – 01/10/2021 – CIÊNCIAS

HORA DA HISTÓRIA: VÍDEO CONSUMO CONSCIENTE

ACESSE: <https://youtu.be/h-SJQalRAng>



IMAGEM RETIRADA DE SISTEMA CECRED/ACESSO EM 18/09/2021

CONSUMO CONSCIENTE – PRESERVANDO A NATUREZA

ATUALMENTE, A HUMANIDADE CONSUME MAIS RECURSO DO QUE DEVERIA CONSUMIR E A NATUREZA REPOR.

É PRECISO PENSAR NA MANEIRA QUE CONSUMIMOS PARA QUE OS RECURSOS NATURAIS NÃO SE ESGOTEM NO FUTURO. VEJA OS EXEMPLOS ABAIXO.

ECONOMIZAR ÁGUA

MESMO SENDO RECURSO RENOVÁVEL, CONSUMINDO DE FORMA EXCESSIVA ELA PODE SE ESGOTAR. ALGUNS HÁBITOS DO DIA A DIA PODEM CONTRIBUIR PARA QUE ESSE RECURSO NÃO SE ESGOTE, COMO POR EXEMPLO: TOMAR BANHO MAIS CURTO, FECHAR A TORNEIRA ENQUANTO SE ESCOVA OS DENTES ETC.

REDUZIR O CONSUMO

REDUZIR O CONSUMO CONTRIBUI PARA DIMINUIR A EXTRAÇÃO DE MATERIAIS DA NATUREZA AO MESMO TEMPO QUE REDUZ A QUANTIDADE DE LIXO PRODUZIDO.

RECICLAR O LIXO

ANTES DE JOGARMOS FORA O QUE NÃO NOS SERVE MAIS, DEVEMOS SEPARAR O QUE PODE SER RECICLADO OU REAPROVEITADO.

ATIVIDADE

MARQUE COM UM X O QUE PODE SER RECICLADO DE ACORDO COM A LIXEIRA AO LADO.

a)					
b)					
c)					
d)					

ASSINALE COM UM X AS CENAS QUE ESTÃO CORRETAS.



()



()



()



()



()