

ROTINA SEMANAL

SEMANA DE 26/07 À 30/07

SEGUNDA-FEIRA 26/07	TERÇA-FEIRA 27/07	QUARTA-FEIRA 28/07	QUINTA-FEIRA 29/07	SEXTA-FEIRA 30/07
<p>LEITURA DIÁRIA: LETRA Z</p> <p>https://www.youtube.com/watch?v=IXwRHNFGHdl&ab_channel=OsPequerruchos</p>	<p>LEITURA DIÁRIA: A LISTA DE DONA GIRAFA</p> <p>https://www.youtube.com/watch?v=amSylZqBHfc&t=6s&ab_channel=CanalProfiss%C3%A3oProfessorBlog</p>	<p>LEITURA DIÁRIA: PORQUE A RECICLAGEM É TÃO IMPORTANTE?</p> <p>https://www.youtube.com/watch?v=ZcymnW5NRYQ&ab_channel=Aula365-Brasil</p>	<p>LEITURA DIÁRIA: SÓLIDOS GEOMÉTRICOS</p> <p>https://www.youtube.com/watch?v=1fW7x2XazQc&ab_channel=Amagiadoaprender</p>	<p>LEITURA DIÁRIA: A ZEBRINHA PREOCUPADA</p> <p>https://www.youtube.com/watch?v=0xXqs9UmO5I&ab_channel=VaraldeHist%C3%B3rias</p>
<p><u>PORTUGUÊS</u></p> <p>COPIE DO POEMA “CIRANDA DO ALFABETO” AS PALAVRAS COM ZA, ZE, ZI, ZO, ZU E DEPOIS SEPRE EM SÍLABAS. DEPOIS FAÇAM AS ATIVIDADES DO LIVRO LER E ESCREVER NAS PÁGINAS 42 E 43.</p>	<p><u>MATEMÁTICA</u></p> <p>VAMOS ESCREVER OS NÚMEROS POR EXTENSO? DEPOIS ESCREVAM AS POSIÇÕES DAS CRIANÇAS NA FILA. POR ULTIMO CONTE OS LÁPIS DE LARISSA E VEJAM SE É POSSÍVEL DISTRIBUIR PARA CADA CRIANÇA.</p>	<p><u>GEOGRAFIA E CIÊNCIAS</u></p> <p>VAMOS FAZER AS ATIVIDADES DO LIVRO BURITI DE GEOGRAFIA NAS PÁGINAS 76, 77, 88 E 89.</p>	<p><u>MATEMÁTICA</u></p> <p>DESENHE OS OBJETOS ABAIXO E ESCREVA O SÓLIDO GEOMÉTRICO QUE CADA UM REPRESENTA. USE A LEGENDA PARA IDENTIFICÁ-LOS. DEPOIS FAÇAM AS ATIVIDADES DO LIVRO EMAI NAS PÁGINAS 26 E 27.</p>	<p><u>PORTUGUÊS E HISTÓRIA</u></p> <p>COMPLETE AS PALAVRAS COM ZA, ZE, ZI, ZO, ZU E DEPOIS ESCOLHA 5 PALAVRAS E FORME FRASES. FAÇAM AS ATIVIDADES DO LIVRO BURITI DE HISTÓRIA NAS PÁGINAS 62 E 63.</p>
<p>EDUCAÇÃO FÍSICA</p> <p>VAMOS NOS EXERCITAR! ACOMPANHE AS ATIVIDADES QUE PROFESSORA DE EDUCAÇÃO FÍSICA DEIXOU PRA VOCÊS NO BLOG! ACESSE O SITE: https://ensinofundamentalthortolandia.blogspot.com/search/label/EDUCA%C3%87%C3%83O%20F%C3%84SICA</p>	<p>INGLÊS</p> <p>HOJE É DIA DE APRENDER INGLÊS! VEJAM O QUE OS TEACHER DE INGLÊS PREPAROU PRA VOCÊS NO BLOG! ACESSE O SITE: https://ensinofundamentalthortolandia.blogspot.com/search/label/INGL%C3%A9s</p>	<p>ARTES</p> <p>HORA DE USAR A CRIATIVIDADE! VEJAM O QUE A PROFESSORA DE ARTES DEIXOU PRA VOCÊS NO BLOG! ACESSE O SITE: https://ensinofundamentalthortolandia.blogspot.com/search/label/Arte</p>		

LEITURA DIÁRIA: [LETRA Z \(CLIQUE AQUI\)](#)

VAMOS FAZER O CABEÇALHO NO CADERNO?

EMEIEF JOÃO CARLOS DO AMARAL SOARES.
 HORTOLÂNDIA, 26 DE JULHO DE 2021
 HOJE É SEGUNDA-FEIRA
 NOME COMPLETO _____

PORTUGUÊS

CIRANDA DO ALFABETO

O Z ESTÁ NA ZEBRA
 NO ZUMBIDO DO ZANGÃO
 NA ZELINHA E NO ZICO
 NO ZANGADO DO ZECÃO

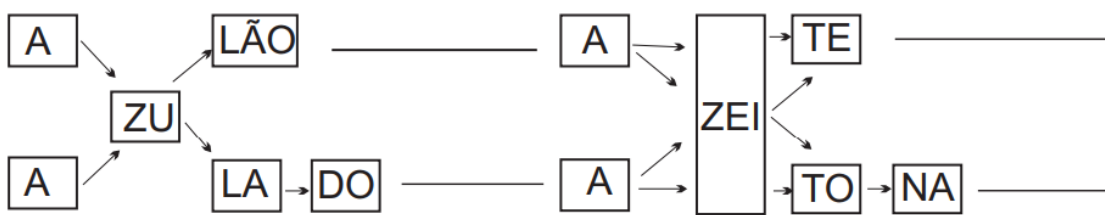
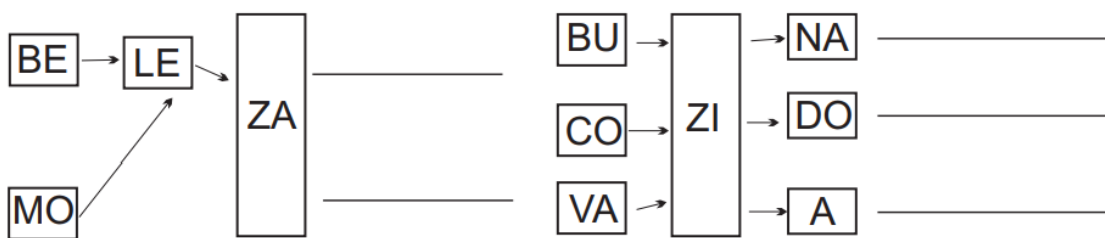


FONTE: [GAVETINHA DE ATIVIDADES](#)

1. COPIE DO TEXTO AS PALAVRAS QUE COMEÇAM COM Z E DEPOIS SEPRE AS PALAVRAS EM SÍLABAS:

ZA	ZE	ZI	ZO	ZU

2. FORME PALAVRAS SEGUINDO AS SETA:



AGORA QUE VOCÊS JÁ FIZERAM OS EXERCÍCIOS NO CADERNO, ABRAM O LIVRO LER E ESCRIVER NAS PÁGINAS 42, 43 E CIRCULEM OS INGREDIENTES USADOS NA FEIJOADA E NA MACARRONADA.

ATIVIDADE 6 – INGREDIENTES DE UMA FEIJOADA

O(A) PROFESSOR(A) VAI DITAR OS NOMES DOS INGREDIENTES QUE COMPÕEM UMA FEIJOADA. LOCALIZE-OS NA LISTA.

ARROZ
MACARRÃO
LINGUIÇA
LIMÃO
TOMATE
CEBOLA
FEIJÃO-PRETO
QUEIJO
COUVE
PÃO
FAROFA
BISTECA DE PORCO
COUVE-FLOR
CARNE-SECA
BATATA
SAL



Foto: IMESP 2019.

ATIVIDADE 7 – INGREDIENTES DE UMA MACARRONADA

O(A) PROFESSOR(A) VAI DITAR OS INGREDIENTES QUE COMPÕEM UMA MACARRONADA. LOCALIZE-OS NA LISTA:

FEIJÃO
BATATA
MACARRÃO
ALFACE
PÓ DE CAFÉ
CARNE
ABOBRINHA
BERINJELA
MOLHO DE TOMATE
ARROZ
SAL
PIMENTÃO



Foto: IMESP 2019.

TERÇA-FEIRA 27/07

LEITURA DIÁRIA: [A LISTA DE DONA GIRafa \(CLIQUE AQUI\)](#)

VAMOS FAZER O CABEÇALHO NO CADERNO?

EMEIEF JOÃO CARLOS DO AMARAL SOARES.
HORTOLÂNDIA, 27 DE JULHO DE 2021.
HOJE É TERÇA-FEIRA
NOME COMPLETO _____

MATEMÁTICA

1. VAMOS ESCREVER OS NÚMEROS POR EXTENSO?

1 = UM

2 = _____

3 = _____

4 = _____

5 = _____

6 = _____


7 = _____

8 = _____

9 = _____

10 = _____

2. JOÃO E SEUS AMIGOS SAÍRAM PARA IR AO CIRCO E COMBINARAM QUE A PESSOA QUE CHEGASSE PRIMEIRO COMPRARIA OS INGRESSOS NA BILHETERIA:



FONTE: [PINTEREST](#)

AGORA FAÇA AS RESPOSTAS NO SEU CADERNO:

- A) A CRIANÇA QUE CHEGOU PRIMEIRO FOI O _____
- B) ANA É A _____ CRIANÇA DA FILA.
- C) A ÚLTIMA CRIANÇA DA FILA É O _____
- D) DEPOIS DA BIA VEM O _____ ELE É O _____ DA FILA.
- E) QUEM CHEGOU DEPOIS DO PEDRO SERÁ O _____ DA FILA.
- F) QUAL A POSIÇÃO DE JÚLIA DA FILA? _____

3. AJUDE LARISSA A DISTRIBUIR OS LÁPIS PARA SEUS COLEGAS:



FONTE: [PINTEREST](#)

- A) QUANTOS SÃO OS LÁPIS? _____
- B) QUANTOS SÃO OS COLEGAS DE LARISSA? _____
- C) É POSSÍVEL DAR UM LÁPIS PARA CADA CRIANÇA? _____
- D) VÃO SOBRAR LÁPIS? QUANTOS? _____

LEITURA DIÁRIA: [PORQUE A RECICLAGEM É TÃO IMPORTANTE? \(CLIQUE AQUI\)](#)

VAMOS FAZER O CABEÇALHO NO CADERNO?

EMEIEF JOÃO CARLOS DO AMARAL SOARES.
HORTOLÂNDIA, 28 DE JULHO DE 2021.
HOJE É QUARTA-FEIRA
NOME COMPLETO _____

GEOGRAFIA E CIÊNCIAS

AGORA QUE JÁ FIZERAM O CABEÇALHO, ABRAM O LIVRO BURITI DE GEOGRAFIA NAS PÁGINAS 76, 77, 88 E 89 PARA REALIZAR AS ATIVIDADES.

NAS PÁGINAS 76 E 77 VOCÊS VÃO LER COM AJUDA DA FAMÍLIA A DESCRIÇÃO SOBRE OS PROFISSIONAIS QUE TRABALHAM NA ESCOLA E ESCREVER OS NOMES DAS PROFISSÕES DE CADA UM.

CAPÍTULO 2 O TRABALHO NA ESCOLA

VÁRIAS PESSOAS TRABALHAM NA ESCOLA. O TRABALHO DE CADA UMA DELAS É IMPORTANTE PARA QUE A ESCOLA FUNCIONE BEM. NA CENA A SEGUIR, SÃO APRESENTADOS ALGUNS PROFISSIONAIS REALIZANDO SUAS TAREFAS.

1 LEIA A DESCRIÇÃO DE ALGUNS PROFISSIONAIS. DEPOIS, ENCONTRE-OS NO DESENHO E ESCREVA O NOME DE CADA UM DELES.

MEU NOME É SÍLVIO. SOU PROFESSOR DO PRIMEIRO ANO. ENSINO OS ALUNOS A LER, A ESCREVER E A CONTAR.

EU ME CHAMO BRUNA E SOU BIBLIOTECÁRIA. AJUDO AS PESSOAS A ENCONTRAR OS LIVROS E ORGANIZO A BIBLIOTECA.

SOU LUAN, O SECRETÁRIO DA ESCOLA. EU CUIDO DOS DOCUMENTOS ESCOLARES.

MEU NOME É IVANA. SOU DIRETORA E RESPONSÁVEL PELO FUNCIONAMENTO DA ESCOLA.

SOMOS KARINA E TIAGO. NÓS CUIDAMOS DOS ALUNOS DURANTE O RECREIO E NA HORA DA ENTRADA E DA SAÍDA. SOMOS INSPETORES.

MEU NOME É JÚLIO. SOU FAXINEIRO E CUIDO DA LIMPEZA DOS AMBIENTES DA ESCOLA.

76

77

NA PÁGINA 88 VOCÊS VÃO CIRCULAR A LIXEIRA NA QUAL O DESCARTE DE MATERIAL RECICLÁVEL INCORRETO E LIGAR OS OBJETOS COM SUAS LIXEIRAS. E NA PÁGINA 89 VOCÊS VÃO TRAÇAR DE AZUL O CAMINHO DE DANIEL ATÉ A ESCOLA E DEPOIS ASSINALAR OS COMÉRCIOS POR ONDE ELE E MEIRE PASSARAM.

3 CIRCULE A LIXEIRA NA QUAL O DESCARTE DE MATERIAL RECICLÁVEL FOI FEITO DE FORMA INCORRETA.

1  2  3  4 

4 O QUE ESTÁ ERRADO?


4 LIGUE OS OBJETOS QUE PODEM SER RECICLADOS ÀS LIXEIRAS CORRETAS.

88

5 TRACE DE AZUL O CAMINHO DE DANIEL ATÉ A ESCOLA.



6 POR ONDE DANIEL PASSA ATÉ CHEGAR À ESCOLA?

FARMÁCIA SORVETERIA BANCO MERCADO

6 TRACE DE VERDE O CAMINHO DE MEIRE ATÉ A ESCOLA.

6 POR ONDE MEIRE PASSA ATÉ CHEGAR À ESCOLA?

FARMÁCIA BANCO MERCADO SORVETERIA

89

QUINTA-FEIRA 29/07

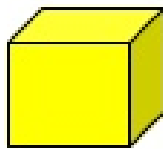
LEITURA DIÁRIA: [SÓLIDOS GEOMÉTRICOS \(CLIQUE AQUI\)](#)

VAMOS FAZER O CABEÇALHO NO CADERNO?


EMEIEF JOÃO CARLOS DO AMARAL SOARES.
HORTOLÂNDIA, 29 DE JULHO DE 2021.
HOJE É QUINTA-FEIRA
NOME COMPLETO _____

MATEMÁTICA


DESENHE OS OBJETOS ABAIXO E ESCREVA O SÓLIDO GEOMÉTRICO QUE CADA UM REPRESENTA. USE A LEGENDA PARA IDENTIFICÁ-LOS:




CUBO



CILINDRO



ESFERA



CONE

FONTE: [PINTEREST](#)










FONTE: [LIVEWORKSHEETS](#)

AGORA QUE JÁ REALIZARAM AS ATIVIDADES NO CADERNO, ABRAM O LIVRO EMAI NAS PÁGINAS 26 E 27 E REALIZEM AS ATIVIDADES SOBRE AS POSIÇÕES DAS CRIANÇAS NA FILA E OS MESES DO ANO.

ATIVIDADE 4.2



ARTE: IMESP

OBSERVE AS CRIANÇAS QUE ESTÃO NA FILA E RESPONDA ÀS QUESTÕES:

1. QUEM É A PRIMEIRA CRIANÇA DA FILA?

2. QUEM É A QUARTA CRIANÇA DA FILA?

3. QUEM É A SÉTIMA CRIANÇA DA FILA?

4. MATEUS É A TERCEIRA CRIANÇA DA FILA, E PAULO ESTÁ NA SUA FRENTE. QUAL É A POSIÇÃO DE PAULO NA FILA?

5. QUANTAS CRIANÇAS ESTÃO NESSA FILA?

ATIVIDADE 4.3

1. VOCÊ JÁ OBSERVOU QUE OS MESES DO ANO SE SUCEDEM EM UMA ORDEM. VAMOS NUMERÁ-LOS?

JANEIRO	1
FEVEREIRO	
MARÇO	
ABRIL	
MAIO	
JUNHO	
JULHO	
AGOSTO	
SETEMBRO	
OUTUBRO	
NOVEMBRO	
DEZEMBRO	

2. QUANTOS SÃO OS MESES DO ANO?

3. QUAL É O PRIMEIRO MÊS DO ANO?

4. E O TERCEIRO?

5. E O QUINTO?

6. E O SÉTIMO?

7. E O DÉCIMO SEGUNDO?

SEXTA-FEIRA 30/07

LEITURA DIÁRIA: [A ZEBRINHA PREOCUPADA \(CLIQUE AQUI\)](#)

VAMOS FAZER O CABEÇALHO NO CADERNO?

EMEIEF JOÃO CARLOS DO AMARAL SOARES.
HORTOLÂNDIA, 30 DE JULHO DE 2021.
HOJE É SEXTA-FEIRA
NOME COMPLETO _____

PORTUGUÊS

A ZEBRA ZAZÁ

ZAZÁ É A ZEBRINHA
QUE MORA NO ZOOLOGICO.
ELA É TODA LISTRADINHA.
SE É BONITA? É LÓGICO!

ELA NÃO É BRAVA.
O ZICO É O ZELADOR,
QUE CUIDA DA ZAZÁ,
COM CARINHO E AMOR.



FONTE: [PINTEREST](#)

1. COMPLETE AS PALAVRAS COM ZA, ZE, ZI, ZO, ZU:

____ BU A ____ DO BU ____ NA A ____ LEJO ____ CO	MOLE ____ A ____ ITONA DE ____ NOVE GO ____ DO ____ CA	AMI ____ DE A ____ ITE DÚ ____ A ALA ____ BO ____	A ____ LÉA BALI ____ BATI ____ DO DE ____ NA ____ ZÉ
--	--	---	--

2. ESCOLHA CINCO PALAVRAS DO QUADRO ACIMA E FORME FRASES:

<input type="text"/>	_____
<input type="text"/>	_____
<input type="text"/>	_____
<input type="text"/>	_____
<input type="text"/>	_____

ABRAM O LIVRO BURITI DE HISTÓRIA NAS PÁGINAS 62 E 63 “UM LUGAR PARA APRENDER”, OBSERVEM AS ILUSTRAÇÕES E ENUMERE AS FRASES DE ACORDO COM O NOME DE CADA ESPAÇO DA ESCOLA. DEPOIS ESCREVAM 3 ESPAÇOS PREFERIDOS DA NOSSA ESCOLA E RESPONDAM SE OS ESPAÇOS DA ESCOLA SÃO IGUAIS A DE UMA MORADIA.

1 UM LUGAR DE APRENDER

A ESCOLA É UM LUGAR DE APRENDER E DE CONVIVER. AS ESCOLAS SÃO ORGANIZADAS EM DIFERENTES ESPAÇOS. CADA UM DELES TEM UMA FUNÇÃO ESPECIAL, MAS TODOS TÊM ALGO EM COMUM: SÃO ESPAÇOS PARA CONVIVER, APRENDER E DESENVOLVER-SE.

OBSERVE A ILUSTRAÇÃO NAS PÁGINAS 62 E 63.



- 1 DEPOIS DE OBSERVAR A IMAGEM DAS PÁGINAS 62 E 63, MARQUE O NÚMERO DE ACORDO COM A DESCRIÇÃO.
 - LOCAL EM QUE HÁ CARTEIRAS, CADEIRAS E LOUSA.
 - NESSE ESPAÇO, HÁ LIVROS, REVISTAS, JORNAIS E FILMES PARA PESQUISA E LAZER.
 - NELE SÃO REALIZADOS EXPERIMENTOS DE CIÊNCIAS.
 - NESSE LOCAL PODE-SE REUNIR COM OS COLEGAS PARA BRINCAR OU PARA LANCAR.
 - ESPAÇO PARA A PRÁTICA DE ESPORTES E RECREAÇÃO.

2 ESCREVA A SEGUIR OS SEUS TRÊS ESPAÇOS PREFERIDOS EM SUA ESCOLA.

- _____
- _____
- _____

3 OS ESPAÇOS DA ESCOLA SÃO PARECIDOS COM OS ESPAÇOS DE UMA MORADIA? POR QUÊ?



REFERÊNCIAS

- SÃO PAULO. Centro de Educação Infantil e Anos Iniciais do Ensino Fundamental. **Currículo em Ação: Emai - educação matemática nos anos iniciais do ensino fundamental**. São Paulo: Imprensa Oficial do Estado S/A – Imesp, 2021. 175 p.
- SÃO PAULO. Centro de Educação Infantil e Anos Iniciais do Ensino Fundamental. **Currículo em Ação: ler e escrever & sociedade e natureza**. São Paulo: Imprensa Oficial do Estado S/A – Imesp, 2021. 143 p.
- SÃO PAULO. EDITORA MODERNA. **BURITI MAIS HISTÓRIA**. São Paulo: Moderna, 2017. 128 p
- SÃO PAULO. EDITORA MODERNA. **BURITI MAIS GEOGRAFIA**. São Paulo: Moderna, 2017. 112 p
- LETRA Z - LETRAS. Os Pequerruchos Almanaque. Os Pequerruchos. Disponível em: https://www.youtube.com/watch?v=IXwRHNFghDI&ab_channel=OsPequerruchos . Acesso em: 29/06/2021.
- A LISTA DE DONA GIRAFÁ - NÚMEROS. Canal profissão professor Blog. Disponível em: https://www.youtube.com/watch?v=amSylZgBHfc&t=6s&ab_channel=CanalProfiss%C3%A3oProfessorBlog . Acesso em: 01/07/2021.
- PORQUE A RECICLAGEM É TÃO IMPORTANTE? VÍDEOS EDUCATIVOS PARA CRIANÇAS. Canal: Aula 365 BRASIL. Disponível em: https://www.youtube.com/watch?v=ZcymnW5NRYQ&ab_channel=Aula365-Brasil. Acesso em: 01/07/2021.
- SÓLIDOS GEOMÉTRICOS – FORMAS GEOMÉTRICAS ESPACIAIS – GEOMETRIA ESPACIAL. Canal: A magia do aprender. Disponível em: https://www.youtube.com/watch?v=1fW7x2XazQc&ab_channel=Amagiadoaprender Acesso em: 01/07/2021
- A ZEBRINHA PREOCUPADA. Canal: Varal de Histórias. Disponível em: https://www.youtube.com/watch?v=0xXqs9UmO5I&ab_channel=VaraldeHist%C3%B3rias . Acesso em: 01/07/2021.