

## QUADRO DE ROTINA DIÁRIA

	<b>EMEIEF LUIZA VITÓRIA OLIVEIRA CRUZ</b> <b>2º ANO A – PROFESSORA: HELEN</b>
Dia da semana	<b>Rotina diária: Descrição de atividades</b> <b>23/08/2021 a 27/08/2021</b>
<b>Segunda-feira</b>  <b>Data:</b> <b>23/08/2021</b>	Cabeçalho completo. <b>Interdisciplinar:</b> Breve explicação sobre o folclore; Ilustração dia do folclore; Vídeo Por que existe folclore? <a href="https://www.youtube.com/watch?v=WTyd-MlCmcc">https://www.youtube.com/watch?v=WTyd-MlCmcc</a> Data de acesso 10/08/2021 Assistir ao vídeo da história " <b>Kabá Darebu</b> "- Daniel Munduruk, e conhecer um pouco sobre o modo de vida de um grupo indígena. Disponível em <a href="https://www.youtube.com/watch?v=d1mvrp571k">https://www.youtube.com/watch?v=d1mvrp571k</a> Data de acesso 10/08/2021; Questões de compreensão da história. <b>Educação Física:</b> Profª Sueley: Acessar as atividades propostas pela professora.
<b>Terça-feira</b>  <b>Data:</b> <b>24/08/2021</b>	Cabeçalho simples. <b>Interdisciplinar:</b> Parlenda "Hoje é domingo..." Vídeo <a href="https://www.youtube.com/watch?v=AUbY_Xuu2Rk">https://www.youtube.com/watch?v=AUbY_Xuu2Rk</a> Data de acesso 10/08/2021; Letra da parlenda, questões sobre a parlenda cantada no vídeo e a letra lida. Encontrar na parlenda as palavras que rimam com as solicitadas. Completar as palavras com M ou N observando a regra; reescrever a parlenda completando com as palavras faltantes. <b>Arte:</b> Profª Maria José: Acessar as atividades propostas pela professora.
<b>Quarta-feira</b>  <b>Data:</b> <b>25/08/2021</b>	Cabeçalho simples. <b>Interdisciplinar:</b> Escrever a parlenda "Lá em cima do piano" na ordem correta; escrever o nome da parlenda favorita e fazer uma ilustração. Leitura da parlenda "Dedo mindinho", desenhar a mão e nomear cada dedo de acordo com a parlenda. <b>Educação Física:</b> Profª Sueley: Acessar as atividades propostas pela professora.
<b>Quinta-feira</b>  <b>Data:</b> <b>26/08/2021</b>	Cabeçalho simples. <b>Interdisciplinar:</b> Vídeo <b>Trava-língua folclore brasileiro</b> , acesse o link <a href="https://www.youtube.com/watch?v=s80MBN6GJRw">https://www.youtube.com/watch?v=s80MBN6GJRw</a> Data de acesso 10/08/2021; Leitura de trava-línguas, pesquisa com a família sobre outros trava-línguas. Livro EMAI – Currículo em ação – páginas 62 e 63. <b>Inglês:</b> Profª Sarita: Acessar as atividades propostas pela professora.
<b>Sexta-feira</b>  <b>Data:</b> <b>27/08/2021</b>	Cabeçalho simples <b>Interdisciplinar:</b> Ler as adivinhas e escrever a resposta correta (ou pintar a palavra na versão impressa). Ler as adivinhas tentar descobrir e escrever a resposta. Compartilhar com a família as adivinhas aprendidas e perguntar se eles conhecem outras. Brincadeiras amarelinha e jogo da força.
<b>Observação:</b> As atividades dos livros devem ser respondidas no próprio livro e após finalização enviar os registros (fotos) para a professora.	



# EMEIEF "LUIZA VITORIA OLIVEIRA CRUZ"



2º ANO A

**SEMANA DE 23/08/2021 a 27/08/2021**

TURMA: 2º ANO A

PROFESSORA: HELEN GOMES

**SEGUNDA-FEIRA: 23/08/2021**

1- No seu caderno escreva o nome da escola, seu nome, nome da professora e a data:

EMEIEF Luiza Vitória Oliveira Cruz

Nome: \_\_\_\_\_

Professora: Helen

Data: Hortolândia, 23 de agosto de 2021.

## O FOLCLORE

Folclore é o que entendemos como as formas pelas quais a cultura popular manifesta-se e que são parte da **identidade cultural de um povo**. As representações folclóricas podem ser manifestadas por meio de **ações individuais e coletivas** e são formadas por **costumes e tradições que são transmitidos de geração em geração**.



O folclore representa apenas a cultura popular. O folclore manifesta-se por **mitos, canções, ritmos, danças, festas, crendices, brincadeiras** etc. São uma parte importante da cultura de um povo e por isso devem ser preservados.

O estudo do folclore mantém a tradição de um povo viva. Falar sobre a cultura e história é obter conhecimento sobre as origens de um povo, construir base para a identidade e respeito as diversas manifestações culturais e pessoais. A internalização da cultura traz respeito, segurança, confiança, consciência da amplitude das bagagens culturais e empatia com outros povos, espaços e religiões.


No Brasil, o Dia do Folclore é celebrado em **22 de agosto!**

**Adaptado de** <https://escolakids.uol.com.br/datas-comemorativas/dia-do-folclore.htm> **Data de acesso 10/08/2021**

**2-** Depois de lermos um pouco sobre o folclore, faça um desenho bem caprichado com os personagens que você conhece, para comemarmos o dia do folclore! Não esqueça de enviar uma foto para a sua professora segurando o seu desenho!

**3-** Vamos assistir a um vídeo que nos fala um pouco sobre o que é o folclore: <https://www.youtube.com/watch?v=WTyd-MlCmcc> Data de acesso 10/08/2021

**4-** Todos os povos tem costumes e tradições diferentes. Vamos assistir ao vídeo da história "**Kabá Darebu**"- Daniel Munduruk, e conhecer um pouco sobre o modo de vida de um grupo indígena. Disponível em [https://www.youtube.com/watch?v=\\_dlmvrp57lk](https://www.youtube.com/watch?v=_dlmvrp57lk) Data de acesso 10/08/2021.



**5-** Depois de assistir ao vídeo responda:

**A)** Brincadeiras dos meninos indígenas: \_\_\_\_\_

**B)** Brincadeiras dos meninos indígenas: \_\_\_\_\_

**C)** Alimentação indígena: \_\_\_\_\_

**D)** Atividades das mulheres indígenas: \_\_\_\_\_

**E)** Atividades dos homens indígenas: \_\_\_\_\_

**F)** Animais de estimação: \_\_\_\_\_

**G)** Como preparam-se para as festas: \_\_\_\_\_

**H)** O que fazem quando estão doentes: \_\_\_\_\_

**TERÇA-FEIRA: 24/08/2021**

1- No seu caderno escreva a data:

Data: Hortolândia, 24 de agosto de 2021.

2- As parlendas também fazem parte do folclore. Vamos assistir ao vídeo da parlenda “Hoje é domingo” pelo grupo Palavra cantada acesse o link [https://www.youtube.com/watch?v=AUbY\\_Xuu2Rk](https://www.youtube.com/watch?v=AUbY_Xuu2Rk) Data de acesso 10/08/2021

Vamos ler e cantar juntos:

HOJE É DOMINGO...

HOJE É DOMINGO PEDE CACHIMBO. 

 O CACHIMBO É DE BARRO BATE NO JARRO.

O JARRO É FINO BATE NO SINO. 

 O SINO É DE OURO BATE NO TOURO.

O TOURO É VALENTE BATE NA GENTE. 

 A GENTE É FRACO CAI NO BURACO.

O BURACO É FUNDO ACABOU-SE O MUNDO! 

(Domínio Popular)

Disponível em <http://diariodatiamari.blogspot.com/2019/08/parlenda-hoje-e-domingo-planejamento.html> data de acesso 10/08/2021

3- Agora responda:

A) Você já conhecia essa parlenda?

B) Você notou alguma diferença na parlenda assistida no vídeo e que nós lemos juntos? Qual?

4- Retire do texto as palavras que rimam com:

A) TOURO –

B) FUNDO –

C) BARRO –

D) FINO–

E) VALENTE –

F) BURACO -

5- Complete as palavras com **M** ou **N**:

A) VALE \_\_\_ TE

B) DOMI \_\_\_ GO

C) CACHI \_\_\_ BOM

D) GE \_\_\_ TE

E) PARLE \_\_\_ DA

F) MU \_\_\_ DO

G) LÂ \_\_\_ PADA

H) CA \_\_\_ TIGA



6- Agora reescreva a parlenda no caderno completando com as palavras que faltam:

**HOJE É DOMINGO...**

HOJE É \_\_\_\_\_

PEDE \_\_\_\_\_

O CACHIMBO É DE BARRO

BATE NO \_\_\_\_\_.

O JARRO É FINO

BATE NO \_\_\_\_\_.

O SINO É DE OURO

BATE NO \_\_\_\_\_.

O TOURO É \_\_\_\_\_

BATE NA \_\_\_\_\_.

A GENTE É FRACO

CAI NO \_\_\_\_\_.

O BURACO É \_\_\_\_\_.

ACABOU-SE O \_\_\_\_\_.

#### **QUARTA-FEIRA: 25/08/2021**

##### **1- No seu caderno escreva a data:**

Data: Hortolândia, 25 de agosto de 2021.

##### **2- A Parlenda “Lá em cima do piano” a seguir está fora de ordem, no caderno escreva-a na ordem correta:**

( )

O AZAR FOI SEU

( )

TINHA UM COPO  
DE VENENO

( )

LÁ EM CIMA DO PIANO

( )

QUEM BEBEU MORREU



3- Qual a sua parlenda favorita? Escreva o nome dela e faça uma ilustração bem caprichada!

4- Agora vamos ler outra parlenda:

**DEDO MINDINHO**

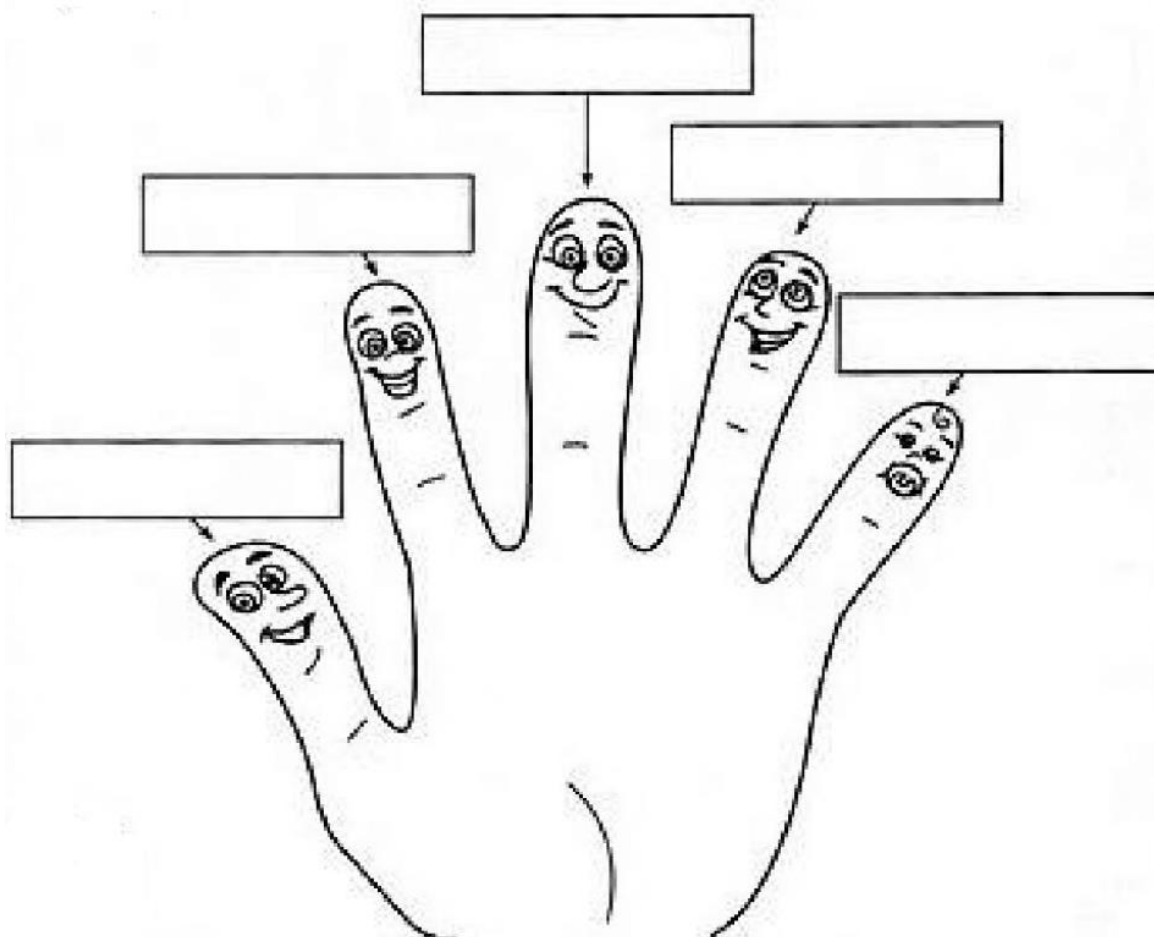
**SEU VIZINHO,**

**PAI DE TODOS**

**FURA-BOLO,**

**MATA PIOLHO.**

Agora desenhe uma mão e escreva o nome de cada dedo de acordo com a parlenda:



**QUINTA-FEIRA: 26/08/2021**

1- No seu caderno escreva a data:

Data: Hortolândia, 26 de agosto de 2021.

2- Hoje nós vamos brincar com trava-línguas, então prepare bem a língua para ler e falar todos o mais rápido possível.

Assista ao vídeo **Trava-língua folclore brasileiro**, acesse o link <https://www.youtube.com/watch?v=s80MBN6GJRw> Data de acesso 10/08/2021

3- Agora vamos ler alguns trava-línguas:

DEBAIXO DA CAMA TEM UMA JARRA.  
DENTRO DA JARRA TEM UMA ARANHA.  
TANTO A ARANHA ARRANHA A JARRA,  
COMO A JARRA ARRANHA A ARANHA.

O RATO ROEU A ROUPA  
DO REI DE ROMA.

TRÊS PRATOS DE TRIGO  
PARA TRÊS TIGRES TRISTES.

4- Você conhece outro trava-línguas? Pergunte para a sua família um novo trava-línguas e com ajuda deles escreva!

## MATEMÁTICA

Vamos usar nosso livro EMAI – Currículo em ação:

- ❖ Página 62 e 63: Ler e resolver as situações problema. O aluno pode usar os materiais manipuláveis produzidos anteriormente, desenhar, e/ou montar as operações para solução dos problemas.

### **SEXTA-FEIRA: 27/08/2021**

1- **No seu caderno escreva a data:**

Data: Hortolândia, 27 de agosto de 2021.

2- As adivinhas também fazem parte da cultura popular, vamos aprender e nos divertir descobrindo as charadas!

3- Leia as adivinhas e escreva a resposta correta para cada adivinha.



## O QUE É, O QUE É...

O QUE É QUE ENCHE A CASA, MAS NÃO ENCHE A MÃO?

BOTÃO

BATOM

BRINCO

TEM CABEÇA, TEM DENTE, TEM BARBA, NÃO É BICHO E NÃO É GENTE?

ABACAXI

ALHO

AMARELO

CAI EM PÉ E CORRE DEITADO?

CHAPÉU

CAMISETA

CHUVA

TEM CHAPÉU, MAS NÃO TEM CABEÇA,  
TEM BOCA, MAS NÃO FALA,  
TEM ASA, MAS NÃO VOA,  
TEM BICO, MAS NÃO BELISCA.

BALA

BULE

BICO

4- Leia as adivinhas, tente adivinhar as resposta e escreva.

## O QUE É, O QUE É...

1 – O QUE É QUE CORRE EM VOLTA DO PASTO INTEIRO SEM SE MEXER?

2 – O QUE É QUE NUNCA PASSA E SEMPRE ESTÁ NA FRENTE?

3 – O QUE É PRECISO PARA APAGAR UMA VELA?

4 – QUEM É TÃO FORTE QUE PODE PARAR UM AUTOMÓVEL COM UMA SÓ MÃO?

5 – O QUE É QUE QUANTO MAIS CRESCE, MAIS BAIXO FICA?

6 – O QUE É QUE TEM MAIS DE QUARENTA CABEÇAS E NÃO PODE PENSAR?

7 – POR QUE O GALO QUANDO CANTA FECHA OS OLHOS?

5- Converse com seus familiares e conte as adivinhas que você conheceu. Depois, peça que eles contem a você novas adivinhas.

6- As brincadeiras são parte da nossa cultura popular, e vocês conhecem várias, mas hoje nós vamos fazer algumas e nos divertir muito:


- **AMARELINHA:** Com a autorização da sua família você pode desenhar a amarelinha no quintal ou na calçada usando giz, lembre-se de colocar os números, e separa algo para jogar no número que não deve ser pulado. Caso você não possa riscar o chão, podemos fazer usando fita crepe fazendo os contornos e os números no chão, assim que terminar a brincadeira é só tirar a fita e limpar o local.



Disponível em: <https://www.facebook.com/Koretech/photos/> Data de acesso 10/08/2021

- **JOGO DA FORÇA:** Um dos jogadores escolhe uma palavra, em uma folha desenha uma forca e um traço para cada letra da palavra escolhida. O outro jogador deve adivinhar qual a palavra chutando uma letra de

cada vez, a cada letra errada desenha-se uma parte do corpo na forca, ganha quem acertar a palavra antes de ser “enforcado” (todo o corpo desenhado na forca).



Disponível em: <https://www.todamateria.com.br/brincadeiras-folcloricas/> Data de acesso 10/08/2021

**Tire uma foto ou faça um vídeo brincando e envie para sua professora, ela irá amar ver você se divertindo muito.**

## QUADRO DE ROTINA DIÁRIA

	<b>EMEIEF LUIZA VITÓRIA OLIVEIRA CRUZ</b> <b>2º ANO A – PROFESSORA: HELEN</b>
Dia da semana	<b>Rotina diária: Descrição de atividades</b> <b>31/08/2021 a 03/09/2021</b>
<b>Segunda-feira</b> <b>Data:</b> <b>30/08/2021</b>	Cabeçalho completo. <b>Interdisciplinar:</b> Leitura do texto “O Rato”, questões de compreensão e palavras que começam com a letra R. Livro EMAI – Currículo em ação – páginas 64 e 65. <b>Educação Física:</b> Profª Sueley: Acessar as atividades propostas pela professora.
<b>Terça-feira</b> <b>Data:</b> <b>31/08/2021</b>	Cabeçalho simples <b>Interdisciplinar:</b> Livro de Ápis Língua Portuguesa – página 83. <b>Vídeo</b> “Aprendendo a subtrair com os dinossauros”, disponível em <a href="https://www.youtube.com/watch?v=V0NVAh4Adxs">https://www.youtube.com/watch?v=V0NVAh4Adxs</a> Data de acesso 11/08/2021 Resolver as situações problema de subtração. <b>Arte:</b> Profª Maria José: Acessar as atividades propostas pela professora.
<b>Quarta-feira</b> <b>Data:</b> <b>01/09/2021</b>	Cabeçalho simples: <b>Interdisciplinar:</b> Livro de Ápis Língua Portuguesa – páginas 84 e 85. Completar o calendário do mês de setembro, e responder às perguntas. <b>Educação Física:</b> Profª Sueley: Acessar as atividades propostas pela professora.
<b>Quinta-feira</b> <b>Data:</b> <b>02/09/2021</b>	Cabeçalho simples <b>Interdisciplinar:</b> Livro de Ápis Língua Portuguesa – páginas 85 e 86. Completar o quadro de subtrações. <b>Inglês:</b> Profª Sarita: Acessar as atividades propostas pela professora.
<b>Sexta-feira</b> <b>03/09/2021</b>	Cabeçalho simples <b>Interdisciplinar:</b> Livro Buriti Mais História – páginas 22,23,24 e 25. Leitura “A lenda da Vitória-Régia” – arquivo enviado via WhatsApp.
<b>Observação:</b> As atividades dos livros devem ser respondidas no próprio livro e após finalização enviar os registros (fotos) para a professora.	



**EMEIEF “LUIZA VITORIA OLIVEIRA CRUZ”**

**2º ANO A**



**SEMANA DE 30/08/2021 a 03/09/2021**

**TURMA: 2º ANO A**

**PROFESSORA: HELEN GOMES**

**SEGUNDA-FEIRA: 30/08/2021**

**1- No seu caderno escreva o nome da escola, seu nome, nome da professora e a data:**

EMEIEF Luiza Vitória Oliveira Cruz

Nome: \_\_\_\_\_

Professora: Helen

Data: Hortolândia, 30 de agosto de 2021.

**2- Vamos ler o texto:**

O RATO

O RATO RINALDO MORA NA RUA DE DONA RUTE. ELE DORME NA REDE.

DONA RUTE VENDE RABANETES NA BARRACA.

UM DIA O RATO RINALDO ROEU OS RABANETES DE DONA RUTE.

DONA RUTE PEGOU O RODO E SAIU CORRENDO ATRÁS DO RATO.

O RATO FALOU:

\_ ÊTA, DONA RUTE ARRETADA!

ISABEL CRISTINA S. SOARES



3- Agora responda:

A) Qual o título do texto? \_\_\_\_\_

B) Quem são os personagens da história? \_\_\_\_\_

C) Quem escreveu essa história? \_\_\_\_\_

D) Escreva as palavras do texto que começam com a letra R:

---

---

---

**Vamos usar nosso livro EMAI – Currículo em ação:**

- ❖ **Página 64: Exercício 1:** João ganhou um aquário de presente. **A)** No aquário havia 26 peixes azuis e 12 amarelos. Qual é o total de peixes no aquário? (armar a operação  $26 + 12 =$ ). **B)** Dos 26 peixes azuis, 11 eram bem pequenos e os outros maiores. Quantos peixes azuis dos maiores João ganhou? ( $26 - 11 =$ )
- ❖ **Página 65: Exercício 1:** Responda às questões: **A)** Até que número você sabe contar? **B)** Você conhece os números escritos no quadro a seguir? **C)** Leia cada um deles. **D)** Qual é o maior número escrito nas cartelas abaixo? Circule-o. **E)** Esse número é maior ou menor que 200?

**TERÇA-FEIRA: 31/08/2021**

1- No seu caderno escreva a data:

Data: Hortolândia, 31 de agosto de 2021.

**Vamos usar nosso livro de PORTUGUÊS:**

- ❖ **Página 83: Palavras em jogo – Letra R. Exercício 1:** Leia as palavras do quadro. Depois, copie na rede somente os nomes de bichos iniciados com a letra **R**. **Exercício 2:** Circule as sílabas que iniciam as palavras que vocês escreveram na rede. **Exercício 3:** Leia as palavras em voz alta e observe o som da letra **R** em cada uma.



## MATEMÁTICA

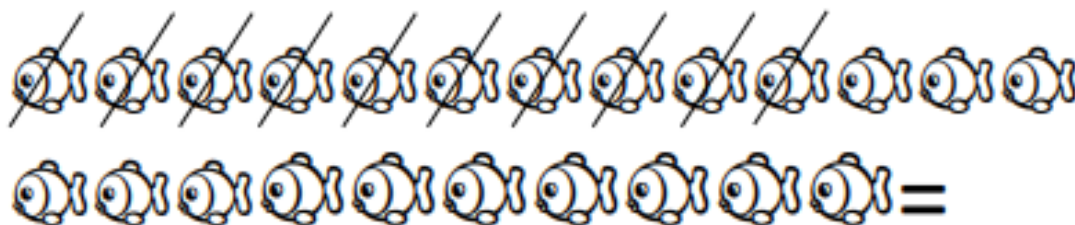
**Vamos assistir ao vídeo:** Aprendendo a subtrair com os dinossauros. Acesse o link <https://www.youtube.com/watch?v=V0NVAh4Adxs> Data de acesso 11/08/2021

**Agora, vamos resolver alguns problema de subtração, leia com bastante atenção e também observe as imagens:**

Em uma árvore havia 33 passarinhos e 12 voaram. Quantos passarinhos ficaram na árvore?



Em um aquário havia 23 peixes, maria deu 10 para sua vizinha. Quantos peixes ficaram no aquário?



Na savana havia 23 zebras, mas 7 foram correr. Quantas zebras ficaram perto do lago?



Dez elefantes estavam brincando na lama, 8 elefantes foram dormir. Quantos elefantes ficaram brincando?





**1- No seu caderno escreva a data:**

Data: Hortolândia, 01 de setembro de 2021.

**Vamos usar nosso livro de PORTUGUÊS:**

- ❖ **Página 84: Mesma letra, outro som: R ou RR. Exercício 1:** Leia em voz alta o par de palavras. Observe as partes destacadas nas palavras e faça **X** no quadrado com a resposta certa. **A)** O som das partes destacadas é semelhante ou diferente? **B)** A escrita é semelhante ou diferente?  
**Exercício 2:** Leia agora o outro par de palavras. Observe as partes destacadas nas palavras e marque **X** no quadrado com a resposta certa. Como é o som? Semelhante; Diferente, e o som representado pelo **RR** é o mais forte; Diferente, e o som representado pelo **R** é o mais forte.
- ❖ **Página 85: Exercício 3:** Leia o par de palavras. **A)** Forme outros pares completando as palavras. **B)** Leia os pares formados.

## MATEMÁTICA

Estamos começando o mês de setembro, o nono mês do ano, vamos completar o calendário.



**FERIADO:**

**07 DE  
SETEMBRO:**

INDEPENDÊNCIA  
DO BRASIL

DOM	SEG	TER	QUA	QUI	SEX	SAB
				02		
						18
	27					

Adaptado de:  
<http://pedagogasdapaz.blogspot.com/2018/02/calendario-permanente-turma-da->

Depois de completar o calendário responda:

- A- Quantos dias têm o mês de setembro?
- B- Em qual dia o mês começou?
- C- Quantas são as segundas-feiras?
- D- Há algum feriado no mês de setembro? Qual?
- E- Pinte o dia do feriado no calendário de verde e amarelo.

## QUINTA-FEIRA: 02/09/2021

### 1- No seu caderno escreva a data:

Data: Hortolândia, 02 de setembro de 2021.

### Vamos usar nosso livro de PORTUGUÊS:

- ❖ **Página 85: Exercício 4:** Leia as palavras do quadro em voz alta. **A)** Coloque as palavras nas caixas adequadas de acordo com o som do R. **B)** Pinte as letras R nas palavras que você escreveu e observe onde estão colocadas.
- ❖ **Página 86: C)** O que descobrimos sobre a letra R? Leia as informações e ligue os quadros corretamente. **Exercício 5:** Nas palavras abaixo está faltando R ou RR? Descubra as palavras. Depois, escreva cada uma com todas as letras. **Desafio:** Pesquise 4 palavras com R brando (fraco) ou R forte. **ATENÇÃO:** As palavras devem ser diferentes das já estudadas.

## MATEMÁTICA

### SUBTRAÇÃO



### TERMOS DA SUBTRAÇÃO

9	→	MINUENDO
- 5	→	SUBTRAENDO
4	→	RESTO OU DIFERENÇA

2- Observe o quadro e complete:

COMPROU	VENDEU	FICOU	CÁLCULO	
3	2	1	$3 - 2 = 1$	<del>Q</del> <del>Q</del> O
9	7			
7	4			
8	3			
4	2			
10	6			
9	3			

**SEXTA-FEIRA: 03/09/2021**

1- No seu caderno escreva a data:

Data: Hortolândia, 03 de setembro de 2021.

**Vamos usar nosso livro de História:**

- ❖ **Página 22: Como percebemos o tempo passar:** Ler o texto. **Exercício 1:** Como você observa a passagem do tempo?
- ❖ **Página 23: Exercício 2:** Escreva quanto tempo se passou entre as duas situações usando as palavras do quadro. **Exercício 3:** Observe a imagem e responda à questão: Quanto tempo você vai levar para terminar o Ensino Fundamental?
- ❖ **Página 24: Manhã, tarde e noite:** ler o texto. **Exercício 4:** As situações acontecem de manhã, à tarde ou à noite? **Exercício 5:** Leia as atividades descritas nos quadros. Em seguida, selecione a que você realiza em cada período do dia e preencha a tabela.
- ❖ **Página 25: Organizar o tempo:** ler o texto. **Exercício 6:** Vera anotou em sua agenda algumas atividades, leia a agenda dela. Depois, responda quantas atividades Vera registrou no dia 29 de junho de 2019? Em quais períodos do dia?

**Leitura: A lenda da Vitória-Régia. Arquivo enviado via WhatsApp.**