



Quinzena de 14/06 a 25/06

Unidade escolar: EMEF JARDIM AMANDA - CAIC

Componente curricular: Matemática

Professor: Flávio Rogério Pereira Rodrigues

Aluno (a):

Ano: 7º

Correção das Atividades da quinzena de 31/05 a 11/06.

①

- a) Verdadeira
- b) Verdadeira
- c) Falso

②

- a) 1º propriedade (sinais iguais)
- b) 1º propriedade
- c) 2º propriedade (sinais diferentes)
- d) 2º propriedade
- e) 1º propriedade

③

- a) -15 m
- b) -40%
- c) -5°C
- d) +R\$553,00
- e) -R\$258,00
- f) +R\$100,00

④

70	
-27	Lucro de R\$43,00
43	

⑤

a) 2°C	d) 9°C
b) 27°C	e) 21°C
c) -2°C	f) -6°C



Quinzena de 14/06 a 25/06

1ª Atividade de Matemática

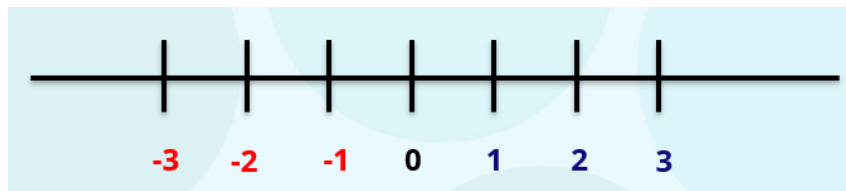
Olá pessoal, nesta quinzena veremos um pouco mais sobre **números negativos**.

Bons estudos.



RETA NUMÉRICA

Uma forma bem simples de representarmos os números negativos é utilizando uma reta numérica como mostra o exemplo abaixo.



NÚMERO OPOSTO OU SIMÉTRICO

Um número será o oposto ou simétrico de outro número quando for representado em uma reta numérica e possuir a mesma distância da origem em relação a outro número.

Considere o número sete positivo (+8). O oposto ou simétrico desse número é o sete negativo (-8). Podemos afirmar que o oposto ou simétrico de +8 é o -8, porque a distância de +8 à origem é igual à distância de -8 à origem.

Lembre-se de que: A origem na reta numérica é o zero.

Temos então que:

- O número oposto ou simétrico de +8 é -8
- O número oposto de -8 é +8.

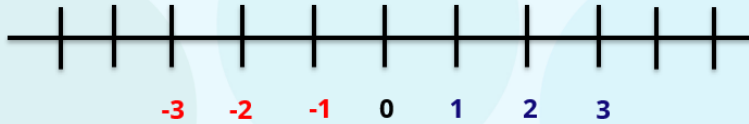


Quinzena de 14/06 a 25/06

ATIVIDADES

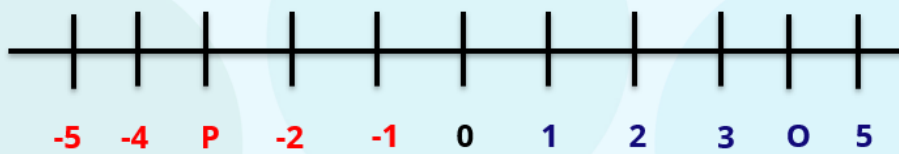
1)

Quais os dois próximos números para a direita e para a esquerda?



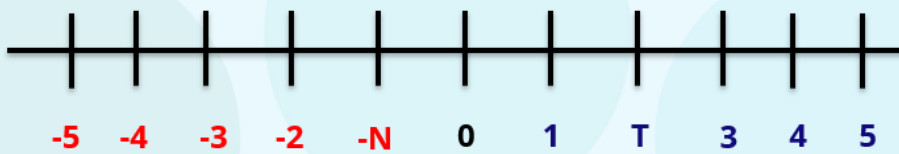
2)

Qual ponto é simétrico de P e O?



3)

Qual ponto é simétrico de N e T?



4)

Qual ponto é simétrico de P, O, N, T e O?





Quinzena de 14/06 a 25/06

5) A tabela abaixo apresenta os resultados de alguns times de futebol ao final de um campeonato, em que é possível verificar o número de gols marcados, sofridos e o saldo final.

Clube	Gols marcados	Gols sofridos	Saldo de gols
São Paulo	46	34	12
Botafogo	38	46	-8
Paraná	18	57	-39
Atlético	54	37	17
Palmeiras	64	26	38
Chapecoense	34	50	-16
Corinthians	34	35	-1

SÃO PAULO-SP. Secretaria da Educação. São Paulo Faz Escola – Caderno do Aluno, 7.º Ano., vol. 2, 2020. p. 62, Matemática.

Analisando a tabela, classifique os times em ordem crescente em relação ao saldo de gols.