




Semana de 14 a 25 de junho de 2021.

Unidade escolar: EMEF Nicolas Thiago dos Santos Lofrani	
Componente curricular: Matemática	
Professor: Raquel Vieira Lopes	
Aluno (a):	Série: 7º ano


ATIVIDADES

1. O piso de uma cozinha está sendo revestido com cerâmica quadrada. Já foram colocadas 9 cerâmicas, como mostra a figura abaixo:



Quantas cerâmicas faltam para cobrir o piso da cozinha?

2. Rafael dividiu uma pizza em oito pedaços iguais e comeu dois. Qual a fração que representa a quantidade que Rafael comeu?



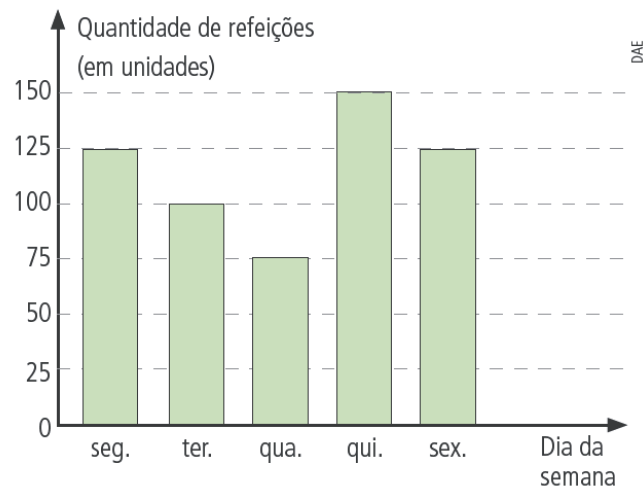
a) $\frac{8}{2}$
b) $\frac{8}{6}$

c) $\frac{6}{8}$
d) $\frac{2}{8}$



3. Observe o gráfico:

Quantidade de refeições servidas em uma escola



- Em que dia da semana foram servidas menos refeições?
 - Qual é o total de refeições servidas durante a semana?
 - Se o custo de cada refeição é R\$ 3,00, qual o valor gasto com o total de refeições servidas durante a semana?
4. Para participar de um jogo, Leandro vai fazer um dado de papel igual a este:



Circule qual molde ele precisa escolher para montar o dado.

