

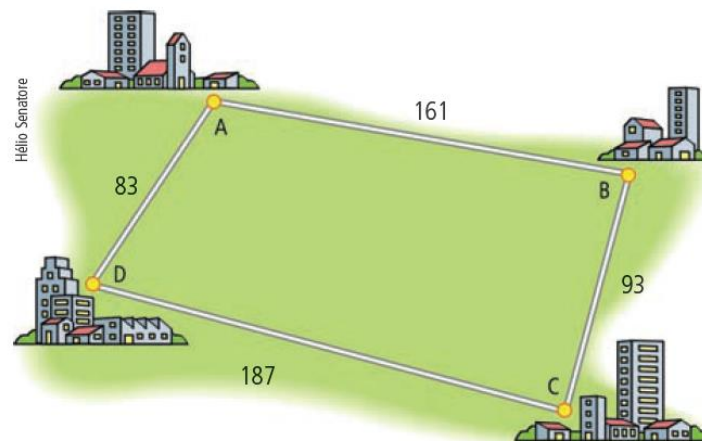


Semana de 14 a 25 de junho de 2021.

Unidade escolar: EMEF Nicolas Thiago dos Santos Lofrani	
Componente curricular: Matemática	
Professor: Raquel Vieira Lopes	
Aluno (a):	Série: 6º ano

ATIVIDADES

1. A figura mostra trechos de uma estrada. Os números indicam quantos quilômetros há em cada trecho.

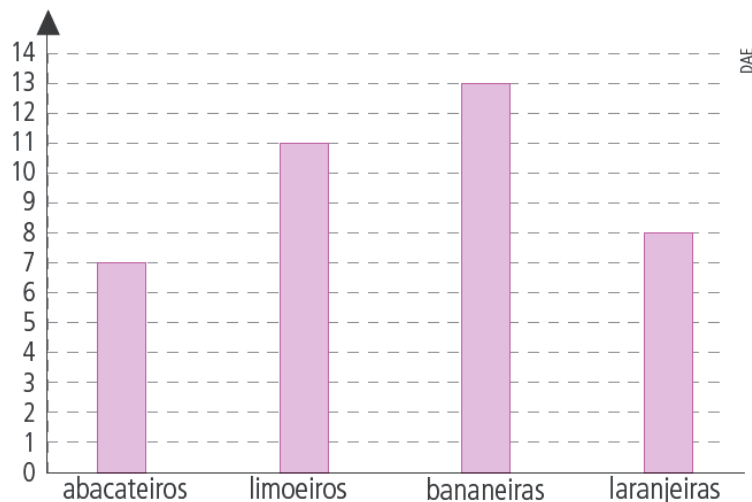


Responda:

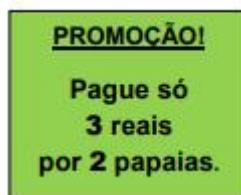
- Quantos quilômetros percorrerá um ônibus para ir de A até C, passando por B?
- Quantos quilômetros percorrerá um automóvel para ir de A até C, passando por D?
- A viagem mais curta é a de ônibus ou a de automóvel? A diferença é de quantos quilômetros?



2. O gráfico abaixo mostra a quantidade de árvores de um sítio:



- Quantas árvores estão plantadas nesse sítio?
 - Qual é o tipo de árvore mais plantada? Quantas?
 - Qual é a diferença entre o número de limoeiros e o de laranjeiras plantadas?
3. Fernando tem, no seu cofrinho, cinco moedas de R\$ 0,05, oito moedas de R\$ 0,10 e três moedas de R\$ 0,25. Qual a quantia que Fernando tem no cofrinho? Mostre como chegou a esse resultado.
4. Dona Jandira foi à feira e, em uma barraca que vendia mamão papaia, havia este anúncio:



Se Dona Jandira quiser comprar 6 papaias, quanto ela irá pagar? Como você chegou a esse resultado?