







Unidade escolar: EMEF CAIC – EMEF CAIO – EMEF NICOLAS TIAGO – EMEF MARLECIENE
Atividades EJA I
Quinzena: 09/08 a 20/08
Professoras: Sirlei – Carla – Francisca - Leila

09/08 – SEGUNDA-FEIRA

PARA REALIZAR A ATIVIDADE ABAIXO, PEÇA AJUDA PARA A SUA PROFESSORA!

1 – VAMOS ESCREVER O SEU NOME COMPLETO! ESCREVA EM SEU CADERNO COM QUE LETRA COMEÇA E COM QUE LETRA TERMINA.

2- OBSERVE AS LETRAS DE CADA PALAVRA. ENCONTRE-AS NO ALFABETO E PINTE-AS. DEPOIS REESCREVA CADA PALAVRA NO ESPAÇO.

 <p>FLOR</p> <hr/>	
 <p>ÁRVORE</p> <hr/>	

Prefeitura Municipal de Hortolândia
Secretaria de Educação, Ciência e Tecnologia.

3.OBSERVE QUE NA CENA ABAIXO APARECEM ALGUMAS CRIANÇAS BRINCANDO:



A)QUANTAS CRIANÇAS ESTÃO SEGURANDO A FAIXA COM O NOME DO PARQUE? ____

B) QUANTAS CRIANÇAS ESTÃO BRINCANDO COM BOLA?_____

C) QUANTAS CRIANÇAS ESTÃO ANDANDO DE BICICLETA?_____


D) QUANTAS CRIANÇAS ESTÃO BALANÇANDO?_____

E) QUANTAS CRIANÇAS ESTÃO BRINCANDO NO ESCORREGADOR?_____

10/08 – TERÇA-FEIRA

1- VAMOS FORMAR PALAVRAS SOBRE O MEIO AMBIENTE? REGISTRE EM SEU CADERNO.

Prefeitura Municipal de Hortolândia
Secretaria de Educação, Ciência e Tecnologia.

1	2	3	4	5	6	7	8
A	B	C	D	E	F	G	H
9	10	11	12	13	14	15	16
I	J	L	M	N	O	P	Q
17	18	19	20	21	22	23	
R	S	T	U	V	X	Z	

8	14	12	5	12
---	----	----	---	----

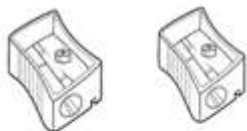
15	11	1	13	5	19	1
----	----	---	----	---	----	---

1	13	9	12	1	9	18
---	----	---	----	---	---	----

1	7	20	1
---	---	----	---

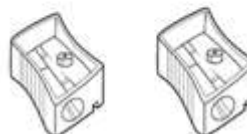
18	14	11
----	----	----

2.ESCREVA A QUANTIDADE DE OBJETOS DE CADA ITEM EM SEU CADERNO,
 COM ALGARISMOS E POR EXTENSO.



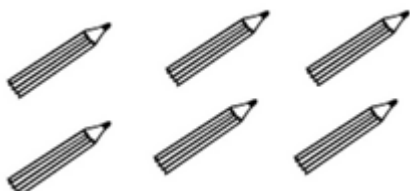
ALGARISMO: _____

POR EXTENSO: _____



ALGARISMO: _____

POR EXTENSO: _____



ALGARISMO: _____

POR EXTENSO: _____

Prefeitura Municipal de Hortolândia
Secretaria de Educação, Ciência e Tecnologia.

11/08 – QUARTA-FEIRA

1- ABAIXO TEM ALGUNS NOMES DE PESSOAS. CIRCULE OS NOMES QUE CONSEGUIR LER.

JULIANA – ANTONIA- GISLAINE- BETANIA – ALINE- PEDRO

2- OBSERVE OS NOMES ABAIXO. PINTE COM A MESMA COR AS LETRAS IGUAIS.

A	L	Z	I	R	A	
A	N	T	O	N	I	A
A	I	L	T	O	N	
C	A	R	L	O	S	
S	A	N	D	R	A	

12/08 – QUINTA-FEIRA

1.OBSERVE O ALFABETO ABAIXO E ESCREVA UTILIZANDO ALGARISMOS, A QUANTIDADE DE VEZES QUE CADA LETRA APARECE. REGISTRE EM SEU CADERNO.

B A B C B D A C
E D C D D C D C D

A = _____

B = _____

Prefeitura Municipal de Hortolândia
Secretaria de Educação, Ciência e Tecnologia.

C = _____

D = _____

E = _____

2- VOCÊ SABIA?

ENCONTRAMOS A ÁGUA EM TRÊS ESTADOS. PARA SABER MAIS, ASSISTA AO VÍDEO: <https://www.youtube.com/watch?v=f4jiAOfSCZE>, ACESSO EM 08/08/2021.

O QUE ACHA DE OBSERVAR OS ESTADOS DA ÁGUA EM SUA PRÓPRIA CASA?

13/08 – SEXTA-FEIRA

2- NA SUA INFÂNCIA VOCÊ RECITAVA O TEXTO ABAIXO?

A GALINHA DO VIZINHO

BOTA OVO AMARELINHO

BOTA UM ,BOTA DOIS, BOTA TRÊS ,BOTA QUATRO

BOTA CINCO,BOTA SEIS ,BOTA SETE ,BOTA OITO



BOTA NOVE, BOTA DEZ.



AGORA, ESCREVA UTILIZANDO ALGARISMO, OS NÚMEROS QUE APARECEM NA MÚSICA ACIMA EM SEU CADERNO.

16/08 – SEGUNDA-FEIRA:

1- MANOELA E SEUS AMIGOS ESTÃO BRINCANDO COM DADOS. CADA JODADOR LANÇA DOIS DADOS E CONTA OS PONTOS OBTIDOS. OBSERVE OS PONTOS OBTIDOS POR ELES EM UMA RODADA.

			
MANOELA	CARLOS	PAULA	BRENO

Prefeitura Municipal de Hortolândia
Secretaria de Educação, Ciência e Tecnologia.

A) QUANTOS PONTOS CADA JOGADOR OBTEVE NESSA RODADA?

MANOELA= _____

CARLOS= _____

PAULA= _____

BRENO= _____

B) QUEM OBTEVE MAIS PONTOS? _____

C) QUEM OBTEVE MENOS PONTOS? _____

D) ESCREVA POR EXTENSO A QUANTIDADE DE PONTOS OBTIDOS POR CADA PESSOA.

MANOELA= _____

CARLOS= _____

PAULA= _____

BRENO= _____


17/08 – TERÇA-FEIRA

VAMOS ESCREVER A LETRA INICIAL DE CADA FIGURA? VEJA O ALFABETO ABAIXO:

A – B- C- D- E- F- G- H- I- J- K -
L- M- N -O- P- Q- R- S- T- U- V-
W-X- Y- Z



_____ LANETA



_____ OL

Prefeitura Municipal de Hortolândia
Secretaria de Educação, Ciência e Tecnologia.

18/08 – QUARTA-FEIRA

VAMOS ESCREVER A LETRA INICIAL DE CADA FIGURA? VEJA O ALFABETO ABAIXO:

A – B- C- D- E- F- G- H- I- J- K -
L- M- N -O- P- Q- R- S- T- U- V-
W-X- Y- Z



_____ASA



_____EÃO

Prefeitura Municipal de Hortolândia
 Secretaria de Educação, Ciência e Tecnologia.

Relacione as palavras com os objetos no quadro e complete o diagrama abaixo:

RELACIONE

- PAPEL
- PLÁSTICO
- ORGÂNICO
- METAL
- VIDRO

Diagrama de palavras cruzadas:

- 1. Vertical, 5 cells.
- 2. Vertical, 6 cells.
- 3. Horizontal, 4 cells, intersecting the middle of 2.
- 4. Vertical, 7 cells.
- 5. Horizontal, 8 cells, intersecting the bottom of 1.

19/08 – QUINTA-FEIRA:

H	O	M	E	M	P	L	A	N	T	A	S
	O						A				
			E								S
				M		L			T		

Prefeitura Municipal de Hortolândia
Secretaria de Educação, Ciência e Tecnologia.

20/08 – SEXTA-FEIRA

1- ENVIE PARA SUA PROFESSORA UM ÁUDIO CONTANDO COMO ECONOMIZA ÁGUA.