



Prefeitura Municipal de Hortolândia
Secretaria de Educação, Ciência e Tecnologia.

Unidade escolar: EMEF CAIC – EMEF CAIO – EMEF NICOLAS TIAGO – EMEF MARLECIENE
Atividades EJA I
Quinzena: 23/08 a 03/09/2021
Professoras: Sirlei – Lidiane – Francisca - Leila

OLA ALUNOS!

- 1) VOCÊ OU ALGUÉM DA SUA FAMÍLIA COSTUMA IR AO MERCADO? SEGUE ABAIXO UM ALFABETO DE PRODUTOS QUE GERALMENTE ENCONTRAMOS NO MERCADO. TENDE LER PARA A PROFESSORA.



2) AGORA QUE JÁ LEU. FAÇA UMA LISTA DOS PRODUTOS QUE NÃO PODE FALTAR NA SUA CASA.

1. _____

2. _____

3. _____

4. _____

5. _____

6. _____

3) NO ALFABETO PODEMOS OBSERVAR VÁRIOS PRODUTOS QUE INICIAM COM AS LETRAS DO ALFABETO. QUAL LETRA QUE INICIA SEU NOME?

4) QUAL O PRODUTO QUE ESTÁ EM FRENTE A LETRA INICIAL DO SEU NOME?

5) VOCÊ CONSEGUE ESCREVER SEU NOME COMPLETO? ESCREVA O QUE CONSEGUIR?

VAMOS LER?



DAS PALAVRAS QUE VOCÊ LEU, ESCREVA AQUELAS DE QUE VOCÊ MAIS GOSTA.

QUANTAS PALAVRAS VOCÊ ESCREVEU?

1	2	3	4	5	6	7	8	9	10	11
---	---	---	---	---	---	---	---	---	----	----

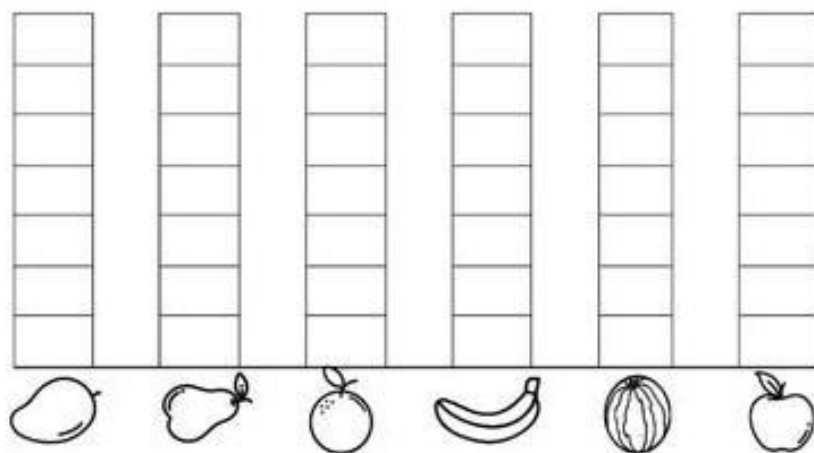

6) A ÚLTIMA VEZ QUE FOI AO MERCADO, QUAL PRODUTO DE LIMPEZA VOCE COMPROU? ESCREVA O NOME ABAIXO E CASO NÃO CONSIGA PODE DESENHAR.



7) E NA SEÇÃO DE HIGIENE O QUE COMPROU?

[Empty rectangular box for writing the answer to question 7.]

8) NA SEÇÃO DE FRUTAS, TINHA AS SEGUINTE FRUTAS.



B) QUAL FRUTA TEVE A MAIOR QUANTIDADE _____

C) QUAL FOI ESSA QUANTIDADE _____


9)

PROCURE E PINTE NO CAÇA-PALAVRAS OS NOMBES DOS PRODUTOS ABAIXO. QUANDO ENCONTRAR A PALAVRA, MARQUE UM X NO RÓTULO



P	I	L	Ã	O	W	I
B	K	I	B	O	N	W
M	R	L	U	X	Y	X
E	D	U	A	R	D	O
T	A	D	E	S	W	I

10) TENTE ESCREVER OS NOMES DAS FRUTAS ABAIXO:













11) ESCREVA O QUE A FAMÍLIA SOUZA COMPROU NA FEIRA DE DOMINGO:

12) QUAIS SÃO FRUTAS?

13) QUAIS USARAM PARA FAZER A SALADA? _____

14) CARLOS TEM UMA BARRACA DE PASTEL NA FEIRA. OBSERVE A TABELA DE PREÇO.

SABOR	PREÇO
QUEIJO	5,00
FRANGO	6,00
CARNE	7,00
PIZZA	8,00

A) ELE VENDEU 3 PASTEIS DE QUEIJO, QUAL TOTAL? _____

B) 6 PASTEIS DE FRANGO, QUAL TOTAL? _____

C) 2 PASTEIS DE CARNE, QUAL TOTAL? _____

D) 10 PASTEIS DE PIZZA, QUAL TOTAL? _____

E) QUAL A QUANTIDADE TOTAL DE PASTÉIS QUE CARLOS VENDEU? _____

15) FAÇA UM TEXTO DIZENDO O QUE COMPRARIA NO MERCADO COM R\$ 30,00 (TRINTA) REAIS:

PARABÉNS PELO ESFORÇO!
CONCLUIU TODAS AS ATIVIDADES, DESSA QUINZENA.

